

Д
Р
О
Б
Ь



Д
О
Л
Я

Царство дроби



(c) ~fairy_tale~

RC-MIR.com

Кластер



Выполни задания.



Прочитайте дроби

$$\frac{1}{45} ; \frac{1}{56} ; \frac{1}{6} ; \frac{1}{8} ; \frac{1}{48}$$



Выполни задание.



Назовите числитель и знаменатель
каждой дроби

$$\frac{7}{12} ; \frac{3}{5} ; \frac{4}{7} ; \frac{1}{8} ; \frac{2}{9}$$



Остров Дробей



ЗАДАНИЕ №1



Запишите в виде обыкновенной дроби.

1. Две седьмых $\frac{2}{7}$;

2. Четыре девярых $\frac{4}{9}$;

3. Одна сотая $\frac{1}{100}$;

4. Шесть восьмых $\frac{6}{8}$;

5. Три двадцать пятых $\frac{3}{25}$;

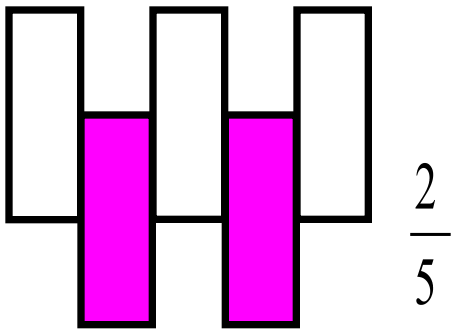
$\frac{1}{2}$.

6. Одна вторая

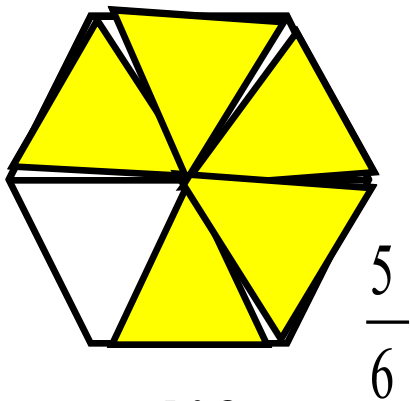
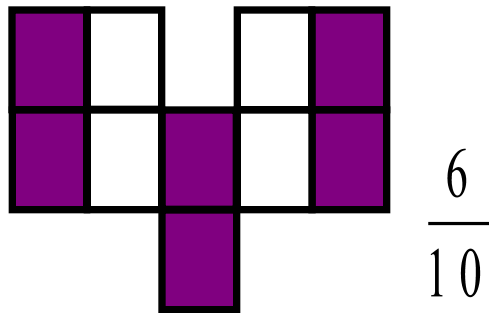


Назовите какая часть фигуры закрашена?

№ 1



№ 2

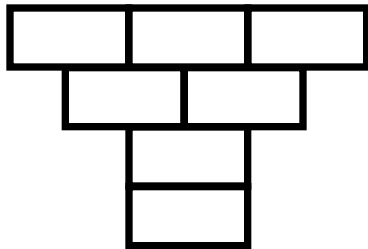


№3


ЗАДАНИЕ №2

Закрасьте карандашом нужную часть фигуры

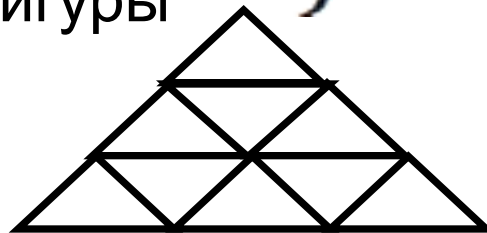
1. Закрасьте $\frac{3}{7}$ фигуры



2. Закрасьте $\frac{2}{5}$ фигуры

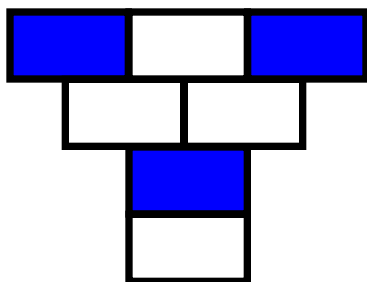


3. Закрасьте $\frac{4}{9}$ фигуры



РЕШЕНИЕ

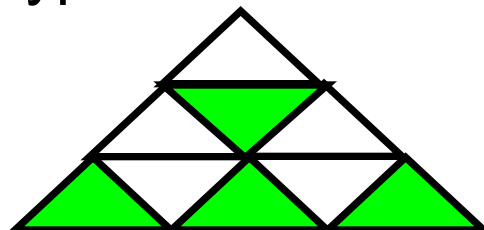
1. Закрасьте $\frac{3}{7}$
фигуры



2. Закрасьте $\frac{2}{5}$
фигуры



3. Закрасьте $\frac{4}{9}$
фигуры



ФИЗКУЛЬТМИНУТКА

А теперь, ребята, встать,
Руки медленно поднять,
Пальцы сжать, потом разжать,
Руки вниз и так стоять.

Наклонись ты вправо, влево
Упражненье делай смело!
Вниз потянемся, пройдемся,
И на место вновь вернемся.



Магазин ЧИСЛОВЫХ ЗАДАЧ



ЗАДАНИЕ №3



Задача

У Васи было 350 тенге.

Он потратил $\frac{5}{7}$ своих денег.

Сколько денег
у него осталось?



РЕШЕНИЕ



$$350 : 7 = 50 \text{ (тг)}$$

$$50 \cdot 5 = 250 \text{ (тг)}$$

$$350 - 250 = 100 \text{ (тг)}$$

ОТВЕТ: осталось 100 тенге



Домашнее задание

В прошлом месяце цена товара составляла 90 тенге. Теперь она понизилась на $\frac{3}{10}$ этой суммы. Какова теперь цена товара?

Оценка

15 — 16 баллов

«5»

13 — 14 баллов

«4»

10 — 12 баллов

«3»

0 — 9 баллов

«2»