

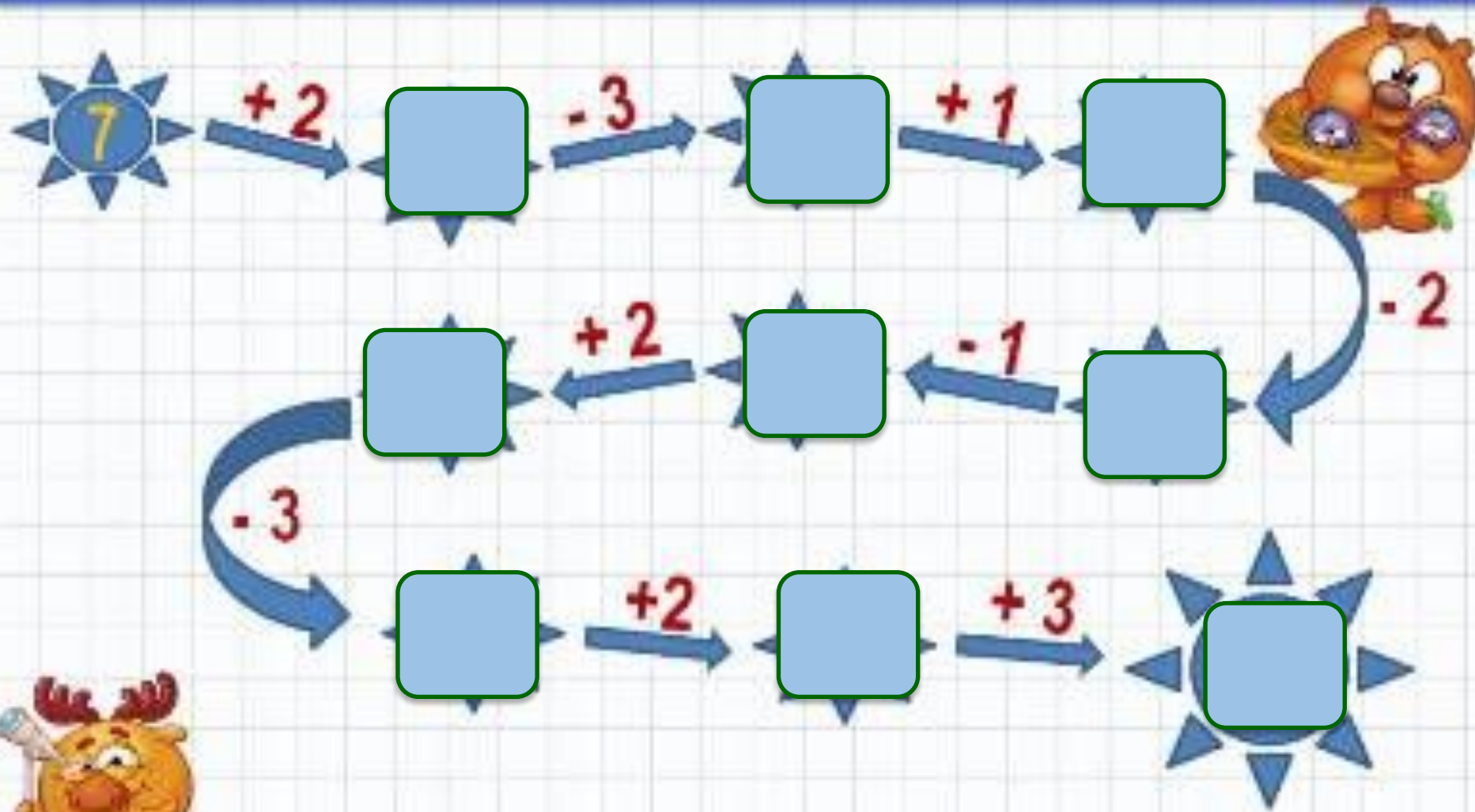
Посчитай-ка!



Математическая
разминка в 1 классе



Решите Цепочку



Составь и реши задачу


□ Было -



Приехало -



Стало - ?



На ветке сидели -



Улетели -



Осталось - ?



$8 + 2 = 10$

$7 + 3 = 10$

$6 + 4 = 10$

$5 + 5 = 10$

$7 + 3 = 10$

$2 + 2 = 10$

$6 + 4 = 10$

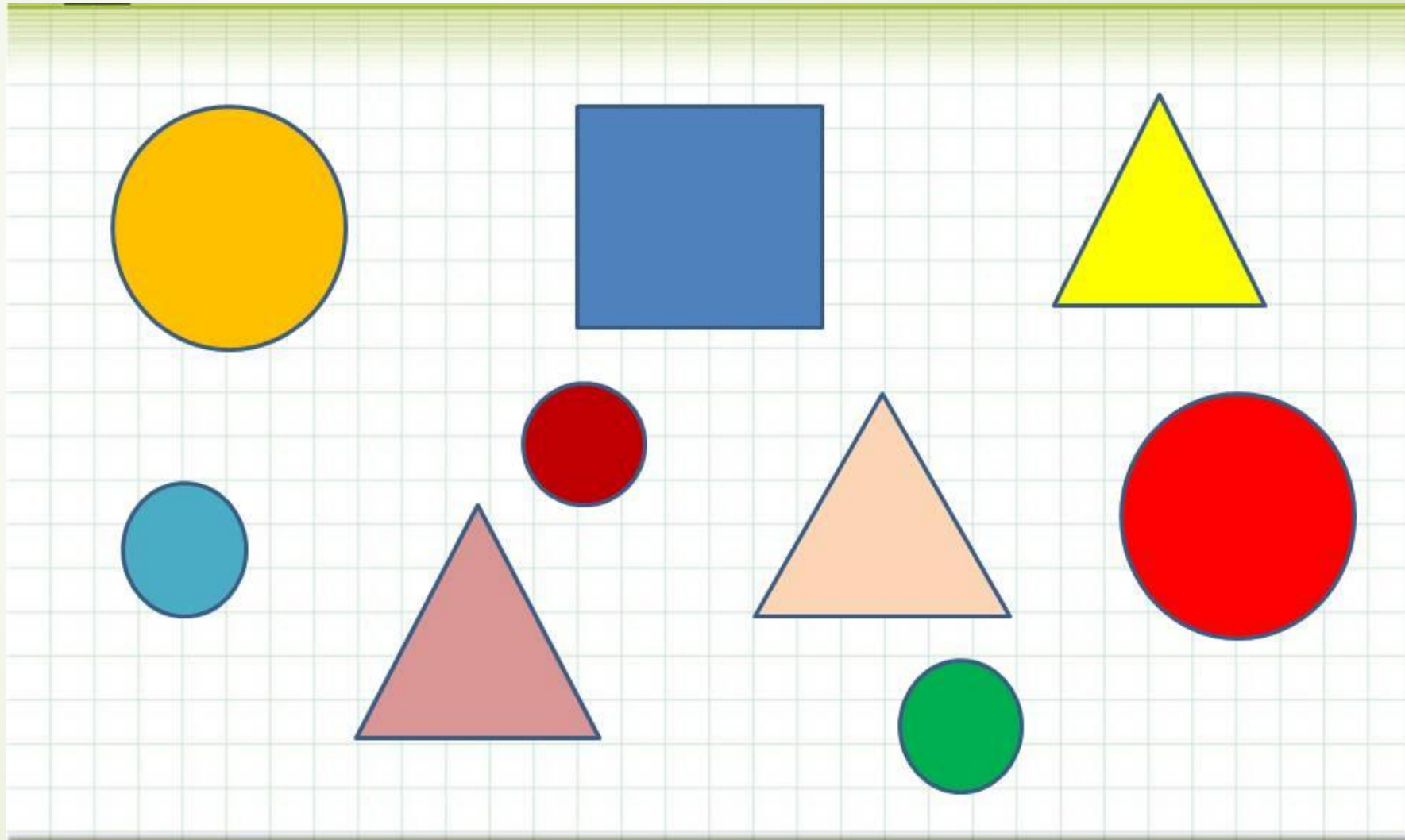
$9 + 1 = 10$

1 2 3 4 5 6 7 8



□ Назовите фигуры

□ Распределите по признакам



Поставьте нужный знак

$4 \square - 3 = 1$

$5 \square + 4 = 9$

$1 \square + 4 = 5$

$6 \square - 3 = 3$

$2 \square + 4 = 6$

$7 \square - 5 = 2$



Составьте неравенства



$$2 < 4$$



$$5 > 2$$



$$3 < 6$$



СПАСИБО



МОЛОДЦЫ