


Реши задачи.


Сеть тяну, рыбу ловлю.
Попалось немало:
7 окуней, 10 карасей,
1 ершок – и того в горшок.
Уху сварю, всех угощу.
Сколько рыбок я сварю?

18





Скоро небо содрогнется,
Дождь на небо прольется.
Вот уже спрятались семь козлят,
Залезли под бревна шесть щенят
Теленок ушел под навес,
Петух залез на насест.
Посчитайте без меня
Всех, кто спрятался от дождя




Плывут утята, играют, ныряют,
А мама утка следит за ними, считает:
Три пестрых, три серых, пять желтых утят –
Трудно всех их сосчитать.
Мама утке помогите,
Сколько всех утят скажите!

11



Мы утят своих считали
И, конечно же, устали.
Восемь плавали в пруду
Трое спрятались в саду
Пятеро в траве галдят.
Кто поможет из ребят
Сосчитать мне всех утят?



Порядок выполнения

действий.

Скобки.

- $20-9+8=19$

- $20-9+8=3$

- $20-(9+8)=3$

1). $9+8=17$

2). $20-17=3$

Скобки. (Учебник стр.38)

- Из числа 10 вычесть сумму чисел 6 и 3:

$$10 - (6 + 3) = 1$$

- К числу 9 прибавить разность чисел 8 и 5:

$$9 + (8 - 5) = 12$$

Прочитай записи и выполни действия. (Учебник стр.38 №1)

$$6 + (3 + 1) =$$

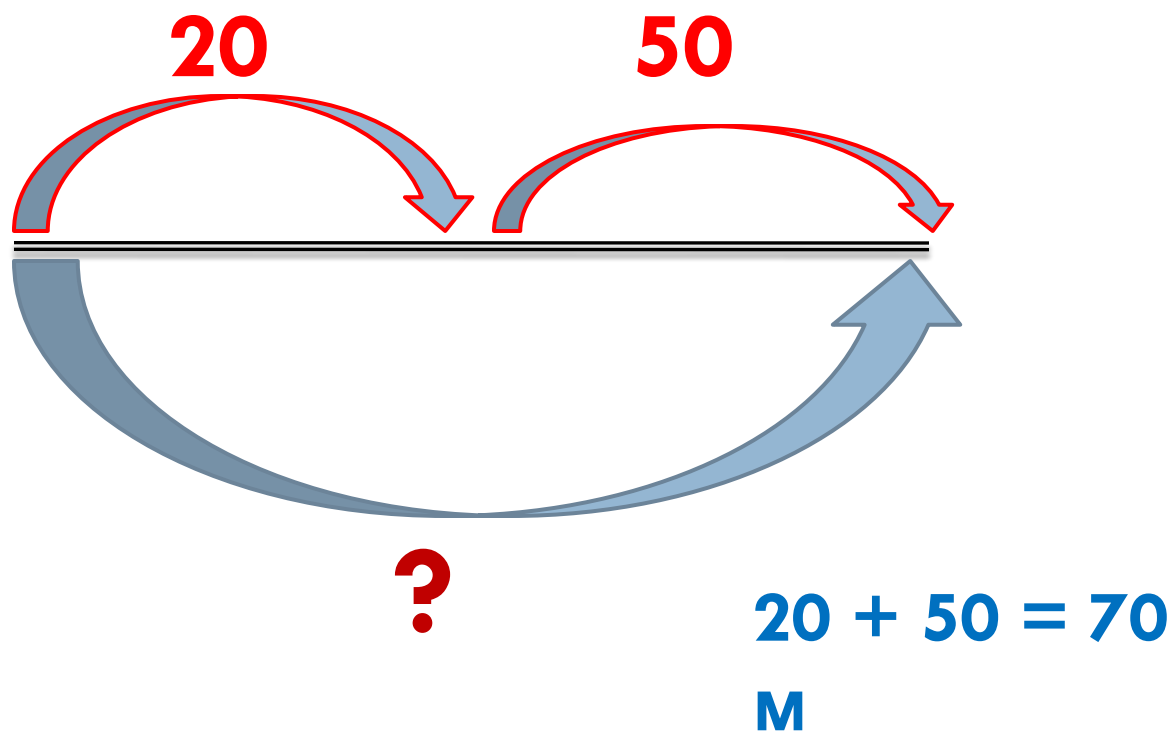
$$8 - (2 + 3) =$$

$$(6 + 3) + 1 =$$

$$(8 - 2) + 3 =$$

Действия, записанные в скобках, выполняют первыми.

Реши задачу. (стр.39 №6)



Какие фигуры изображены на чертеже? На какие две группы их можно разбить? (стр. 39 №7)

