



Гульшат Ильясовна



Stock Photo - csn157





**Говорят, что день
надо начинать
с утренней гимнастики,
а урок математики –
с гимнастики ума.**



Прочитайте дроби

$$\frac{2}{8}$$


$$\frac{3}{8}$$

$$\frac{5}{10}$$

$$\frac{4}{8}$$

$$\frac{5}{12}$$


$$\frac{5}{6}$$





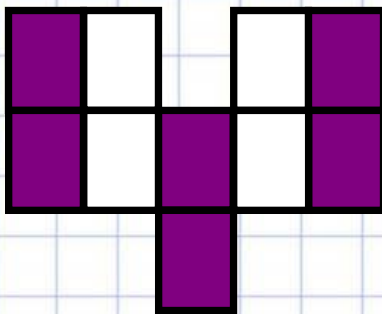
какая часть фигуры закрашена?

№1



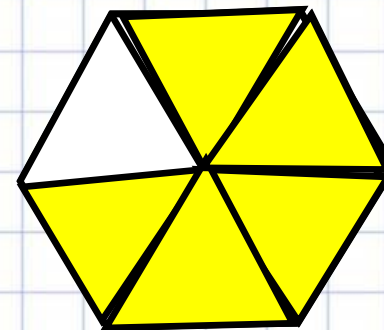
$$\frac{2}{5}$$

№2



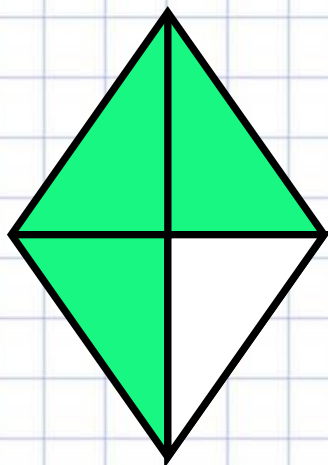
$$\frac{6}{10}$$

№3



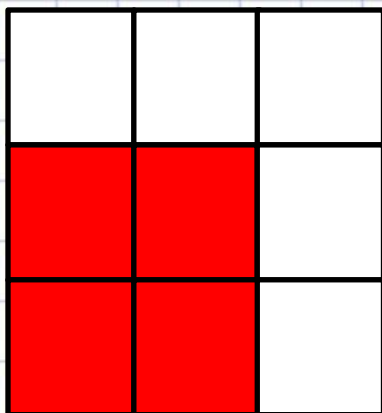
$$\frac{5}{6}$$

№4




$$\frac{3}{4}$$

№5



$$\frac{4}{9}$$

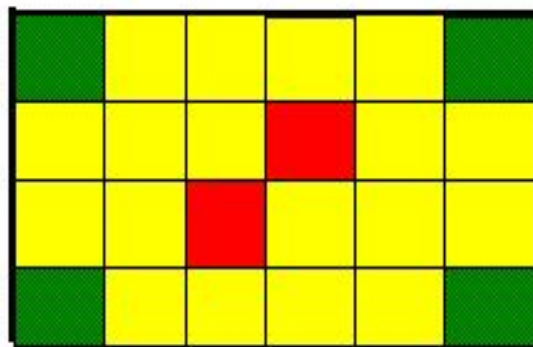
№6



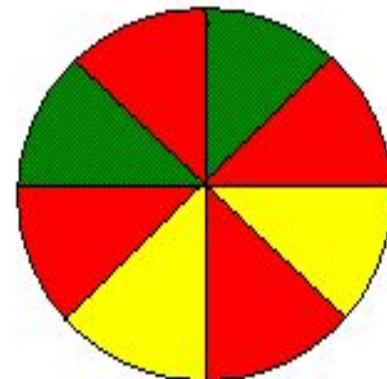
$$\frac{6}{12}$$

«Багаж знаний»

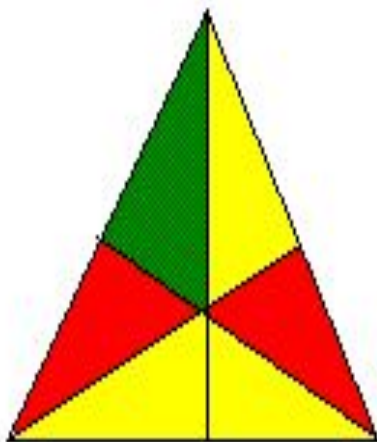
МИНИ-ТЕСТ



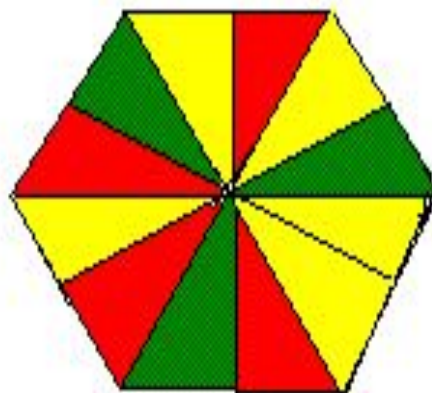
A



B



C



D



Проверка



«5» – всё верно,

«4» – 1-2 ошибки,

«3» – 3 ошибки

Укажите дробь, соответствующую части фигуры, закрашенную

1 вариант

	A	B
Красным цветом	$\frac{2}{24}$	$\frac{4}{8}$
Зеленым цветом	$\frac{4}{24}$	$\frac{2}{8}$
Желтым цветом	$\frac{18}{24}$	$\frac{2}{8}$

Укажите дробью часть фигуры, закрашенную

2 вариант

	C	D
Красным цветом	$\frac{2}{6}$	$\frac{4}{12}$
Зеленым цветом	$\frac{1}{6}$	$\frac{3}{12}$
Желтым цветом	$\frac{3}{6}$	$\frac{5}{12}$



Продолжите предложения:

Дробь это... одна или несколько равных долей целого.

Мы умеем дроби читать, ...

записывать, изображать на координатном луче.



Разбейте на группы:

2
—

5
—

4
—

?

5
—

3
—

5
—

8 ¹ группа

6

8

10

2 группа

8

12



15 января.

Сравнение

д

$$\frac{2}{8} \quad \frac{4}{8} \quad \frac{3}{8}$$



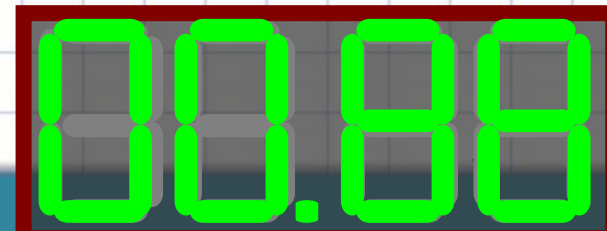
$$\frac{5}{6} \quad \frac{5}{10} \quad \frac{5}{12}$$



Сравните и сделайте вывод:

$$\frac{3}{8} \quad \text{и} \quad \frac{4}{8} \qquad \frac{5}{12} \quad \text{и} \quad \frac{5}{6}$$

- Из двух дробей...





Вывод:

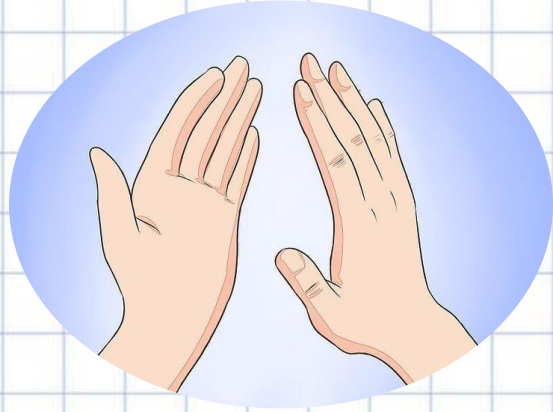
- Из двух дробей с одинаковыми знаменателями больше та, числитель которой больше. $\frac{3}{8} < \frac{4}{8}$
- Из двух дробей с одинаковыми числителями больше та, знаменатель которой меньше. $\frac{5}{12} < \frac{5}{6}$

$$\frac{5}{12} < \frac{5}{6}$$



Стр.148, № 946



Физкультминутка:



ИЛИ




МОЛОДЦЫ!




№ 945 (письменно)

- **1 вариант:** в порядке

возрастания 

$$\begin{array}{cccccc} \frac{1}{12} & \frac{4}{12} & \frac{5}{12} & \frac{7}{12} & \frac{9}{12} & \frac{11}{12} \end{array}$$

- **2 вариант:** в порядке убывания

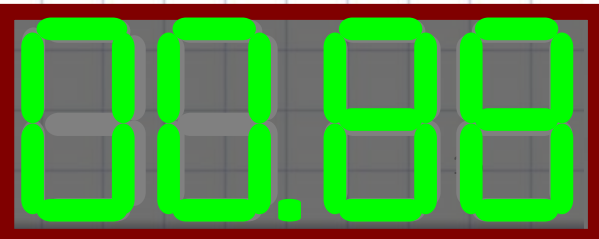


$$\begin{array}{cccccc} \frac{11}{12} & \frac{9}{12} & \frac{7}{12} & \frac{5}{12} & \frac{4}{12} & \frac{1}{12} \end{array}$$



Мини-тест №2

Дроби





Мини-тест №2

«5» – всё верно,

«4» – 1 ошибка,

«3» – 2 ошибки

1 в.

2 в.

1 – А

1 – В

2 – А

2 – А

3 – С

3 – С

4 – А

4 – А

5 – В

5 – А





Оцени свою работу на уроке

✓ Урок полезен, всё понятно.

✓ Лишь кое-что чуть-чуть неясно.

✓ Ещё придётся потрудиться.
Да, трудно всё-таки учиться!





Спасибо за урок!
До новых встреч!

