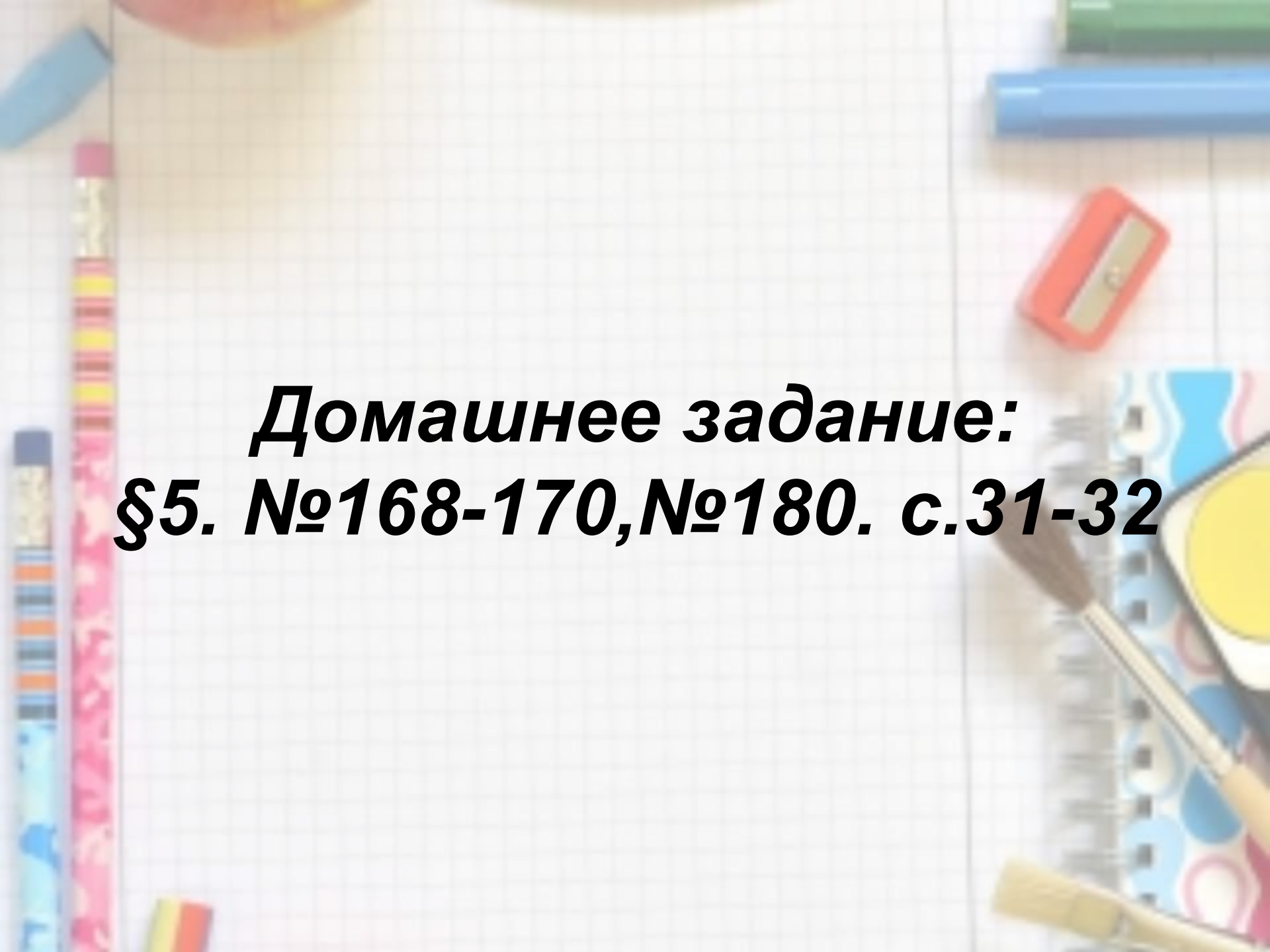


A top-down view of a desk with various school supplies. On the left, there are several pens and pencils in different colors (blue, pink, yellow, orange). In the center, a white grid-patterned notebook is open. On the right, there is a red pencil sharpener, a blue spiral notebook with a colorful cover, and a yellow pencil. The background is a light-colored wooden desk.

Меньше или больше

20.09.2018

A top-down view of a desk with various school supplies. On the left, there are several pencils and pens in different colors (blue, pink, yellow, orange). In the center, a red pencil sharpener is visible. On the right, there is a spiral notebook with a colorful cover (blue, yellow, pink) and a pencil resting on it. The background is a white grid-patterned surface.

***Домашнее задание:
§5. №168-170, №180. с.31-32***

1. Запишите цифрами числа:
 - а) две тысячи пятьсот восемь;
 - б) семьсот миллионов четыреста две тысячи три.
2. Отметьте точки C и D на расстоянии 5 см друг от друга. Проведите через эти точки прямую и отложите на ней отрезок CM длиной 3 см 5 мм так, чтобы точка C лежала между точками M и D . Найдите длину (в миллиметрах) отрезка DM .
3. Начертите координатный луч, приняв за единичный отрезок длину одной клетки тетради. Отметьте на построенном луче:
 - а) точку $A(11)$;
 - б) точку B , расположенную на 6 клеток левее точки A ;
 - в) точку D – середину отрезка AB .Определите координаты точек B и D .
4. Расположите числа 3248; 3589; 3219 в порядке убывания.
5. Запишите самое маленькое пятизначное число, все цифры которого различны.
6. Для нумерации страниц в книге было использовано 432 цифры. Сколько страниц в этой книге?

Из двух натуральных чисел меньше то, которое при счете называют раньше, и больше то, которое при счете называют позже

1, 2, 3, 4, 5, 6, 7, 8, 9, 10

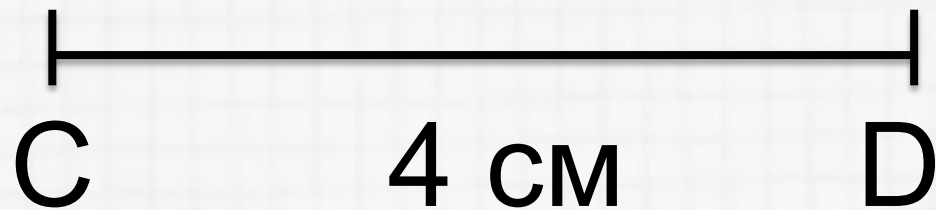
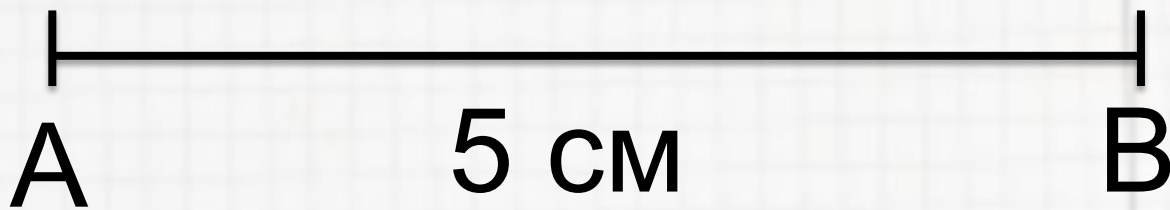
4 меньше 8

$$4 < 8$$

8 больше 4

$$8 > 4$$

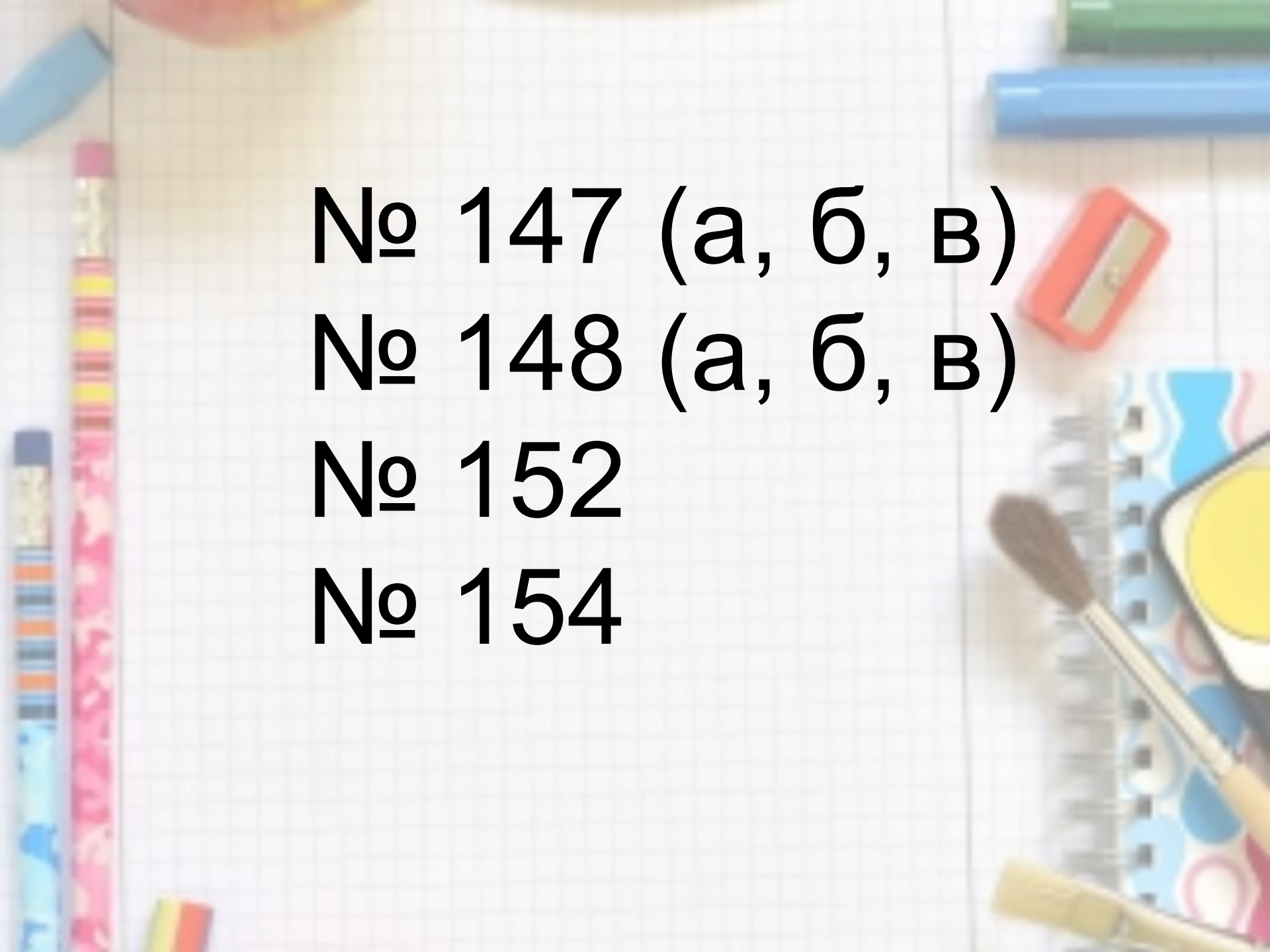
Знаками $<$ и $>$ обозначают также результат сравнения отрезков



$$AB > CD$$

Результат сравнения двух чисел записывают в виде **двойного неравенства**

$$1 < 2 < 3$$

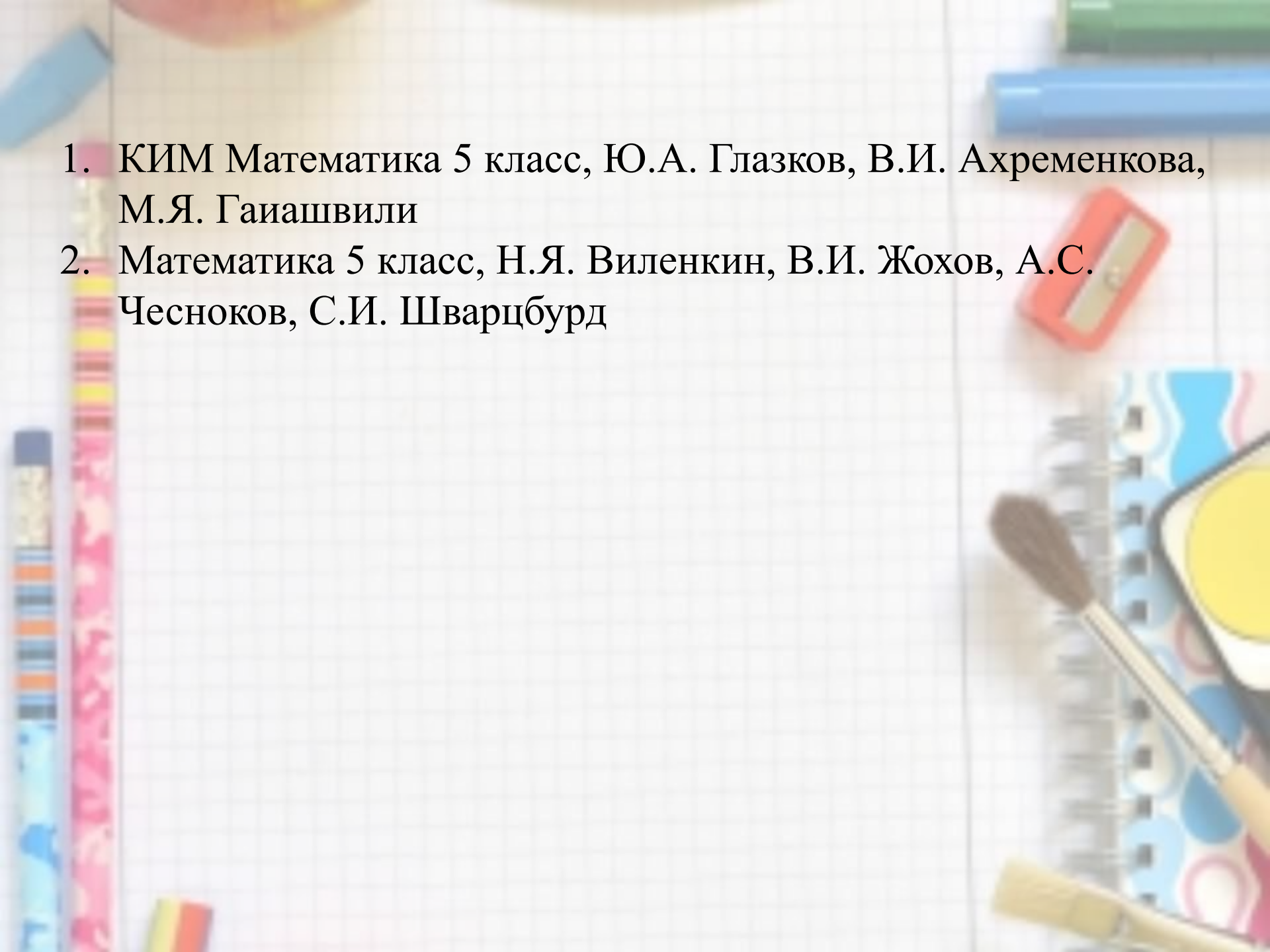
The background of the image is a close-up of a white grid-patterned notebook. Various school supplies are scattered around the edges, including a blue pencil, a red pencil sharpener, a blue highlighter, a yellow pencil, a blue spiral notebook, and a yellow pencil. The text is centered on the grid.

№ 147 (а, б, в)

№ 148 (а, б, в)

№ 152

№ 154

- 
1. КИМ Математика 5 класс, Ю.А. Глазков, В.И. Ахременкова, М.Я. Гаиашвили
 2. Математика 5 класс, Н.Я. Виленкин, В.И. Жохов, А.С. Чесноков, С.И. Шварцбурд