

ОБЫКНОВЕННЫЕ ДРОБИ

5 КЛАСС

Автор: Абдуллаева А.З.

Тип урока

Урок обобщения, систематизации и контроля знаний.

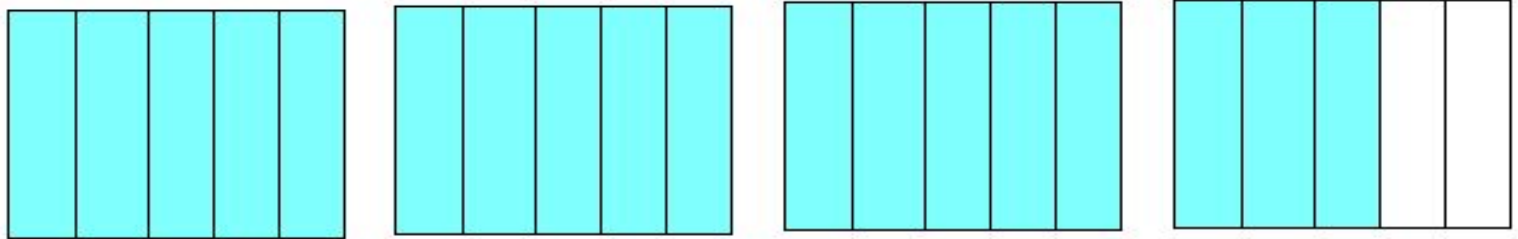
Содержание урока:

- доли и дроби;
- правильные и неправильные дроби;
- смешанные числа и действия с ними.

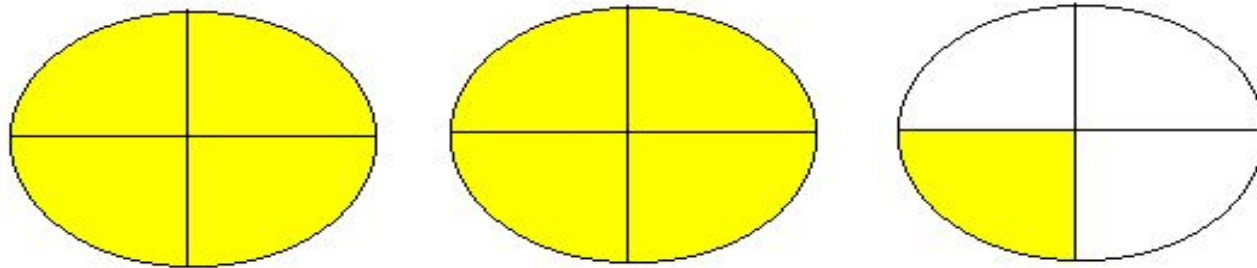
Задание №1

- Составь смешанное число и перейди к неправильной дроби.

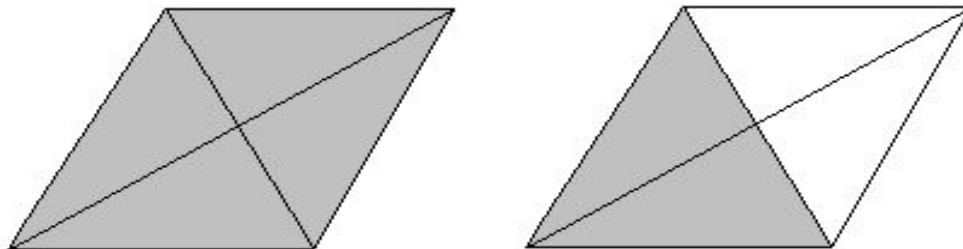
А)



Б)

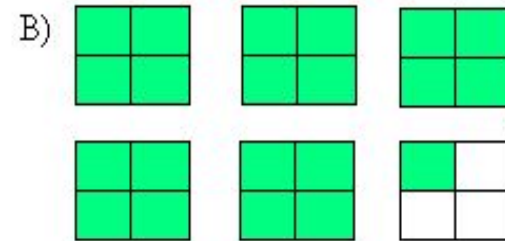
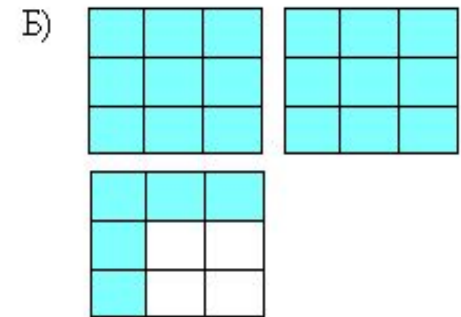
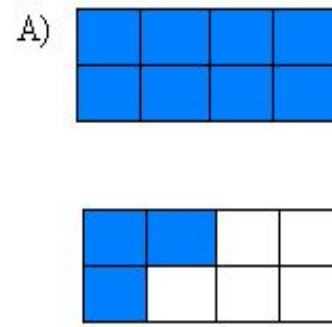
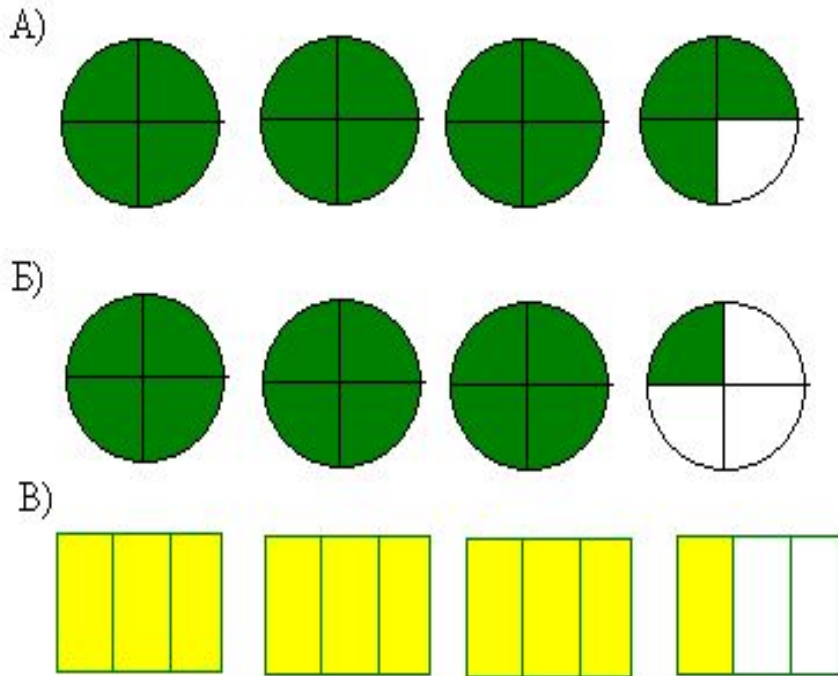


В)



Задание №2

- Изучи каждый рисунок, составь неправильную дробь и перейди к смешанному числу.



Задание №3

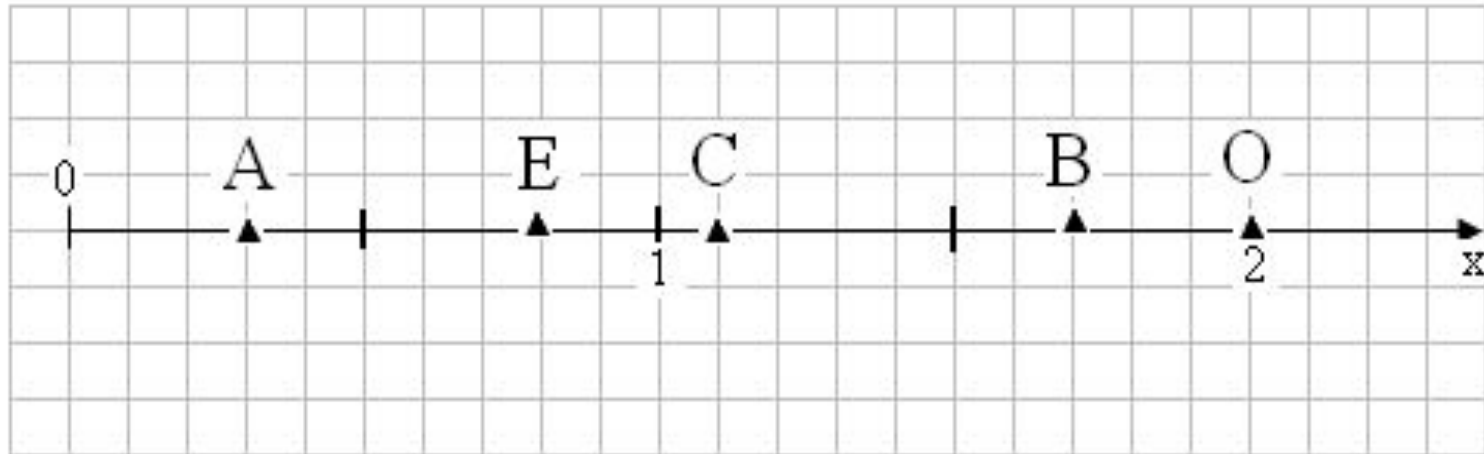
- Прочитай правильные дроби, неправильные дроби, смешанные числа. Дай определение правильной и неправильной дроби.

$$\frac{1}{4}; 2\frac{2}{3}; \frac{7}{7}; \frac{11}{9}; 5\frac{1}{8}; \frac{12}{57}; \frac{13}{11};$$

$$\frac{81}{100}; \frac{6}{5}; \frac{23}{15}; 17\frac{1}{2}; \frac{17}{15}; \frac{88}{88}; \frac{33}{95}.$$

Задание №4

- **Определи координаты обозначенных точек на координатном луче. Что называют координатным лучом?**



Задание №5

- Расположи дроби в порядке возрастания с соответствием букв, и ты прочтешь имя древнегреческого ученого – основателя библиотеки в городе Александрии, жившего в Древнем Египте во II веке до н.э. Он впервые высказал предположение о том, что Земля имеет круглую форму.

13 / 24	21 / 24	6 / 24	3 / 24	8 / 24	23 / 24	22 / 24	19 / 24	4 / 24
О	Ф	А	Э	Т	Н	Е	С	Р

Задание №6

- **Расположи отношения в порядке убывания, и ты прочтешь название самой маленькой страны в мире.**

16:21	6:21	8:21	19:21	5:21	11:21	13:21
А	А	К	В	Н	И	Т