



Вычислите устно:

1) $0,3 + 0,1 + 0,7$

2) $1,7 + 2 + 3,4$

3) $0,8 - 0,3 - 0,2$

4) $0,9 - 0,3 + 0,4$

5) $2,6 + 7,4 - 0,5$

6) $0,2 - 0,1 + 0,8$

7) $3,5 + 4 + 23$

8) $0,5 + 0,4 + 0,1$

9) $3,9 - 1,2 - 1,3$

10) $1,7 + 2,1 - 1,4$

Как складывают и вычитают десятичные дроби?



«Сложение и вычитание десятичных дробей»



Задачи урока:

- * вывести правило сложения и вычитания десятичных дробей;
- * научиться применять правило сложения и вычитания десятичных дробей на практике.



Время – поразмыслить вместе!

$$3,7 + 2,65 = ?$$

$$3,7 - 2,65 = ?$$



Время – делать выводы!

$$3,7 + 2,65 = 3,70 + 2,65 = 6,35;$$

$$3,7 - 2,65 = 3,70 - 2,65 = 1,05.$$

$$\begin{array}{r} 3,70 \\ + \underline{2,65} \\ \hline 6,35 \end{array}$$

$$\begin{array}{r} 3,70 \\ - \underline{2,65} \\ \hline 1,05 \end{array}$$

Правило:

Чтобы сложить (вычесть) десятичные дроби, нужно:


- ✓ **уравнять** в этих дробях количество знаков после запятой;
- ✓ **записать** их друг под другом так, чтобы запятая была записана под запятой;
- ✓ **выполнить** сложение (вычитание), не обращая внимания на запятую;
- ✓ **поставить** в ответе запятую под запятой в данных дробях.

Время – поработать!

Учебник: стр. 179

№ 836

№ 837



Задача про бобров

- * В нашей стране водится много бобров. Бобр – крупный грызун, ведёт полуводный образ жизни. Найдите длину бобра в дециметрах. Поможет вам в этом удивительный квадрат.

* 1. Из первой строки выберите
* наименьшее число.

* 2. Из второй строки выберите
* наибольшее число.

* 3. Из третьей строки выберите
* не наименьшее и не
* наибольшее число.

4. Найдите сумму трёх этих чисел - это и будет
длина бобра

5,9	6,3	3,6
2,3	2,7	0
3,7	4,1	1,4

**Урок сегодня завершён,
И каждый должен знать:
Кто поработал хорошо
Получит точно «ПЯТЬ».**



Домашнее задание:

Учебник: (**учить правило на стр. 179**)

№ 886

№ 890



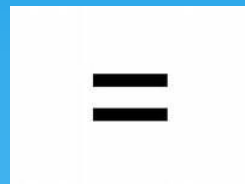


Спасибо за урок!
Молодцы!






Задача от Винни-Пуха:

Три неразлучных друга - Винни-Пух, Ослик Иа и Пятачок - решили узнать свой вес. Но шкала весов до 20 килограммов была повреждена, и показания по ней прочитать не представлялось возможным. Поэтому Винни-Пух взвесился сначала с Пятачком: получилось 22,4 кг; затем с Осликом, получилось 23,5 кг; а затем они взвесились все вместе и получили 26,7 кг.
Какова масса каждого из них?





23,5 кг



26,7 кг

Проверь себя!


1) $26,7 - 23,5 = 3,2$ (кг) Пятачок

2) $22,4 - 3,2 = 19,2$ (кг) Винни-Пух


3) $23,5 - 19,2 = 4,3$ (кг) Ослик




МОЁ НАСТРОЕНИЕ




Мне
понравилось.
У меня всё
получалось.



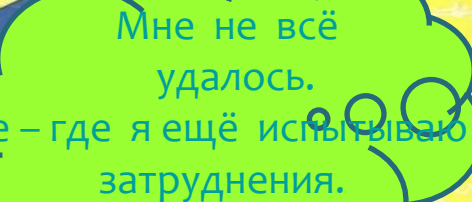
Мне
понравилось.
Много нового
и интересного.



Определи своё настроение
в конце урока.
Поделись своими
впечатлениями.



Мне не понравилось.
Мне было
трудно.



Мне не всё
удалось.
Кое-где я ещё испытываю
затруднения.