





На сколько больше?
На сколько меньше?

Математика 1 класс
Урок №6



1. Сравнить числа

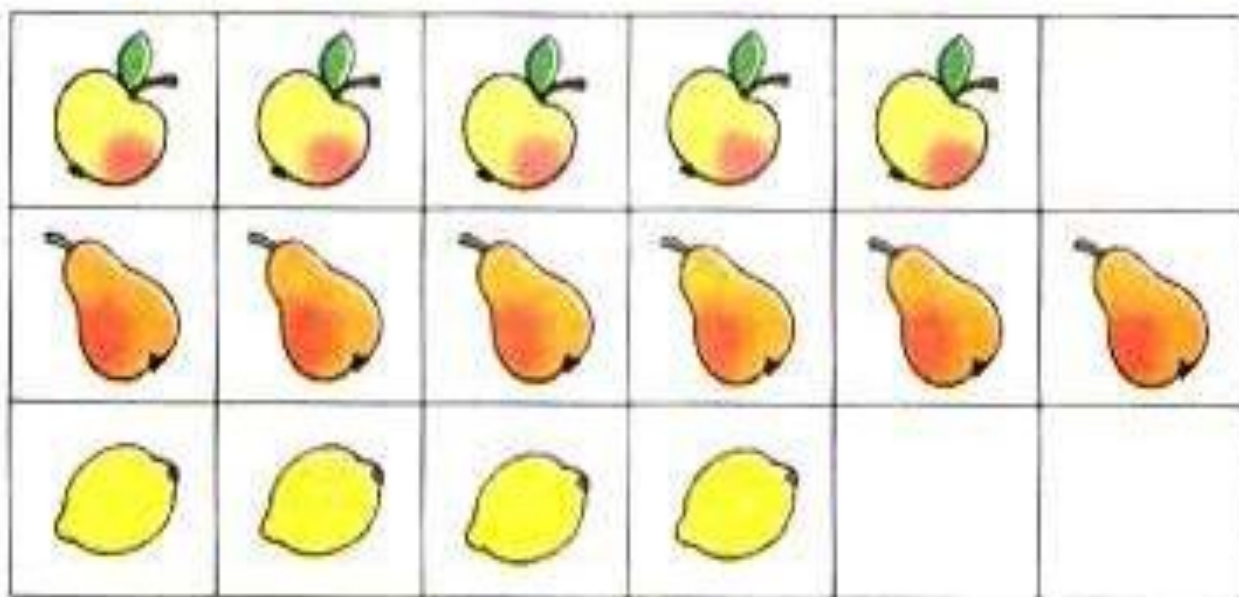
**2. Найти большее
число**

**3. Из большего
вычесть меньшее**

Определи по рисунку, хватит ли кружек на всех козлят. Сколько ещё кружек надо поставить, чтобы их хватило каждому козлёнку и маме-козе? Хватит ли пирожков на всю семью? А баранок?



Чего больше? меньше? На сколько больше?
Как сделать, чтобы стало столько же?

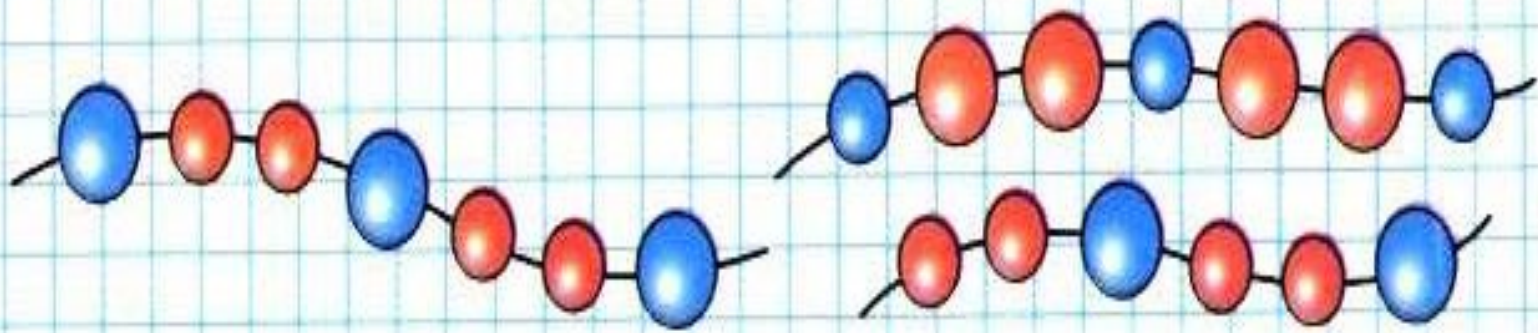


Как можно двумя способами уравнять любые две группы предметов из трёх заданных. Используй слова: *добавить*, *убрать*.


Определи, не пересчитывая, всем ли мальчикам хватит по одной лопатке. А по одному ведру?



Выбери, каким кусочком нужно продолжить бусы.



Сравни рисунки. Чем они похожи? Чем различаются?



Где помидоров больше: справа или слева?
Где меньше? На сколько меньше?
Как можно изменить рисунки так, чтобы помидоров на них стало поровну?

