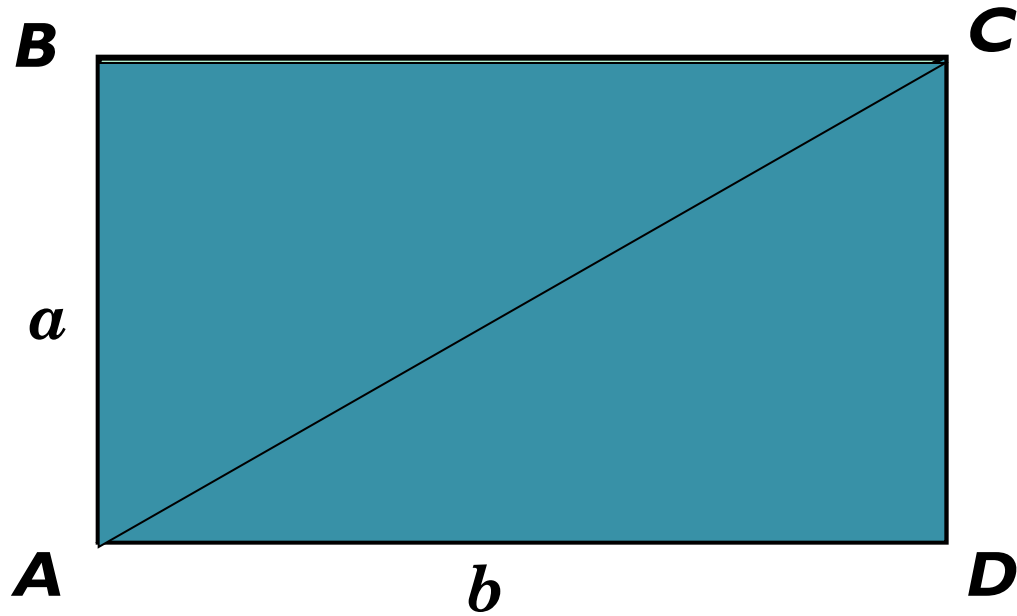
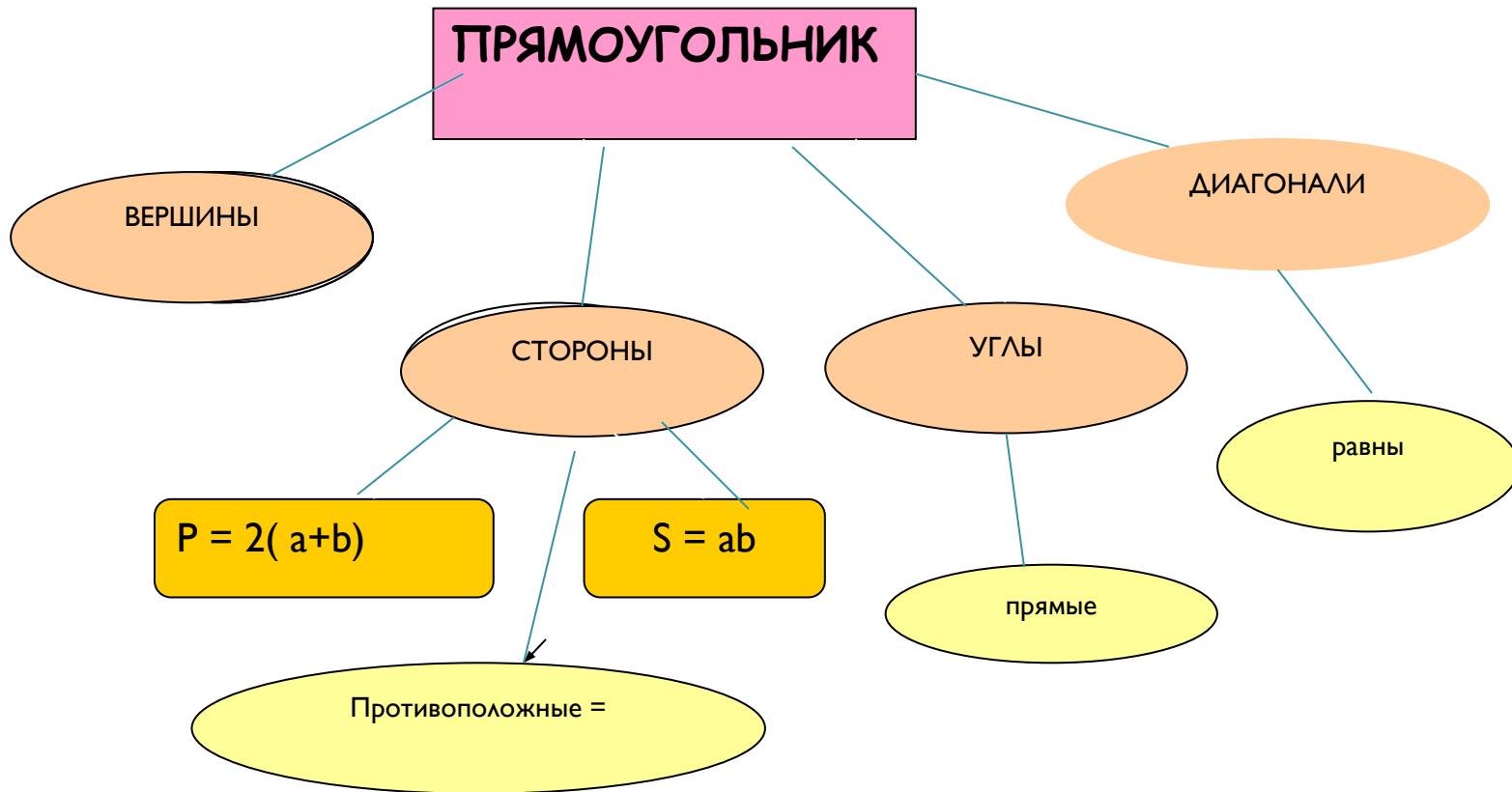
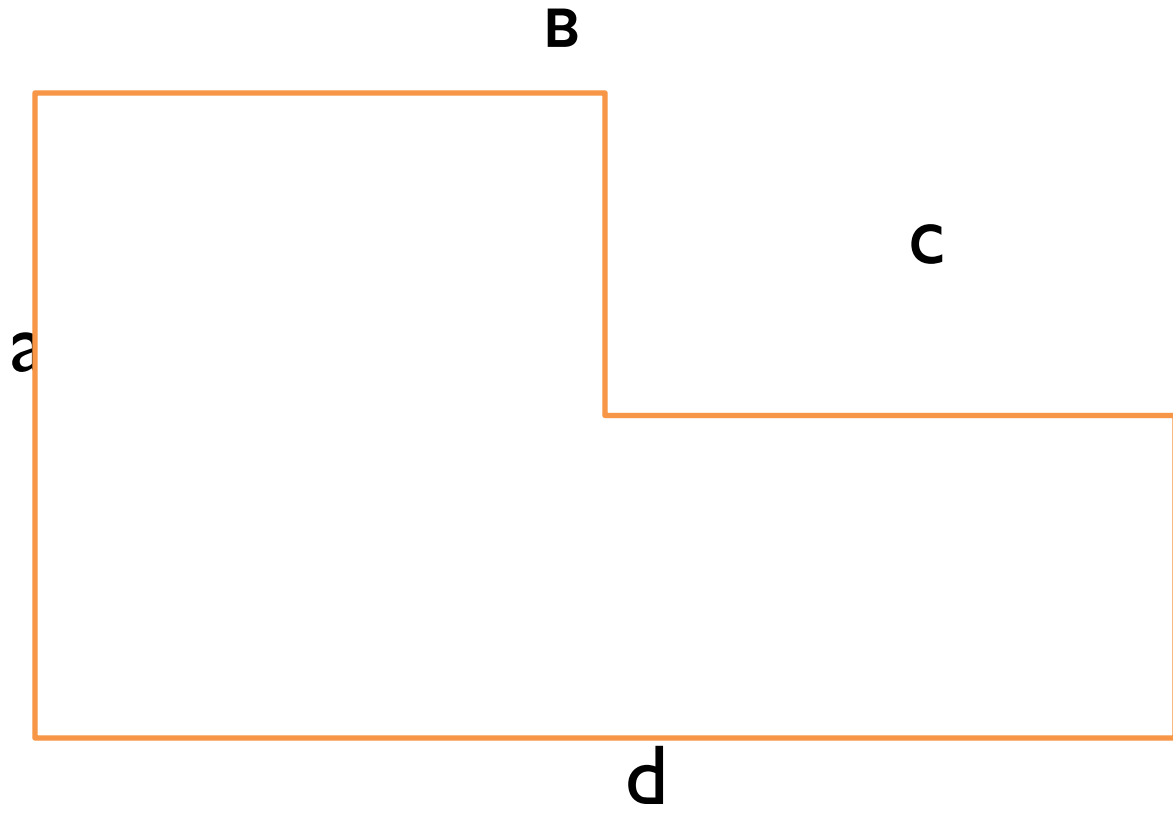


ПРЯМОУГОЛЬНИК







Самостоятельная работа

1

Найдите периметр
прямоугольника

8 мм

5 мм



2

Найдите площадь
прямоугольника

20 см

9 см



1

Найдите периметр
прямоугольника

51 мм

2 см



2

Найдите площадь
прямоугольника

600 см

2 дм



КЛЮЧ

Проверьте себя:

1.

Найдите периметр прямоугольника

8 мм

5 мм



$$(5 + 8) \cdot 2 = 13 \cdot 2 = 26 \text{ (мм)}$$

2.

Найдите площадь прямоугольника

20 см

9 см



$$9 \cdot 20 = 180 \text{ (см}^2\text{)}$$

Проверьте себя:

3.

Найдите периметр прямоугольника

51 мм

2 см



$$(20 + 51) \cdot 2 = 71 \cdot 2 = 142 \text{ (мм)}$$

4.

Найдите площадь прямоугольника

600 см

2 дм

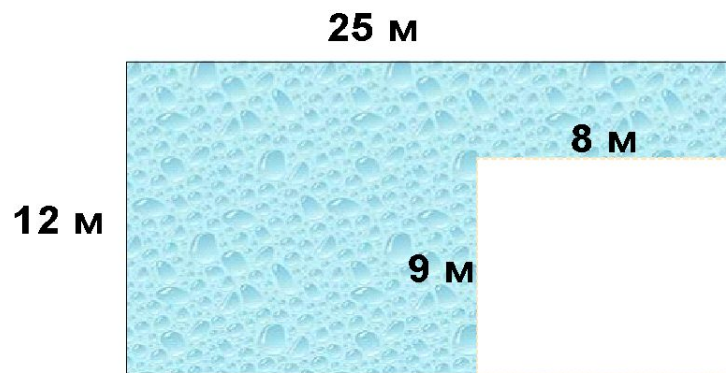


$$2 \cdot 60 = 120 \text{ (дм}^2\text{)}$$

$$20 \cdot 600 = 12000 \text{ (см}^2\text{)}$$

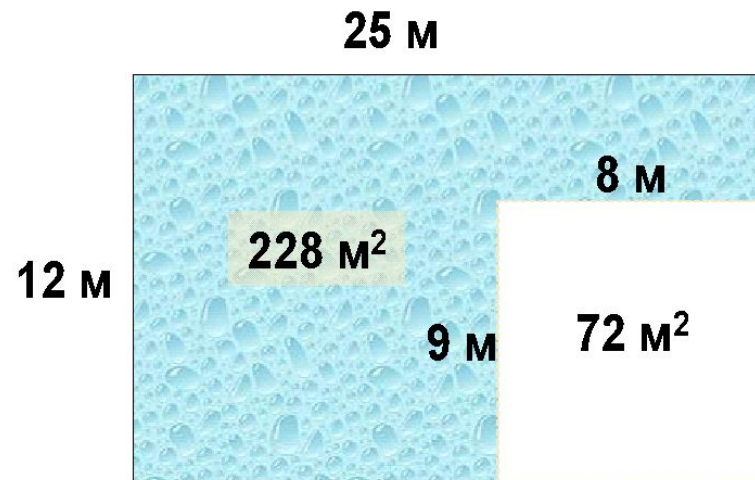
Задача.

- Найти площадь и периметр.



Площадь фигуры мы нашли как разность площадей двух прямоугольников

Проверьте



Площадь фигуры мы нашли как разность площадей двух прямоугольников