

*Математический КВН*


**МАТЕМАТИКА –  
ЦАРИЦА ВСЕХ НАУК**

Составитель: Кузуб Л. М.



# ЦЕЛЬ:

- активизация познавательной деятельности обучающихся в КВНе по математике.



# ЗАДАЧИ:

- Способствовать формированию интереса к урокам математики.
- Закреплять знания математических терминов, умения выполнять вычислительные действия на изученные случаи умножения, деления, сложения и вычитания.
- Способствовать развитию логического мышления, речи, памяти, внимания.





# ПРИВЕТСТВИЕ КОМАНД !



# КОМАНДА «Ну, погоди!»

□ Девиз команды «Ну, погоди!»:

**«Ну, погоди – всегда впереди»**



# Команда «Мыслители»

□ Девиз команды «Мыслители»:

**«Мы будем мыслить, убеждать,  
Идя к финалу, побеждать!»**



# МАТЕМАТИЧЕСКАЯ РАЗМИНКА

## Команда № 1

- ❖ Петя живет в 10-этажном доме на 6 этаже, если считать сверху. На каком этаже снизу живет Петя?

**Ответ: 5 этаж**




- ❖ На какое дерево садиться ворона во время проливного дождя?

**Ответ: на мокрое дерево**



- ❖ Гусь на двух ногах весит 4 кг. Сколько он весит на одной ноге?

**Ответ: 4 кг**



- ❖ Три кошки за три минуты ловят трех мышей. Сколько нужно кошек, чтобы за сто минут поймать 100 мышей.

**Ответ: 3 кошки**





# МАТЕМАТИЧЕСКАЯ РАЗМИНКА

## Команда № 2

- ❖ Две сардельки варятся 6 минут. Сколько времени будут вариться 8 таких сарделек?

**Ответ: 6 минут**



- ❖ На столе стояли три стакана с вишней. Костя съел один стакан вишни, поставив пустой стакан на стол. Сколько стаканов осталось?

**Ответ: 3 стакана**



- ❖ У двух носорогов 2 рога.  
Сколько рогов у 100 носорогов?  
**Ответ: 100**



- ❖ Самолет летит от Москвы до Санкт-Петербурга один час, а обратно из Санкт-Петербурга 60 минут. Почему такая разница?


**Ответ: 1 час = 60 минутам**



# РЕБУСЫ

- ◆ **Ребус – это загадка, в которой искомое слово или фраза изображены в виде комбинации фигур, знаков, букв, т.е. «предметов».**



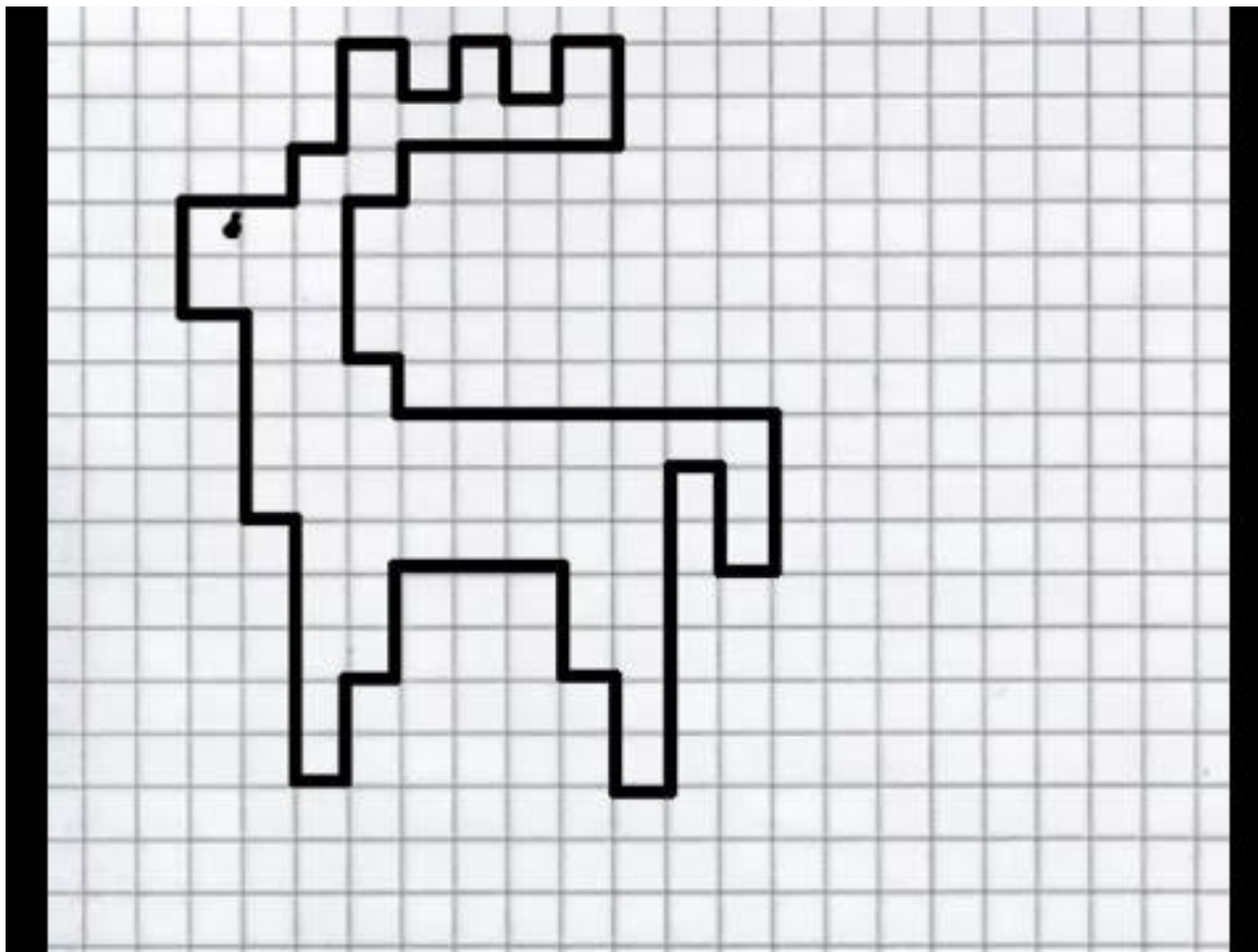


Вер



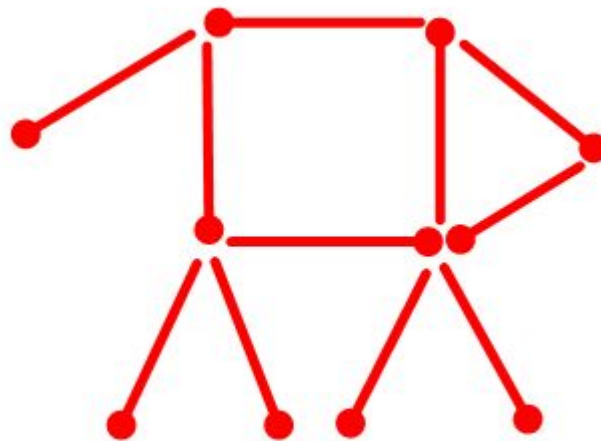
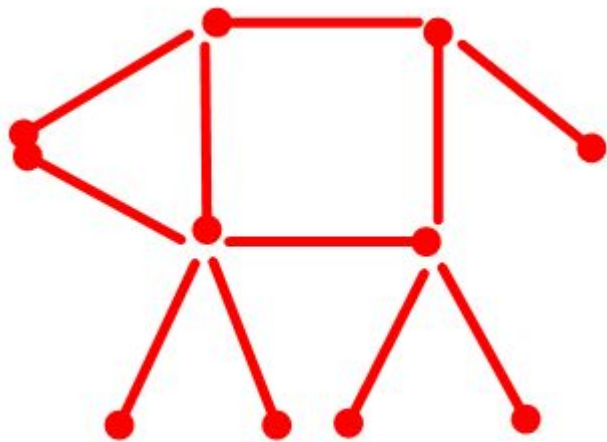


# «ГРАФИЧЕСКИЙ ДИКТАНТ»



# УГАДАЙ-КА

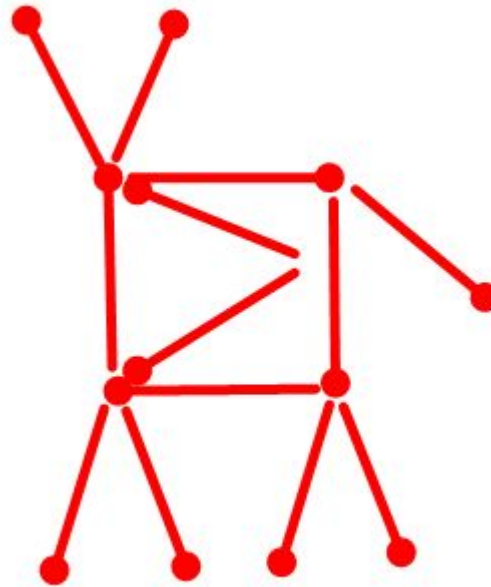
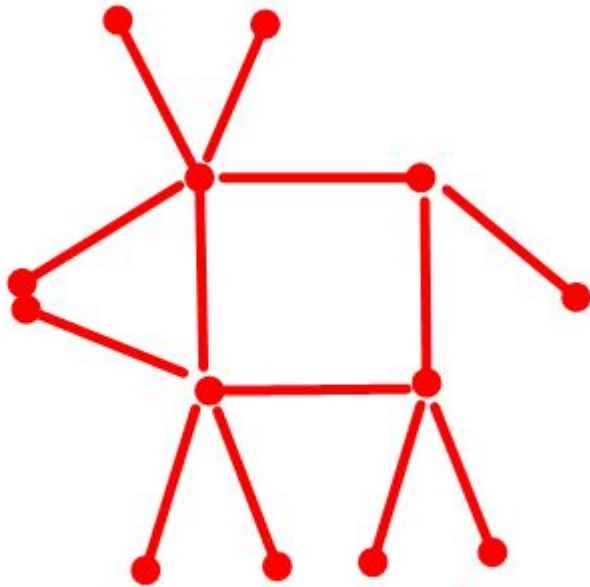
Из спичек сложили собаку, она смотрит налево. Переложи всего одну спичку так, чтобы собака смотрела направо.




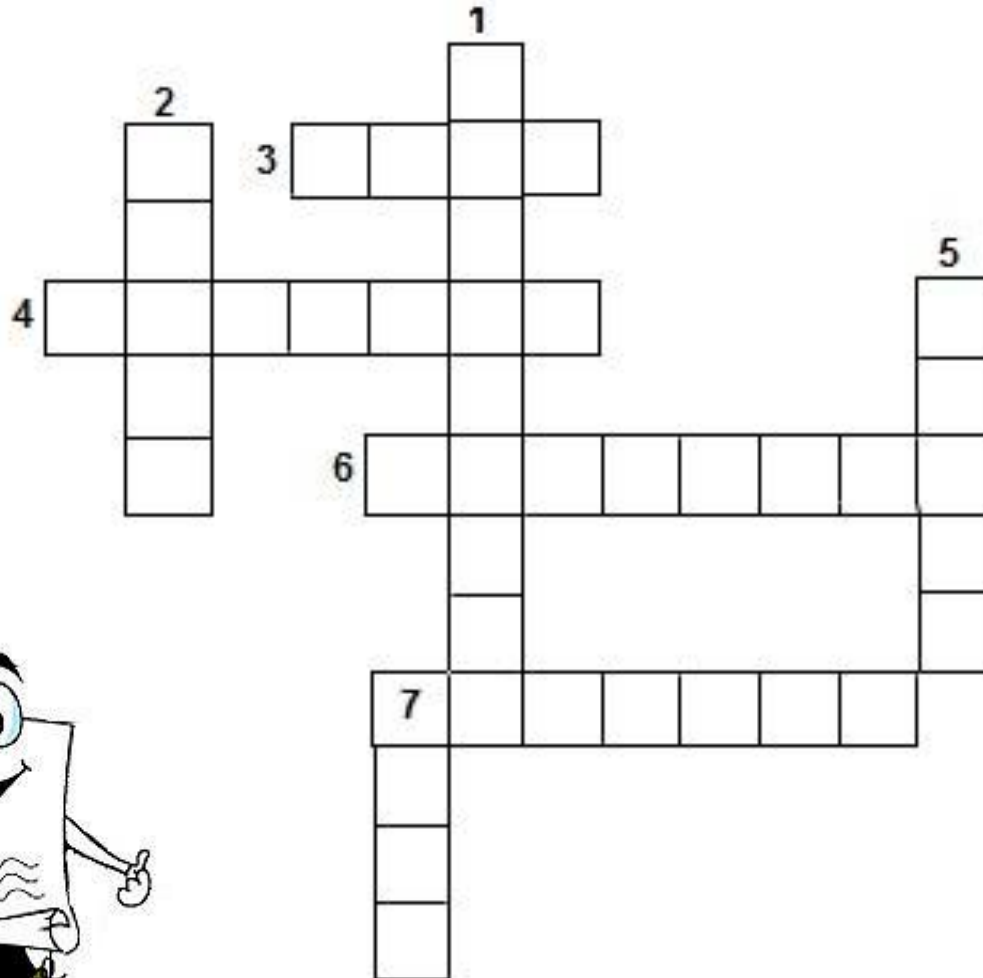


# УГАДАЙ-КА

Из спичек сделали корову. Она смотрит налево. Переложи две спички так, чтобы корова смотрела направо.



# МАТЕМАТИЧЕСКИЙ КРОССВОРД



# ПРОЧИТАЙ-КА

□ ПО 2 Л

□ Р 1 А


□ С 3 ЖКА

□ АК 3 СА


□ Р 1 КА

□ 7 Я

□ С 100 Л



# Задача



Как тремя прямыми отделить кроликов от моркови?



# СПАСИБО ЗА УЧАСТИЕ!

