

Тема: Умножение на единицу и нуль.



и



Сколько всего бабочек?



$$1 + 1 + 1 + 1 + 1 = 5$$

$$1 * 5 = 5$$



Сколько всего клюшек?





$$1 + 1 + 1 + 1 = 4$$

$$1 * 4 = 4$$

Таким образом, при
умножении **1** на любое число
получается **это же число.**




СКОЛЬКО ВСЕГО ЛИСТИКОВ НА ВЕТКАХ?



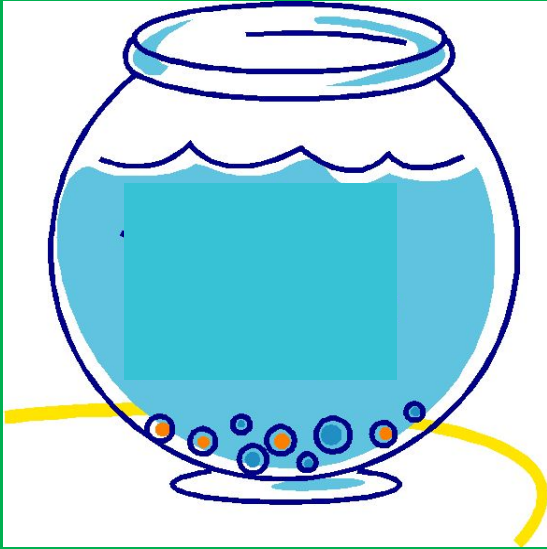


$$0 + 0 + 0 + 0 + 0 + 0 = 0$$

$$0 * 6 = 0$$




Сколько всего рыбок в аквариуме?



$$0 + 0 + 0 = 0$$

$$0 * 3 = 0$$



Таким образом, при
умножении **0** на любое число
получается **нуль**.



Сравни ($>$, $<$, $=$)

$$1 * 23 \dots 1$$


$$6 * 2 \dots 6 + 7$$

$$17 + 17 \dots 1 * 17$$

$$0 * 30 \dots 50 - 20$$

$$2 + 2 + 2 \dots 2 * 3$$

$$1 * 87 \dots 0 * 87$$



**Света купила в магазине 5
карандашей, по 1 руб. каждый.
Сколько стоит эта покупка?**



1 руб.

1 руб.

1 руб.

1 руб.

1 руб.

Молодец!

