

МАТЕМАТИКА

Единицы времени.

Определение времени по часам



**Работу выполнила
Салманова О.Н.
учитель начальных классов
МБУ Школа №40
г. Тольятти**

Расшифруйте

44 80 18 26 53 54 29 46 0 70
4П О З 0Д Р А В Л Я Ю

• Д – $2.600 : 10$

• Р - $36 + 17$

• Ю – $27 + 43$

• Л - $85 - 39$

• З - $27 : 3 \cdot 2$

• П - $111 \cdot 4$

• О - $240 : 3$

• В - $58 : 2$

• Я - $0 \cdot 41$

• А - $36 : 4 \cdot 6$

Расшифруйте

6 18 4 4 5 72
С Н А Ч А Л О М

- Л – $91 : 7$
- Ч - $80 : 5$
- С – $240 : (80 : 2)$
- А - $80 : 20$
- Н - $200 - 80 : 5$
- О - $250 : 50$
- М - $18 \cdot 4$

Расшифруйте

6 11 36 29 11 23 36 18

Ч Е Т В Е Р Т И

• Ч – $78 : 13$

• И - $50 : 25 \cdot 9$

• Р - $92 : 4$

• Е - $(44 + 33) : 7$

• В - $58 : 2$

• Т - $36 : 1 - 24 \cdot 0$

**Поздравляю
с началом
четверти !**

Величины

Единицы измерения

Длина

Миллиметр

Сантиметр

Дециметр

Метр

Объём

Литр

Времена года.

ЗИМА

ОСЕНЬ

ГОД

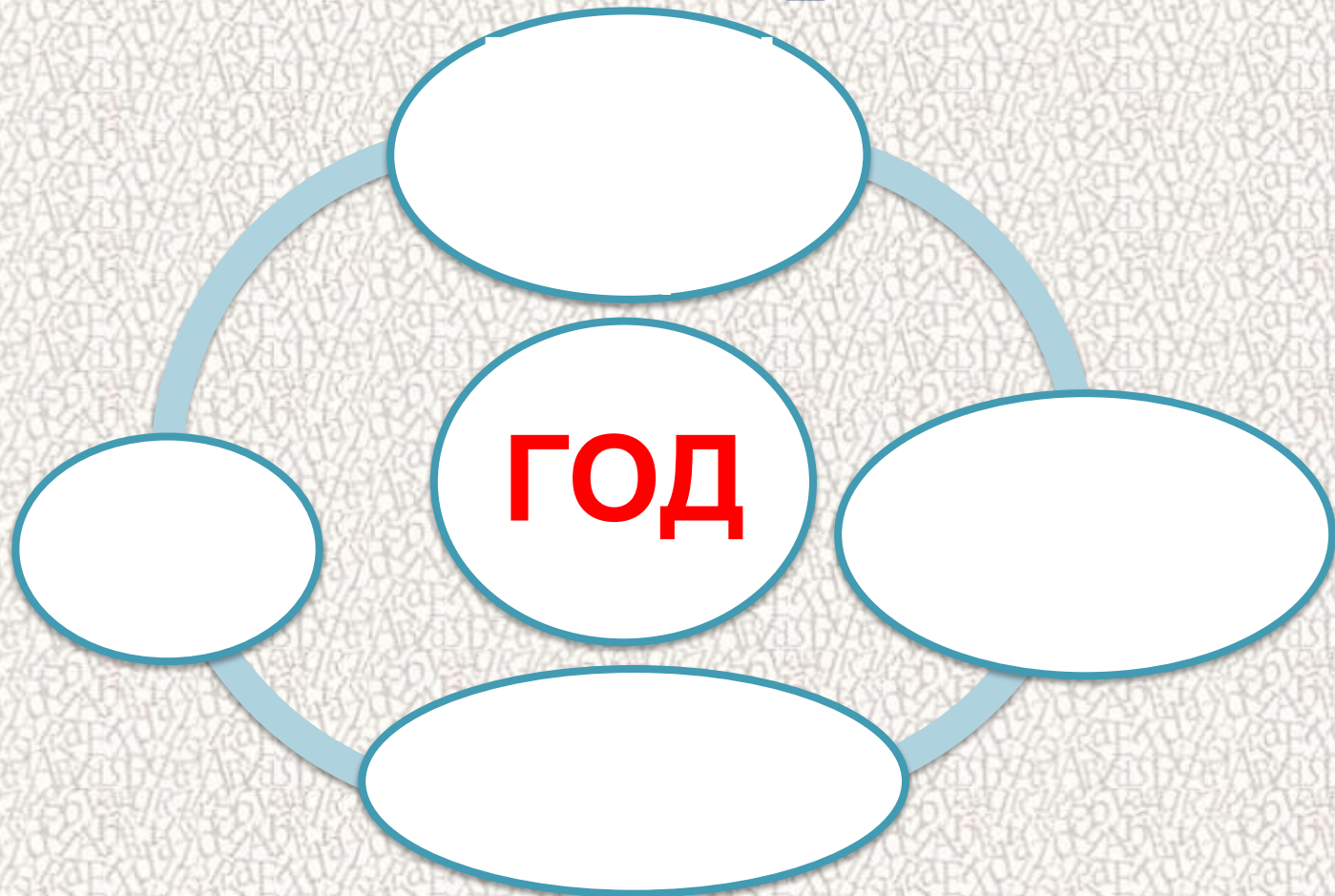
ВЕСНА

ЛЕТО

Время движется вперёд.

У нас идёт учебный год.

Временные отрезки года.



Расположите единицы времени по возрастанию:



Виды часов

Самые древние часы, которые изобрели люди – **солнечные часы**




Также в древности использовали **водяные часы**






Из древности к нам пришли и другие часы
– **песочные**

Современные люди используют
механические



электронные часы





Какие бывают часы



маятниковые





Какие бывают часы





Какие бывают часы



Кремлёвские
куранты



Биг - Бен



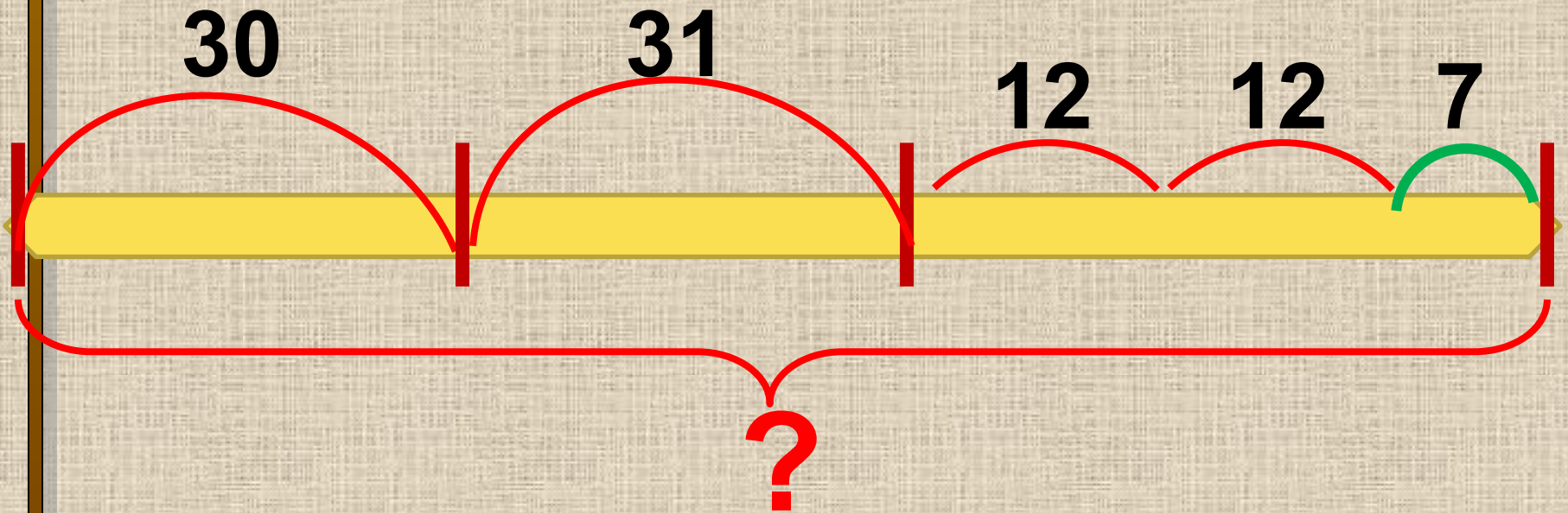
Пражские куранты







Задача № 218



- 1) Сколько дней Юра был у бабушки?
- 2) Сколько дней Юра был на турбазе?
- 3) Сколько дней длились каникулы?



Задача № 219

ЦЕНА	КОЛ-ВО	СТОИМОСТЬ
С.- ?) на > ?	6 м	с р.
Ш.- ?)	4 м	к р.

$$Ц = С : К$$

$$К = С : Ц$$

$$С = Ц \cdot К$$

$$С : 6$$

$$к : 4$$

$$к : 4 - С : 6$$



Восстановите последовательность

1 ГОД

1 СУТ

1 ЧАС

28

1 МИН

1 НЕДЕЛЯ

1 МЕС

60 МИН


24 ЧАС

30 СУТ. 31,

7 СУТ

12 МЕС

60 СЕ





Вырази:

• В секундах:

$$2 \text{ мин} = 120 \text{ сек}$$

$$5 \text{ мин} = 300 \text{ сек}$$

$$1 \text{ мин } 30 \text{ сек} = 90 \text{ сек}$$

$$2 \text{ час} = 7200 \text{ сек}$$


• В часах:

$$2 \text{ сут} = 48 \text{ час}$$

$$120 \text{ мин} = 2 \text{ час}$$

$$3600 \text{ сек} = 1 \text{ час}$$


$$7200 \text{ сек} = 2 \text{ час}$$



Сравни

2 час 12 мин $>$ 7200 сек

120 с $<$ 2 час 5 сек





**ДОМАШНЕЕ ЗАДАНИЕ:
№ 220, № 222 с.47**





Где твоё место?

Ничего не понятно
на уроке

Всё понятно, затруднений
нет

Хочу знать больше





БОЛЬШОЕ
СПАСИБО



за сотрудничество!

