

*Ашық сабақ.
Математика
3 сынып.*

Жазбаша қосу және азайту.

2016-2017 оқу жылы.





Мақсаты:

- 1) Оқушылардың қосу және азайту туралы алған білімдерін қалыптастыру.*
 - 2) Өз беттерімен жұмыс істеу қабілеттерін арттыру.*
- Оқушылардың ойлау қабілетін, зейінін дамыту.*

Топта бірін-бірі сыйлауға тәрбиелеу.



Қазақстан Республикасы Тәуелсіздігіне 25 жыл



Психологиялық дайындық

*Шырылдады қоңырау,
Біз сабақты бастаймыз.
Партамызға отырып,
Табыс тілеп көзбенен
Сана,білім алға,
Алға қадам бастаймыз.*





Топқа бөліну.

I топ- жұп сандар тобы.

II топ- тақ сандар тобы.



Топ ережесін еске түсіру.

- 1) Бір -бірімізді тыңдаймыз.
- 2) Уақытты үнемдейміз.
- 3) Маңызды нәрселерді ғана айтамыз.
- 4) Тәртіпті сақтаймыз.
- 5) Топта достық қарым-қатынас орнату.



$29+17$

46

$48+11$

59

$35+27$

62

$900-100$

800

$700-500$

200

$800-400$

400

Қызығушылықты ояту

$600-200$

400

$45+14$

59

$68+30$

98

$67+30$

97

$37+21$

58

12 желтоқсан

Сынып жұмысы.





Қайталау – білім анасы.

Қосындының және айырманың мәндерін тап:

$234+625=$

$859-234=$

$214+429=$

$643-214=$

$459+356=$

$844-459=$

$247+563=$

$810-147=$






Есепті шығар:

Сенбіде балалар саябағына 427 адам, ал жексенбіде сенбіге карағанда 153 адам артық келді. Демалыс күндері балалар саябағына неше адам келді?

Театр кассаларында балалар қойылымына 60 билет және үлкендер қойылымына 30 билет сатылды. Билеттерді 3 мектеп тең бөліп сатып алды. Әр мектеп неше билет алды?



**Палетканың көмегімен
фигураның ауданын табу.**





Есепте:

$$\frac{1}{4} \text{ жыл} = \dots \text{ ай}$$

$$\frac{1}{5} \text{ ғасыр} = \dots \text{ жыл}$$

$$\frac{1}{6} \text{ жыл} = \dots \text{ ай}$$

$$\frac{1}{2} \text{ ғасыр} = \dots \text{ жыл}$$



Амалдап орында..

$$6 * 5 - 16 : 2 * 3 + 49 =$$

$$32 : 8 * 4 + 48 : 6 : 2 * 5 =$$





"Еліңнің ұлы болсаң,
еліңе жаның ашыса,
азаматтық намысың болса,
қазақтың ұлттық
жалғыз мемлекетінің
нығайып-көркеюі жолында
жан теріңді сығып
жүріп еңбек ет.


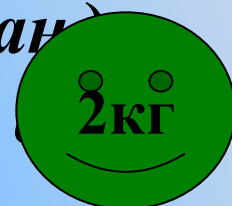
Жердің де, елдің иесі өзің
екеніңді ұмытпа!"

Қазақстан Республикасының Президенті Н.Ә.Назарбаевтың

Қазақстан халқына Жолдауы

Логикалық есептер

- Шөпте қояндар тығылып отыр, тек 10 құлағана көрініп тұр. Қанша қоян тығылып отыр?
- Таразы табақшасына 2 аяғымен тұрғанды тырна 2 кг болды. Бір аяғымен тұрса, оның массасы қандай болады?
- Ауылда 4 күн 4 түн боран соқты. Неше күн боран соқты?
- Бір адам қалаға бара жатыр еді, жолда оған танысы қарсы келді. Қанша адам қалаға барды?
- Мараттың кілең 1 теңгеліктен тұратын барлығы 100 теңге ақшасы бар еді. Құрал – жабдық сатып алған ол дүкенге 97 теңге тиіс еді. Қалай тез есептеп беруге болады?



Салыстыр

7 тәул 14 сағат

>

6 тәул 24 сағат

5 тәул 16 сағат

<

5тәул 20 сағат

5 онд 6 бірл

=

56 бірл

10 онд

=

100 бірл



"Математикалық диктант"

10 және 60 сандарының
қосындысына 8-ді қос.

$$10 + 60 + 8$$

70-ке 12 мен 6 сандарының
айырмасын қосу

$$70 + (12 - 6)$$

65 пен 5 сандарының
айырмасынан 30-ды кеміт.

$$(65 - 5) - 30$$

90-ға 11 мен 9-дың айырмасын қос.

$$90 + (11 - 9)$$



Бағалау.

**Үй тапсырмасы:
7мысал.**



Назарларыңызға рахмет!

