



Урок математики

Долгожданный дан звонок.
Он позвал нас на урок!
Все садитесь тихо, дети,
Договариваемся не шуметь,
Руку красиво поднимать,
Чётко, ладно отвечать,
На уроке не дремать,
Знания быстрее хватать.





Отгадай

Он пришел из сказки к нам,
Постучал тихонько в дом,
В ярком красном колпачке —
ну, конечно, это





За что гном заколдовал Нильса?





Ребус



~~ЗАЯЦ~~



ДАЧА

ОТВЕТ: **Задача**



Задача



ответ

решение

вопрос

условие





Составление задачи по рисунку и схеме

Я НАУЧУСЬ

- Составлять задачу по рисунку и схеме
- Находить в тексте задачи УСЛОВИЕ, ВОПРОС
- Записывать РЕШЕНИЕ , ОТВЕТ





Устный счёт



ДЕСЯТОК





Прибавляйте по 2




$$2 + 2 + 2 = \boxed{6}$$

Вычитайте по 2

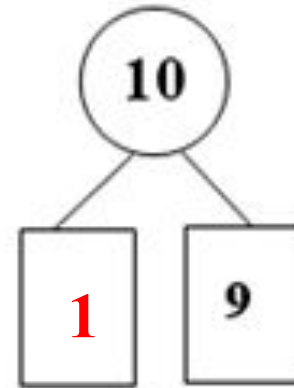
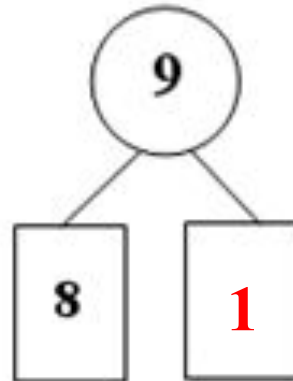
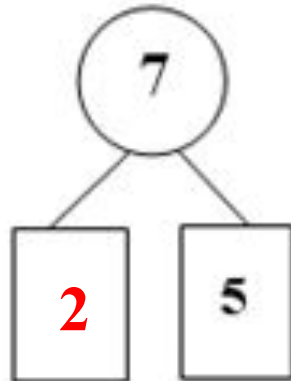
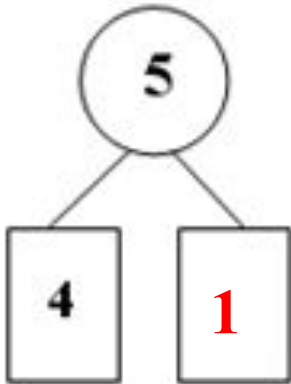


десяток



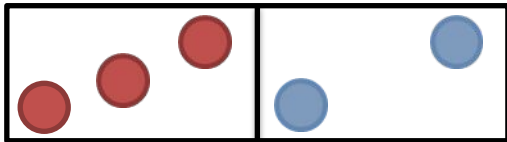
$$10 - 2 - 2 = \boxed{6}$$





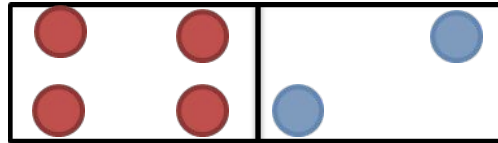


Выполнить сложение и вычитание



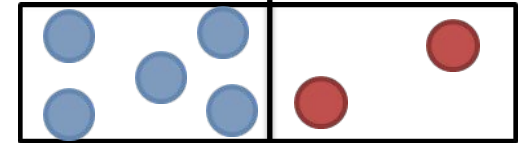
$$3+2=$$

$$5-2=$$



$$4+2=$$

$$6-2=$$



$$5+2=$$

$$7-2=$$







Физминутка






Работа по учебнику

С.90 №1

1. Составь задачи по каждой картинке и реши их. Прочитай решение и ответ.

1)



$$\boxed{4} + \boxed{2} = \boxed{6}$$




2)



$$\boxed{7} - \boxed{2} = \boxed{5}$$





Чему учились на уроке?





Где задача?

На столе лежало шесть
яблок. Одно яблоко
съели.



На столе лежало шесть
яблок. Одно яблоко
съели. Сколько яблок
осталось?

$$6 - 1 = 5$$

Ответ: 5 яблок

МОЛОДЦЫ!!!

