

Клуб Веселых математиков



1 КОНКУРС РАЗМИНКА КОМАНД

Каждый участник команды подчёркивает в своей строчке две рядом стоящие цифры, сумма которых равна десяти. Учитывается правильность и скорость выполнения

48756394678831234567

654321987654314216217

456789123456716317461

673829145673491291231

827746757353709880283

637708957497455055335




2 конкурс ШИФРОВАЛЬЩИКОВ

Командам предлагаются карточки, на которых записаны примеры.

Их необходимо решить, все ответы записать в строчку один за другим и затем каждую цифру заменить буквой по указанному коду.

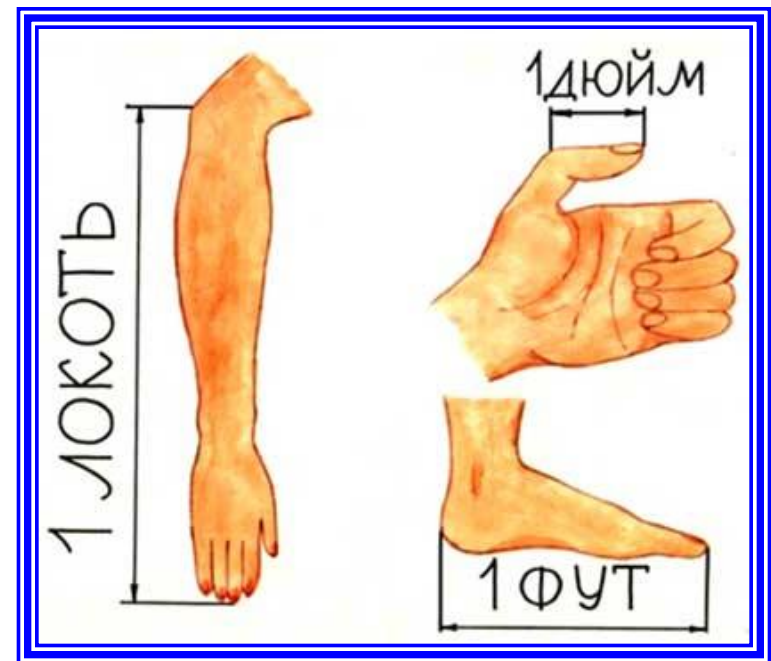
1	2	3	4	5	6	7	8	9
Д	О	Ю	В	Ч	М	К	Й	А






«Дюйм» – дольная единица длины в системе английских мер:
 $1 \text{ дюйм} = 1/12 \text{ фута} = 0,0254 \text{ м};$

русская дометрическая единица длины:
 $1 \text{ дюйм} = 1/28 \text{ аршина} =$
 $1/12 \text{ фута} =$
 $10 \text{ линиям} = 2,54 \text{ см}.$



3 конкурс Блицтурнир



4 конкурс КОНКУРС СЧЁТЧИКОВ



5 конкурс КОНКУРС КАПИТАНОВ

Построить башню так, чтобы

Красный кубик был выше синего, а зелёный между ними.

Зелёный кубик был не нижний и не верхний, а синий выше красного.

Синий кубик был в середине, а красный ниже зелёного.

Положи кубики в ряд так, чтобы

Синий кубик был между красным и зелёным, красный слева от синего.

Красный кубик был правее синего, а зелёный между ними.

Зелёный кубик был в середине, а красный слева от него.



6 конкурс Умеешь ли ты логически мыслить?

Детей Ивана Петровича зовут Вася и Саша.

Саша не брат Васе. Кем приходится Саша Васе?

Как будут звать Васю и Сашу, когда они вырастут?

Как звали дедушку Васи и Саши?



7 конкурс

СПОРТИВНЫЙ КОНКУРС



8 конкурс

Ребусы



T



4=A









,

,

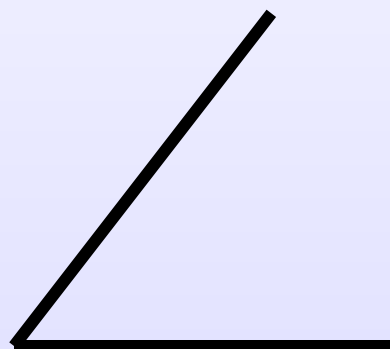


321



3

И = Е



б

””







9 конкурс Эстафета команд

Нужно решить примеры, но вместо числового ответа записать букву, соответствующую этому числу на циферблате.

98: 14
96: 12
171: 57
126: 14
800: 80
144: 12
324: 54







91:13
200: 25
186: 62
99: 11
200: 20
96:8
168:28








МОЛОДЦЫ!





Итоги соревнования





Спасибо!

