



**Тема:**

**«Составление задач на сложение и вычитание по рисунку и решениям»**

1 класс «Школа России»  
Составила Мельникова Ю.В  
МБОУ «СОШ п.Нивенское»

Зазвенел звонок  
И смолк,

Начинается урок.



# Зарядка для ума (молчанка)

$5+2=$

$4+2=$

$3+2=$

$7+2=$

$7-2=$

$6-2=$

$5-2=$


$7-2=$



Прочитай по разному  
примеры на сложение

Сколько треугольников на рисунке?  
(Работаем в парах)

5



## Составные части задачи:



← УСЛОВИЕ



← ВОПРОС



← РЕШЕНИЕ



← ОТВЕТ


## Задача – шутка.

У бабушки Даши внучка Маша, кот Пушок и собака Дружок.  
Сколько всего внуков у бабушки?



Ответ : одна внучка.

Пять пирожков лежало в миске.  
Два пирожка взяла Лариска,  
Еще один стащила киска.  
Сколько пирожков осталось в миске?




$$5 - 2 - 1 = 2$$

- Будем учиться  
составлять задачи  
рисункам и реше
- Учебник с.90






Составить задачу по картинке  
и решить её



$$4 + 2 = 6$$


$$6 - 2 = 4$$



$$6 + 2 = 8$$


$$8 - 2 = 6$$

Составить задачу по картинке  
и решить её



$$6 + 2 = 8$$

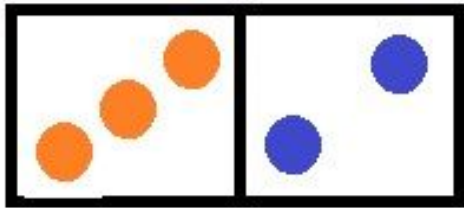
$$8 - 2 = 6$$



$$2 + 3 = 5$$

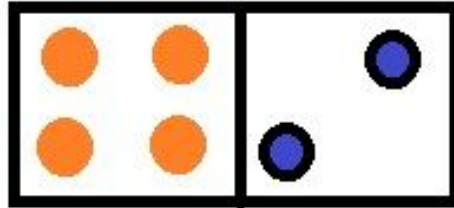
$$5 - 2 = 3$$

# Выполнить сложение и вычитание



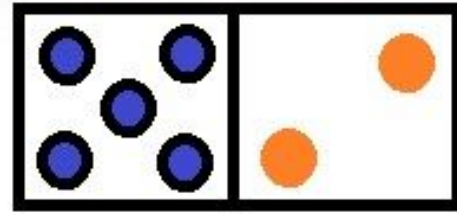
$$3+2=5$$

$$5-2=3$$



$$4+2=6$$

$$6-2=4$$



$$5+2=7$$


$$7-2=5$$

Прибавляйте по 2



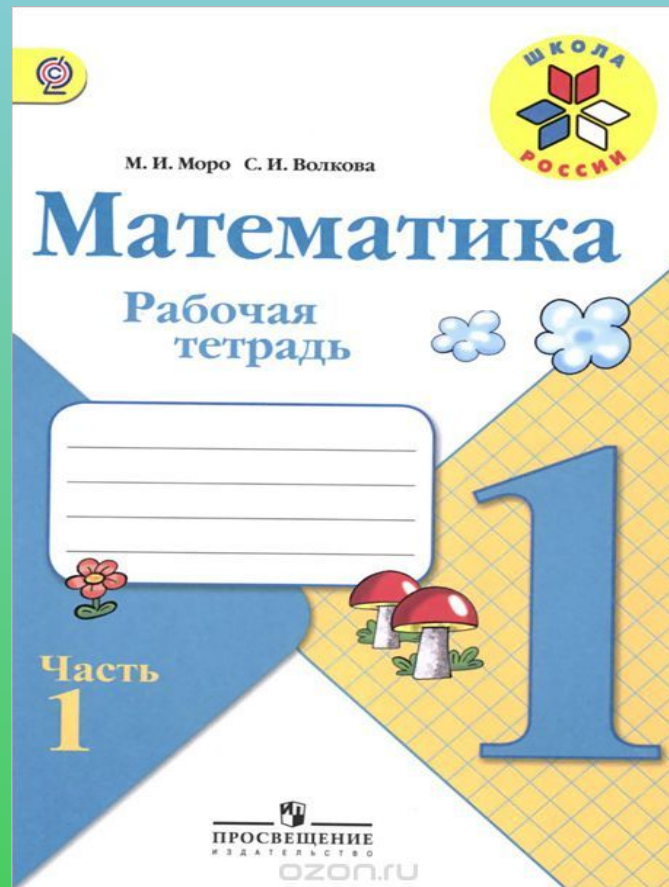
$$2 + 2 + 2 = 6$$

Вычитайте по 2




$$10-2-2=6$$


# Работа в рабочей тетради.




# *Оцени свою работу!*



*- было интересно, всё получилось*



*- были трудности.*



*- было не интересно, я не справился*