


Повторение- мать учения!

Дальше



Найди примеры на умножение в вертикальных столбиках.

|    |    |    |    |    |    |    |    |
|----|----|----|----|----|----|----|----|
| 7  | 8  | 5  | 8  | 3  | 2  | 7  | 4  |
| 6  | 8  | 5  | 9  | 9  | 9  | 7  | 7  |
| 42 | 63 | 25 | 72 | 27 | 17 | 49 | 28 |
| 9  | 4  | 7  | 9  | 5  | 4  | 9  | 3  |
| 7  | 2  | 3  | 2  | 6  | 3  | 5  | 3  |
| 63 | 8  | 22 | 18 | 30 | 12 | 45 | 9  |





# Математический диктант

27, 70, 9, 9, 20, 32м, 5





Высчитай дорогу животных в метрах.

8 м

$\cdot 7$

56 м

$-42$

14 м

$:2$

7 м



6 м

$\cdot 6$


36 м

$:4$

9 м


$\cdot 5$

45 м



На сколько метров слон живет  
дальше от тигренка, чем бегемот?

Дальше 



# Врове рнрз увпол венчн верной.

4 x 6 = 24

5 + 4 = 9

80 : 8 = 10

30 : 6 = 5

71 : 7 = 10

2 + 1 = 3

35 - 4 = 31

39 + 18 = 57

7

9 + 40 = 49

18 + 7 = 25

35 - 4 = 31

36 : 4 = 9



18 + 75 = 93

100



# Узнайте, какими профессиями я владею?

7 дм ~~Уборщица~~ 2 см



# Узнайте, какими профессиями я владею?



уборщица

54 дм ~~я~~нька м 4 дм






# Узнайте, какими профессиями я владею?



уборщица

нянька

строитель





# Узнайте, какими профессиями я владею?



уборщица

нянька

строитель

6 стрелок



# Узнайте, какими профессиями я владею?



уборщица

нянька

строитель

сторож

разведчик



# Узнайте, какими профессиями я владею?



уборщица

нянька

строитель

сторож

разведчик

сборщица пыльцы и нектара



# Узнайте, какими профессиями я владею?



уборщица

нянька


строитель

сторож

разведчик

сборщица пыльцы и нектара

32, 10, 16, 24, 50, 42





**Решите задачу, и ты узнаешь,  
сколько килограммов мёда  
заготавливает моя семья за лето.**

**Пасечник отвёз мёд, собранный с  
одного улья, в 3 детских сада по 20 кг  
в каждый и 30 кг в школу. Сколько кг  
мёда собрал пасечник с одного  
улья?**



**МЁД**



$$1) 8 \times 5 = 35 \text{ (кг)}$$

$$2) 35 - 30 = 5 \text{ (кг)}$$

**Ответ: 5 кг мёда собрал пасечник**



**МЁД**

# Физминутка



- Сколько раз ногою топнем? (12:4)
- Сколько раз в ладоши хлопнем?  
(36:9)
- Сколько будем приседать? (15:5)
- Сколько руки поднимать? (12:2)
- Сколько раз подпрыгнем мы?  
(40:8)
- Лучше всех мы, посмотри!





Чебурашка захотел купить свои любимые апельсины. Сколько килограммов апельсинов он купит если цена одного килограмма 20 руб, а у него 80 рублей?







Матроскин решил поставить на участок ограждение для выпаса своей коровы. Сколько метров ограды ему понадобится, если длина участка 6м, а ширина 7м? Какая площадь газона понадобится для этого участка?





# Источники информации:

<http://www.picshare.ru/uploads/140203/9m3A76p2U5.png> - тигрёнок

<http://www.picshare.ru/uploads/140203/156Z8jvEh4.png> - львёнок

[http://www.coollady.ru/pic/0003/040/16\\_1.jpg](http://www.coollady.ru/pic/0003/040/16_1.jpg) - солнце

[http://http://pandia.ru/text/79/360/images/image001\\_49.jpg](http://http://pandia.ru/text/79/360/images/image001_49.jpg) - слонёнок

[http://img0.liveinternet.ru/images/attach/c/2/67/811/67811641\\_20.png](http://img0.liveinternet.ru/images/attach/c/2/67/811/67811641_20.png) - бегемот

<http://frpic.com/vectors/clouds-vector/clouds-vector-3.png> - облако

<http://rtbsystem.com/images/znak.png> - стрелка- указатель

[http://img0.liveinternet.ru/images/attach/c/2/73/781/73781998\\_lvyonok.png](http://img0.liveinternet.ru/images/attach/c/2/73/781/73781998_lvyonok.png) - фон

