



# Математика



# Правильно сиди за партой



---

16 сентября.  
Классная работа.

6  
3  
3



# ПОМОГИТЕ ЧЕБУРАШКЕ СРАВНИТЬ.

---

1) 50 см < 1 м

2) 7 дм > 66 см

3) 3 см 8 мм < 83 см

4) 90 см = 9 дм



# Помогите Винни-Пуху посчитать.

Слагаемое	67	29	28	60
Слагаемое	8	63	34	20
Сумма	75	92	62	80



# Вычисли

$$2 \times 2 = 4$$

$$5 \times 2 = 10$$

$$8 \times 2 = 16$$


$$9 \times 2 = 18$$

$$6 \times 2 = 12$$











$$15 \times 2 = 30$$

$$36 \times 2 = 72$$

$$50 \times 2 = 100$$





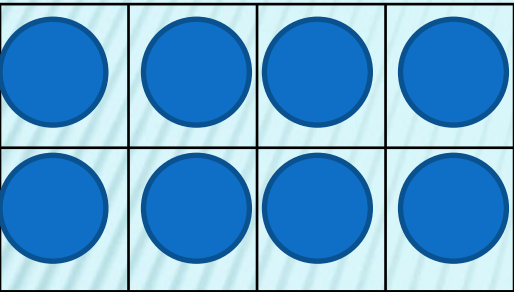


---

# **Тема :«Связь между компонентами и результатом умножения»**



№1. Объясни по рисункам, как, зная произведение, можно узнать частное.

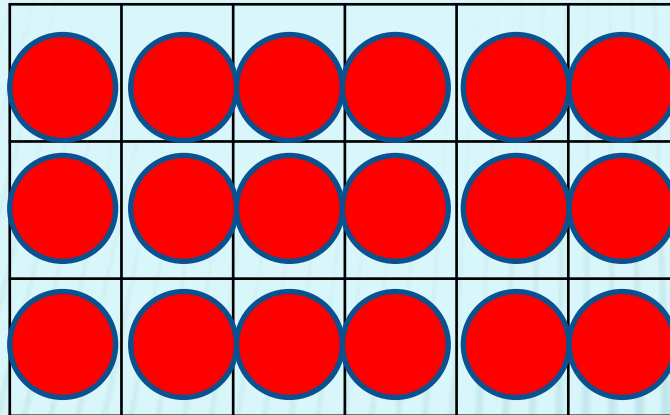


$$4 \times 2 = 8$$

---

$$8 : 2$$

$$8 : 4$$




$$3 \times 6 = 18$$

---

$$18 : 6$$

$$18 : 3$$



$$5 \times 4 = 20$$

---

$$20 : 5$$


$$20 : 4$$

Закончи вывод:

Если произведение двух множителей разделить на один из них, то получится ... .

---

№2. Высота каждого этажа дома 3 м. В доме 5 этажей. Чему равна высота дома до крыши? Составь две задачи, обратные данной, и реши их.



Высота  
каждого  
этажа

**3 м**

Кол-во  
этажей

**5эт**

Высота  
дома

**?**

$$3 \cdot 5 = 15 \text{ (м)}$$

Ответ: 15 метров высота дома до крыши.



Высота  
каждого  
этажа

?

3м

Кол-во  
этажей

5 эт.

?

Высота  
дома

15 м

15 м

# Самостоятельная работа

## Проверим себя

$$17 + 7 = 24$$

$$24 + 9 = 33$$

$$47 - 9 = 38$$

$$41 - 3 = 38$$

$$60 - 24 = 36$$

$$70 - 53 = 17$$

$$90 - (32 + 8) = 50$$

$$70 + (60 - 40) = 90$$



---

Молодцы!