

ГОСУДАРСТВЕННОЕ БЮДЖЕТНОЕ ОБЩЕОБРАЗОВАТЕЛЬНОЕ
УЧРЕЖДЕНИЕ ГОРОДА МОСКВЫ
«ГИМНАЗИЯ № 1519»

Олимпиада по математике 2 класс

Автор:

учитель начальных классов

Петрикова Ирина Васильевна



Чей день рождения дети будут праздновать сначала, если у Димы день рождения позже, чем у Вали, а у Вали позже, чем у Феди? А потом? Укажи правильный ответ.




Дим
а



Вал
я



Фед
я



Сначала: а) Дима б) Валя в) Федя

Потом: а) Дима б) Валя в) Федя

Во дворе гуляют куры и петух. У каждой курицы по 2 цыплёнка. Всего 7 птиц. Сколько кур гуляет во дворе? Отметь верный ответ.

а) 4 б) 3

в) 2



Чтобы доехать от города до Простоквашино на машине, требуется 3 л бензина, а на мотоцикле – 5 л. На сколько больше литров бензина потребуется, чтобы доехать на мотоцикле до Простаквашино и обратно? Отметь правильный ответ.


а) 2 л

б) 4 л

в) 8



**Раздели прямоугольник двумя
отрезками так, чтобы получилось 8
треугольников.**



Масса арбуза и половина такого же арбуза равна 9 кг. Укажи массу целого арбуза.

- а) 7 кг б) 6 кг в) 5 кг г) 4 кг



Рыболов поймал 15 окуней и разложил их на 5 кучек. Как сделать так, чтобы в каждой кучке было разное количество рыб?



В одной коробке 40 конфет, а в другой наполовину меньше. Укажи, чему равна половина всех конфет.


а) 10 б) 15

в) 20



Если провести стеклом по мрамору, на мраморе останется царапина. А если провести алмазом по стеклу, царапина останется на стекле. Укажите, что самое твёрдое.

а) стекло б) мрамор в)
алмаз



Молодцы!

