

Тема игры Математика

Создано учителем:
Немолотовой Т.С.

**Весёлый
счёт**

**Великие
математик
и**

**Логически
е
задачи**

**Задачи –
шутки**

**Голово
ломки**

100

100

100

100

100

200

200

200

200

200

300

300

300

300

300

400

400

400

400

400

500

500

500

500

500

Вопрос



Над рекой летели птицы: голубь, щука, 2 синицы, 2 стрижа и 5 угрей. Сколько птиц?
Ответь скорее!



«Весёлый счёт» за
100

Ответ

5



Вопрос



Парусник отправляется в плавание в понедельник в полдень. Плавание будет продолжаться 100 часов. Назовите день и час его возвращения в порт.

**«Весёлый счёт»
за 200**

Ответ

Пятница 16.00



Вопрос

Расставьте скобки в записи $7 \cdot 9 + 12 : 3 - 2$
так, чтобы значение полученного
выражения было равно 23.



**«Весёлый счёт»
за 300**

Ответ

$$(7 \cdot 9 + 12) : 3 - 2 = 23$$



Вопрос

Если Серёжа поедет в школу автобусом, а обратно пойдёт пешком, то он затратит на весь путь 1 ч 30 мин. Если же в оба конца он поедет автобусом, то затратит всего 30 мин. Сколько времени затратит Серёжа, если пойдёт пешком и в школу и обратно?

«Весёлый счёт»
за 400

Ответ

2 ч 30 мин



Вопрос

Масса бидона с молоком 32 кг, без молока – 2 кг. Какова масса бидона, заполненного молоком наполовину?



«Весёлый счёт» за
500

Ответ

17 кг



Вопрос

Кому принадлежат эти строки:

**« Математику уже затем учить надо, что
она ум в порядок приводит»?**

**Великие математики за
100**



Ответ

Ломоносову М.В.



Вопрос

Кому принадлежат слова “Математик должен быть поэтом в душе”?

**Великие математики за
200**

самый Ответ

**известной женщине-
математику
Софье Ковалевской**



Вопрос

Кого называют победителем простых чисел?

**Великие математики за
300**



Ответ

Чебышева



Вопрос

Кто из математиков сказал: « Математика -царица наук, а арифметика- царица математики»?

**Великие математики за
400**



ОТВЕТ


Гаусс



Вопрос

Самая известная школьникам теорема названа его именем.

Великие математики за
500



Ответ

Пифагор



Вопрос

Было 9 листов бумаги. Некоторые из них
разрезали на три части. Всего стало
15 листов. Сколько листов бумаги
разрезали?



Логические задачи за
100

Ответ

3



Вопрос

На столе стоят шесть стаканов. Три с водой и три пустых (см. рис.). Дотроньтесь рукой лишь до одного стакана и добейтесь, чтобы пустые и полные стаканы чередовались.



Логические задачи за
200

Ответ



Вопрос

Попрыгунья Стрекоза половину времени каждых суток красного лета спала, третью часть времени каждых суток танцевала, шестую часть – пела.

Остальное время она решила посвятить подготовке к зиме. Сколько часов в сутки Стрекоза готовилась к зиме?



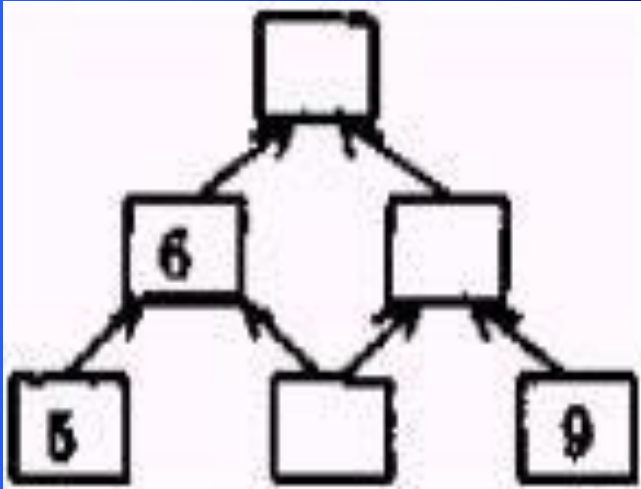
**Логические задачи за
300**

Ответ

0 ч.



Вопрос



Клеточки пирамиды были
заполнены по
следующему правилу:
над каждыми двумя числами
записывали их
полусумму. Некоторые числа
стерли.

Какое число было в верхней
клеточке?

Логические задачи за 400

Ответ

7



Вопрос

Сумма уменьшаемого, вычитаемого и разности
равна 26. Найдите уменьшаемое.

Логические задачи за
500



Ответ

13



Вопрос

Сколько ушей у трёх мышей?
Сколько лап у двух медвежат?

Задачи – шутки за 100



Ответ

6 ушей, 8 лап.



Вопрос

В корзине три яблока. Как поделить их между тремя детьми так, чтобы одно яблоко осталось в корзине?



Задачи – шутки за 200

Ответ

Отдать одно яблоко вместе с корзиной



Вопрос

У бабушки Даши внучка Маша, кот Пушок и собака Дружок. Сколько всего внуков у бабушки?

**Задачи – шутки за
300**



Ответ

1



Вопрос

На берёзе три толстых ветки, на каждой толстой ветке по три тоненьких веточки. На каждой тоненькой веточке по одному яблочку. Сколько всего яблок?



Задачи – шутки за 400

Ответ

Нисколько - на берёзе яблоки не растут.



Вопрос

Книга, содержащая 60 листов, имеет толщину 1 см.
Каков толщина всех листов,
если в книге 240 страниц?

**Задачи – шутки за
500**



Ответ

2 см



Вопрос



Головоломки за
100
ОТВЕТ

Буратино




Вопрос



Головоломки за 200

Ответ

Теремок



Вопрос



Ответ

Десантник



Вопрос



**Головоломки за
400**

ОТВЕТ

Каникулы



Вопрос



**Головоломки за
500**

ОТВЕТ

Курорт

