

№19 ОЖББ мектеп

Ойнайық та, ойлайық

Математика пәнінің мұғалімі: А.Қ.Қажыкен

**Ақыл-ойды
тәртіпке
келтіретін
МАТЕМАТИКА,
сондықтан оны оқу
керек.**

(Ломоносов)

Мақсаты:

- Оқушылардың математика пәніне деген ынталарын арттыру, білім, білік, дағдыны қалыптастыру;
- Логикалық ойлау қабілеттерін дамыту;
- АКТ-ны қолдана отырып, пәнге қызығушылыққа, күзiреттiлiкке, алған бiлiмдi өмiрмен байланыстыруға тәрбиелеу.

Топтармен сәлемдесу

Шақырамыз келіңдер жарысуға
Күш өнер, білімменен алысуға
Бар өнерді салайық ортамызға
Ал кәне, кім шығады сайысуға

Ойын шарттары:

I тур. Ширату сұрақтары

II тур. Ойлан тап

III тур. Бас қатырғыларды шешу

IV тур. Сиқырлы дөңгелек пен үшбұрыш

V тур. Тез санайық

Топ басшыларына сұрақ

VI тур. Шырпылар. Фигураларды қозғайық

VII тур. «Шахмат» ойыны

Ойлан тап

I топқа

1. Екі адам тоғызқұмалақты екі сағат ойнады. Әрқайсысы неше сағаттан ойнады? (2 сағат)
2. Дорбадағы 10 асықты 10 бала бір-бірлеп алды. Сонда 1 асық дорбада қалды. Бұл қалай? (бір бала асықты дорбамен бірге алған)

II топқа

1. Түнгі сағат 10-да жауын жауып тұрса, 24 сағаттан кейін күннің жарқырап тұруы мүмкін бе?
(жоқ, 24 сағаттан кейін түн болады)
2. Қосарлап жегілген ат-арбамен Жантілеу 25 шақырым жол жүрді. Оның әр аты неше шақырым жол жүрді?
(25 шақырым)



Бас қатырғыларды шешу



I топқа

$$\begin{array}{r} 1) \quad *** \\ \quad \quad *4 \\ \hline + \quad 98* \\ \quad \quad *2*5 \\ \hline 1*2*0 \end{array}$$

2) Бес 3 арқылы 100 санын жаз.

II топқа

$$\begin{array}{r} 1) \quad *2* \\ \quad \quad 57 \\ \hline + \quad 22*8 \\ \quad \quad **** \\ \hline ***** \end{array}$$


2) Алты 7 арқылы 100 санын жаз.



30		4	44	13	34	36	24	8	29	
				25		11				
6	28	12		47	38	5	2	15	49	
41		32								
21		39		27	18	50	45		23	
								7		
33		10	46	16		37	20	48	31	42
		19				3	43			
51		1	14	40		26	35		9	
22						17				



Топ басшыларына сұрақ



1. Бір қалаға 100 турист келді. Олардың 10-ы неміс тілін, француз тілін де білмейді. 75 адам неміс тілін, 83 адам француз тілін біледі. Неше турист осы екі тілдің екеуін де біледі? (68 адам)

2. Капитан Флингтің көгілдір түстес 3 тотықұсы 3 кг жемді 3 күнде, жасыл түстес 5 тоты 5 кг жемді 5 күнде, ал сарғыш 7 құсы 7 кг жемді 7 күнде жеп тауысады. Тотылардың ең қомағайы қайсысы?

(көгілдір түстес)



«Шахмат» ойыны

I топқа


да	математика	қамқоршысы
бастаушысы	жанашыры	де
сан	жаңалықтары	ғылымның
іргетасы	химия	физика


II топқа

осы	қиғаш	жоқ
де	математикаға	сәуір
өнер	иә	заң
да	алма	қажет

Қорытынды:

Топтарды марапаттау





Назарларыңызға рахмет!



Жеңістеріңіз құтты болсын!