

Презентация

урока математики

для 1 класса на тему

**«Сложение однозначных чисел с переходом через десяток.
Закрепление знаний»**

Подготовлена учителем начальных классов
ГБОУ СШ № 3 им. С.П. Королёва г. Байконур
Звонковой Е.А.

Сиди правильно



Правильная посадка
при чтении



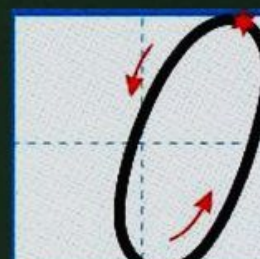

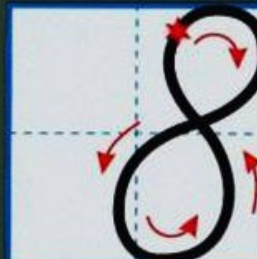
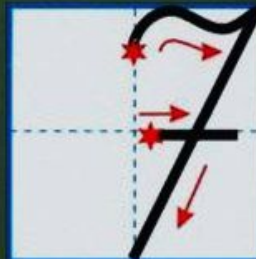
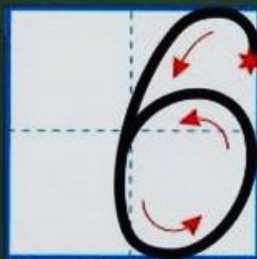
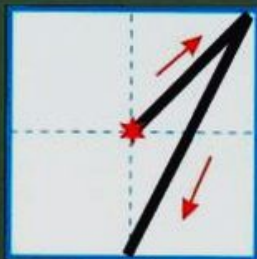
Правильная посадка
при письме

Правила поведения на уроке

На уроке будь
старательным,
Будь спокойным и
внимательным.
Всё пиши, не отставая,
Слушай, не перебивая.
Говори всё чётко, внятно,
Чтобы было всем понятно



Пиши цифры правильно!



«ДРУЖБА»

***Пусть навеки в нашем классе
Будут дружба, мир, согласие!
Все преграды – расступись!
Покорим любую высь!***



Математическая разминка

Напиши число, следующее за числом 14.	15
Напиши число, предыдущее числу 18.	17
Какое число находится между числами 15 и 17?	16
Какое получится число, если 10 увеличить на 2?	12
Какое получится число, если 20 уменьшить на 1?	19
Найдите сумму чисел 10 и 8.	18
	10
	7

**Повторение состава
чисел от 11 до 18**



11



9


3

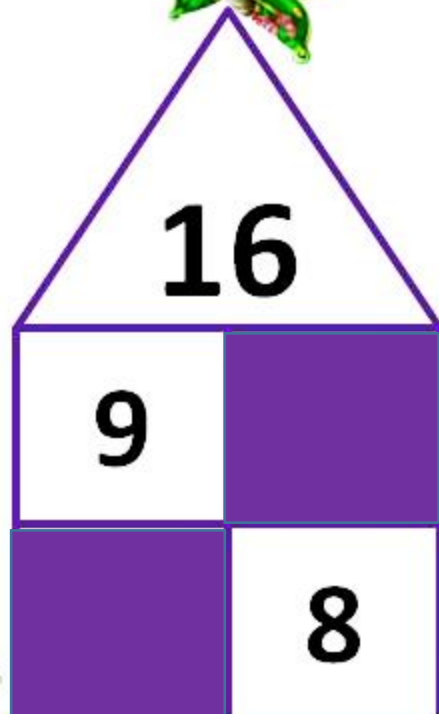
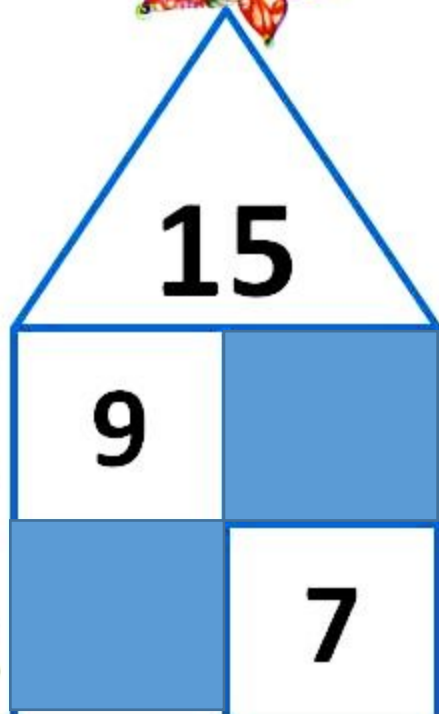
7

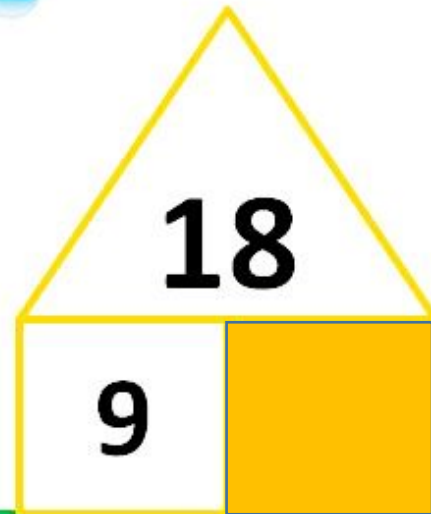

5











Решение примеров с объяснением

$7 + 5 =$

$9 + 7 =$

$7 + 6 =$

$9 + 8 =$

$9 + 6 =$

$8 + 3 =$



$$7 + 5 = 12$$

$$9 + 7 = 16$$

$$7 + 6 = 13$$

$$9 + 8 = 17$$

$$9 + 6 = 15$$

$$8 + 3 = 11$$



Самостоятельная работа

$7 + 4 = 11$



$9 + 4 = 13$



$7 + 7 = 14$



$8 + 8 = 16$



$6 + 5 = 11$



$8 + 6 = 14$



$9 + 9 = 18$




$6 + 6 = 12$



Физкультминутка





Решение задач

Задача

1. Условие задачи.
2. Вопрос задачи.
3. Решение задачи.
4. Ответ.


№ 4 на стр. 73



4

5

Работа в парах



$$4 + 5 = 9$$

$$5 - 4 = 1$$

Это интересно!

- Одно дерево производит около 120 кг кислорода в год.
- Этого достаточно для жизни семьи из трёх человек на протяжении года.



№ 7 на странице 73

**Галя сложила из конструктора 3 домика,
а**

**Лена – на 2 домика больше. Сколько
доми-
ков сложила Лена?**

Галя сложила из конструктора 3 домика,
а

Лена – на 2 домика больше. Сколько
доми-
ков сложили девочки?

Задача 7.



Галя - 3 д.

Лена - ?, на 2д. больше



1). $3 + 2 = 5$ (д.) - сложила Лена.

2). $3 + 5 = 8$ (д.) - сложили девочки.

Ответ: 8 домиков сложили девочки.

Оценим свои знания



**«Математику уже затем учить
надо,**

Что она ум в порядок приводит»

М.В. Ломоносов

