

ПОЗЛ



СЗЖ



*СТРИЖ

30



* ТРИО






Сколько
было?



Что
изменилось?



Сколько
стало?




Сначала был 1 ёжик. Потом к нему подбежал ещё 1 ёжик. Всего стало 2 ёжика.

Запись $1 + 1 = 2$ читается так:

«К одному прибавить 1, получится 2».

Сколько
было?



Что
изменилось?



Сколько
стало?



Было 3 зайца. Потом 2 зайца убежали.
Остался 1 заяц.

Запись $3 - 2 = 1$ читается так:

«Из трёх вычесть 2, получится 1».

Сколько
было?



Что
изменилось?




Сколько
стало?



Рассмотри схему.
Дополни запись и прочитай её.

Схема:



Запись:

$$2 + 1 = \square$$





Найди 2 одинаковых рисунка.

