


ВОПРОСЫ ПОВТОРЕНИЯ

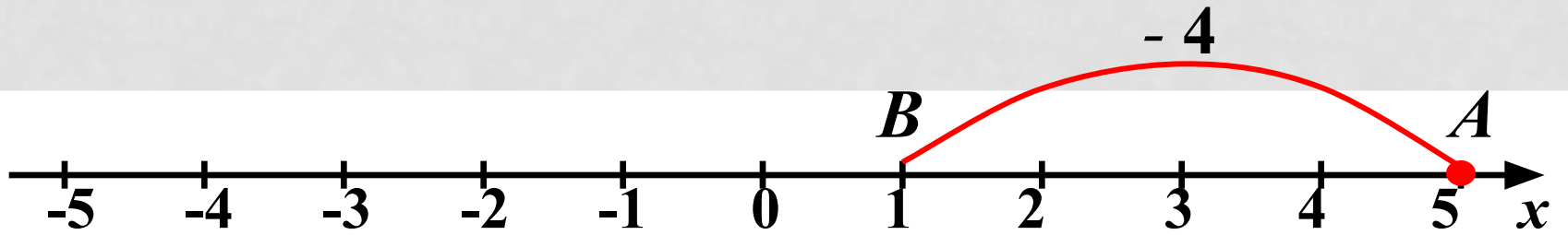
Скажите

- 1. Какое из чисел имеет больший модуль?*
- 2. Сравните числа*

$$-89 > -98$$

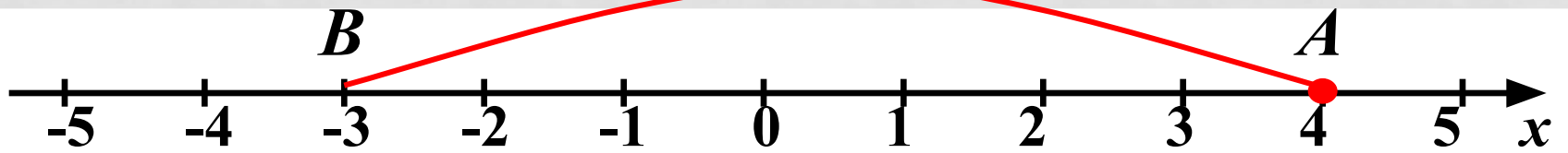


$$5 + (-4) =$$

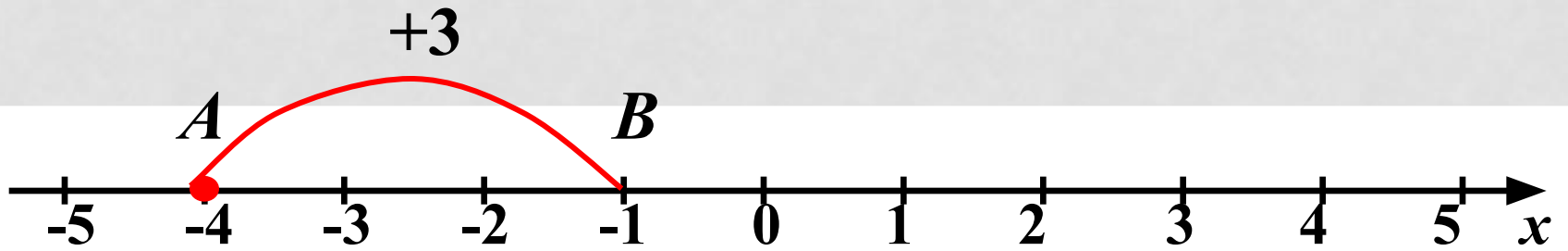


$$4 + (-7) =$$

-7

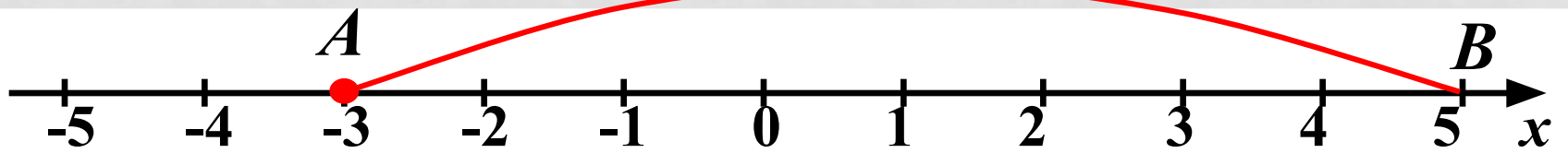


$$-4 + 3 =$$




$$-3 + 8 =$$

+8




**В РЕЗУЛЬТАТЕ СЛОЖЕНИЯ ЧИСЕЛ С
РАЗНЫМИ ЗНАКАМИ МОЖЕТ ПОЛУЧИТЬСЯ
КАК ПОЛОЖИТЕЛЬНОЕ, ТАК И
ОТРИЦАТЕЛЬНОЕ ЧИСЛО.**



$$5 + (-4) = 1$$

$$-3 + 8 = 5$$




$$4 + (-7) = -3$$

$$-4 + 3 = -1$$

**Вывод. Знак суммы совпадает со знаком
слагаемого с бóльшим модулем.**

СОВЕРШЕНСТВО ВНЕШНЕГО ПОСЛАНИЕ СУММАРИИ



ЗАДАНИЕ.

РАЗДЕЛИТЕ СЛЕДУЮЩИЕ ПРИМЕРЫ, НЕ ВЫПОЛНЯЯ ВЫЧИСЛЕНИЙ, НА ДВЕ ГРУППЫ.

$-4 + 5;$

$7 + (-8);$

$4 + (-2);$


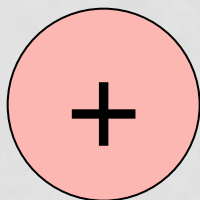
$-6 + 3;$

$8 + (-5);$

$-6 + 10;$

$-10 + 6;$

$5 + (-8).$



**При сложении двух чисел
с разными знаками обычно
сначала определяют и записывают
большее модуля, а потом
находят**

ЗНАК

разность

ь

модулей.

ОБЪЯСНИТЕ РЕШЕНИЕ ПРИМЕРОВ



$$26 + (-6) = + (26 - 6) = 20$$

$$-5,7 + 3,4 = -(5,7 - 3,4) = -2,3$$

Молодцы!

ЗАПОЛНИ ПРОПУСКИ

$$a) (*10) + (*5) = -5$$

$$a) (-10) + (+5) = -5$$

$$б) (-8) + (+9) = 1$$

$$в) (-10) + (-10) = -20$$

$$г) (+30) + (+10) = 40$$

$$д) (*+5) + (-5) = 0$$

$$е) (+10) + (+10) = 20$$

- Практическая работа в парах.
- Оценка работы и эмоционального состояния.

Заполните пропуски:

1. Любое число от прибавления
положительного числа _____, а
от прибавления отрицательного
числа _____ .

2. Чтобы сложить два
отрицательных
числа, надо:

- а) сложить _____;
- б) поставить перед
полученным
числом знак _____ .

3. При сложении двух чисел
с разными знаками обычно
сначала определяют и
записывают
_____ суммы, а потом находят
_____ модулей.

4. Сумма
противоположных чисел равна

« »

Ученик выполняет сложение некоторых пар чисел. Фрагменты его решений даны ниже. Узнайте, какие числа складывает ученик и какие ответы у него получаются?

а) _____ + _____ = $-(4 + 0,2)$ = _____

б) _____ + _____ = $-(4 - 0,2)$ = _____

в) _____ + _____ = $+(4 - 0,2)$ = _____



ДОМАШНЕЕ ЗАДАНИЕ

*§ 33. Читать, учить правило,
устно ответить на вопросы
на стр. 181;*

№ 1081 1,2,3 строки

№ 1085.

Удачи!

