



Математический КВН

5,6-ые классы

**Подготовила:
Маркус Екатерина Андреевна,
учитель математики МОУ СОШ №22
города Сургута,
2014 год**

1 задание

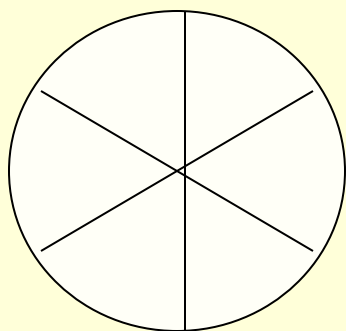
- Какая команда за 5 минут вспомнит больше имён и фамилий великих математиков?



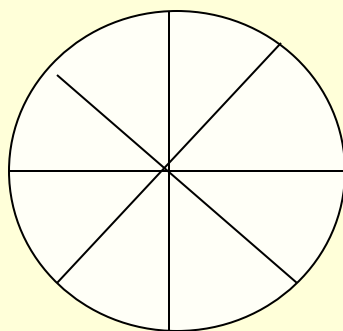
2 задание – разминка (10 минут)



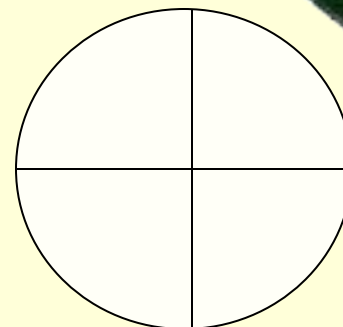
1.



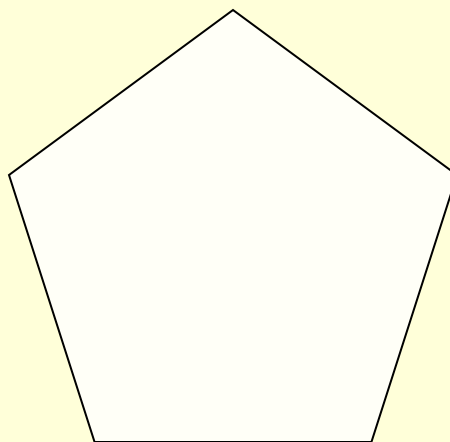
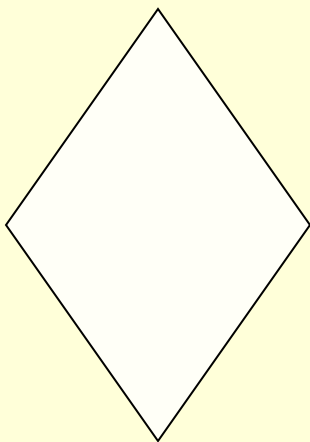
24



40



12



?

2 задание – разминка (10 минут)



2.

плато

(танк)

окунь

верба

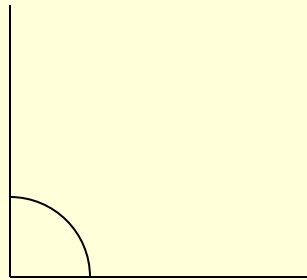
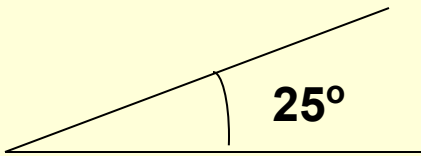
(. . . .)

атлас

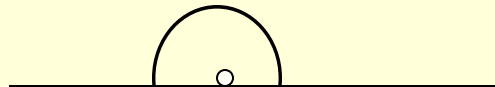
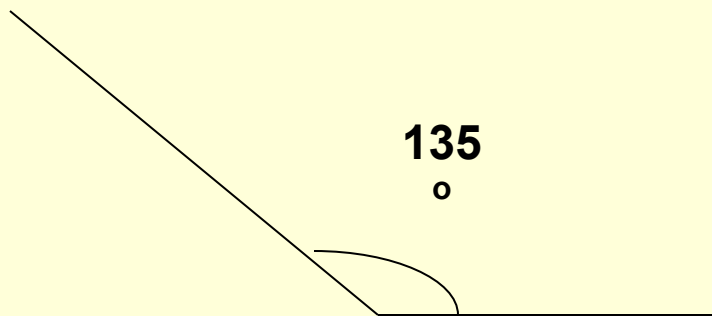
2 задание – разминка (10 минут)



3.



65°




?


2 задание – разминка (5 минут)



4.



**Длина
окружности**

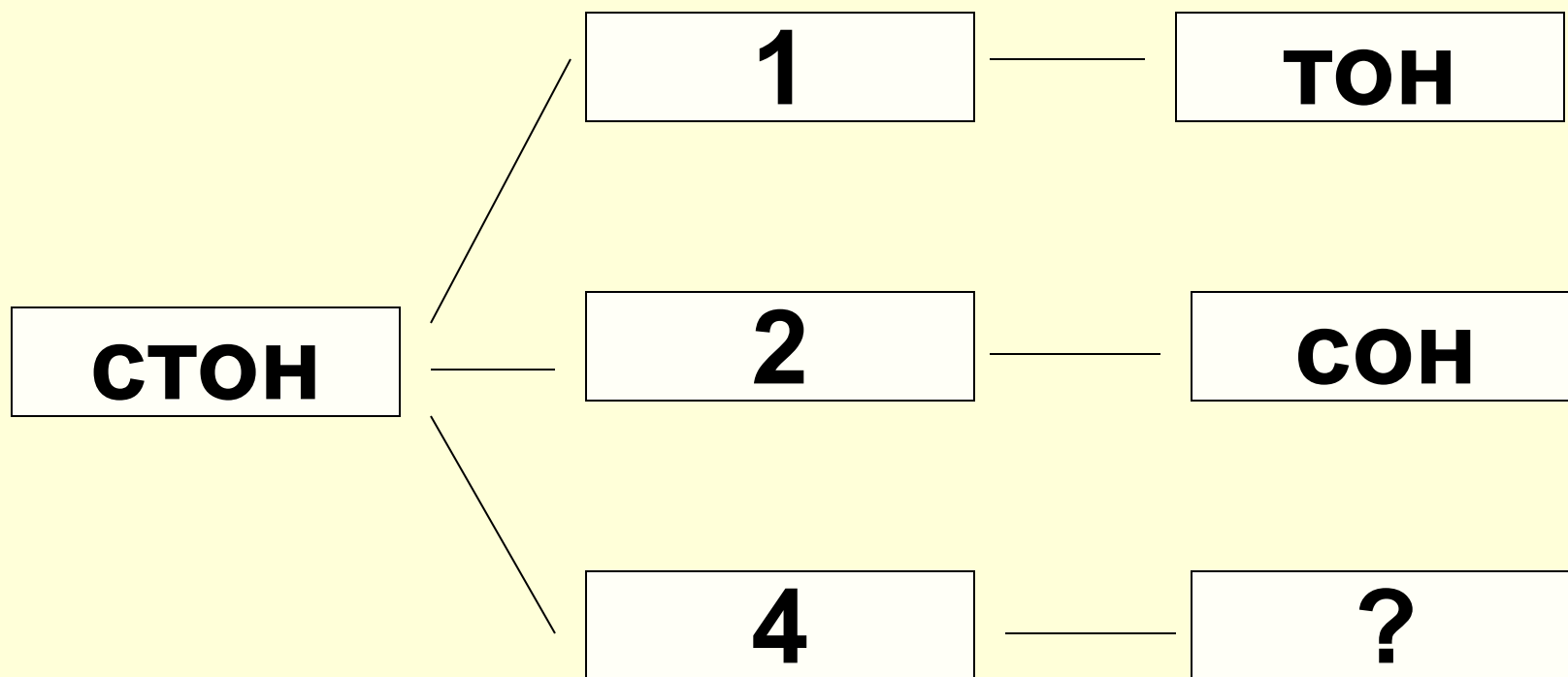


?

2 задание – разминка (10 минут)



5.



3 задание – кроссворд (10 минут)



По горизонтали:

1. Наука о количествах и пространственных формах действительного мира.
2. Геометрическая фигура из трёх последовательно соединённых отрезков и трёх углов.

По вертикали:

1. Геометрическая фигура, которая состоит из четырех последовательно соединённых равных отрезков и четырёх прямых углов.
2. Единица измерения длины.
3. Отрезок, который соединяет центр окружности с точкой на окружности.

3 задание - кроссворд



						2	3									
						т	р	е	у	г	о	л	ь	н	и	к
	1к						а									
	в						д									
1	а	т	е	2	а	т	и	к	а							
м				м												
	д			е			у									
	р			т			с									
	а			р												
	т															

По горизонтали:

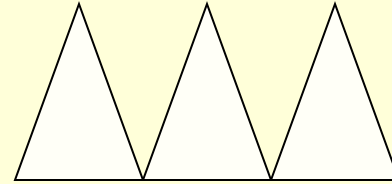
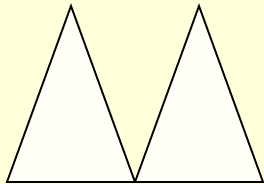
1. Наука о количествах и пространственных формах действительного мира.
2. Геометрическая фигура из трёх последовательно соединённых отрезков и трёх углов.

По вертикали:

1. Геометрическая фигура, которая состоит из четырех последовательно соединённых равных отрезков и четырёх прямых углов.
2. Единица измерения длины.
3. Отрезок, который соединяет центр окружности с точкой на окружности.

Задания для болельщиков (5 минут)

1. Найдите неизвестное число



$$\begin{array}{r} 7 \\ \hline 1 \\ 5 \end{array}$$

$$\begin{array}{r} 2 \\ \hline 1 \\ 5 \end{array}$$

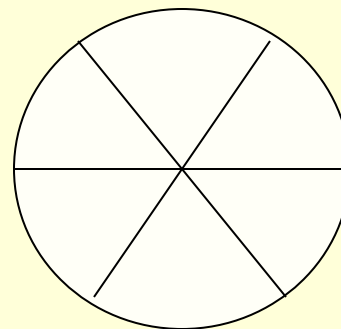
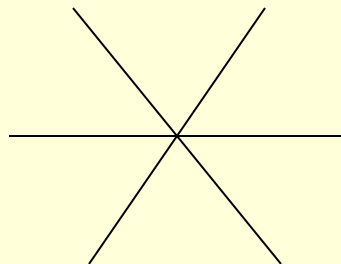

$$\begin{array}{r} ? \\ \hline 1 \\ 5 \end{array}$$



Задания для болельщиков (5 минут)

2

.



3; 7; 11

4; 8; 11

?



