

Письменный прием вида 50-24

Цели урока

- Познакомимся с новым приемом вычитания.
- Продолжим учиться решать задачи и выполнять устные вычисления.

Устный счет. Решите задачу

1. Серебристая чайка живет 44 года, а ворон – на 25 лет дольше. Сколько лет может прожить ворон?

Устный счет. Решите задачу

- С одной грядки собрали 37 кг помидоров. Это на 12 кг больше, чем с другой. Сколько кг помидор собрали со второй грядки?

Игра «Пчелка»



$12+13$



$40-8$



$84-40$



$55-50$



$56+4$

Игра «Пчелка»



$$12+13=25$$



$$40-8=32$$



$$84-40=44$$



$$55-30=25$$



$$56+4=60$$





Товаромания.РФ

Новый прием вычитания

- $50 - 24$
- $50 - 24 = (50 - 20) - 4 = 26$

- $$\begin{array}{r} _ 50 \\ _ 24 \\ \hline 26 \end{array}$$



ЗАДАНИЕ:
выполнить примеры №1 стр.19



Физминутка

- <http://www.youtube.com/watch?v=n3vAAfVswzc>








Работа по учебнику

- Стр. 19 № 2 решение задачи
- Стр. 19 № 3 -устно.
- Самостоятельно: стр. 19 - поля, вычисли, найди лишнее.



Назови фигуры:



вида $20 + 2$, $22 - 2$, $22 - 20$



$$\begin{array}{c} \text{||||} \text{||||} + \text{||} = \text{||||} \text{||||} \text{||} \\ 20 + 2 = 22 \end{array}$$

$$\begin{array}{c} \text{||||} \text{||||} \text{||} - \text{||} = \text{||||} \text{||||} \\ 22 - 2 = 20 \end{array}$$

$$\begin{array}{c} \text{||||} \text{||||} \text{||} - \text{||||} \text{||||} = \text{||} \\ 22 - 20 = 2 \end{array}$$

Реши примеры

$30 + 2 = \square$

$56 - 6 = \square$

$43 - 40 = \square$

$5 + 40 = \square$

$34 - 4 = \square$

$75 - 70 = \square$

$80 + 1 = \square$

$29 - 9 = \square$

$93 - 90 = \square$

$7 + 60 = \square$

$87 - 7 = \square$

$52 - 50 = \square$

$66 - 60 = \square$

$74 - 4 = \square$

$50 + 8 = \square$

$98 - 8 = \square$

$42 - 40 = \square$

$3 + 70 = \square$

$87 - 80 = \square$

$49 - 9 = \square$

$50 + 5 = \square$

$48 - 40 = \square$

$68 - 8 = \square$

$1 + 90 = \square$

$70 + 6 + 1 = \square$

$87 - 80 + 20 = \square$

$57 - 7 - 1 = \square$

$90 - 1 - 9 = \square$

$20 + (41 - 40) = \square$

$50 + 3 + 1 = \square$

$83 - 3 + 4 = \square$

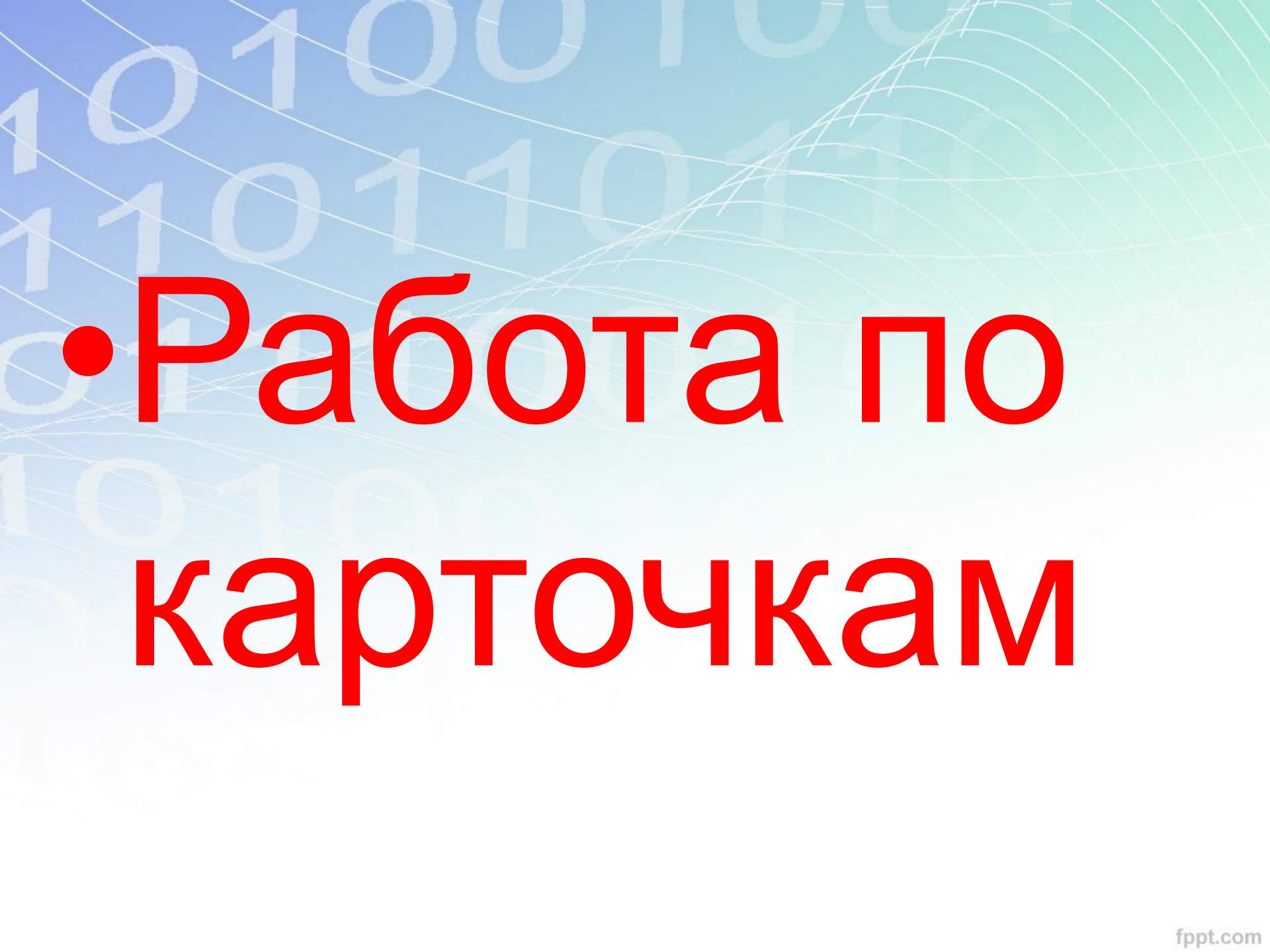
$6 + (39 - 9) = \square$

$40 - 1 - 1 = \square$

$29 - 20 + 50 = \square$

$9 + (74 - 4) = \square$

$79 + 1 + 8 = \square$



- **Работа по карточкам**

Домашнее задание

- Стр. 19 № 4