
САБАҚТЫҢ ТАҚЫРЫБЫ:

Заңдылықтар

Оқу мақсаты

20-ға дейінгі сандар тізбегін/ондықтармен 100-ге дейінгі сандар тізбегін құрастырады;
100 көлеміндегі сан, сурет, фигура, символдардан тұратын тізбектердің заңдылықтарын анықтайды







ЖЕТІСТІК КРИТЕРИЙЛЕРІ:

Сандар, заттар қатарындағы заңдылықтарды анықтап үйренесіңдер.



□ **Заңдылық**-бұл кез келген заттардың немесе сандардың белгілі бір ретпен орналасу ережесі

Зандылықты сақтай отырып, дөңгелектер тізбегін жалғастыр



1

2

3

1

2



3

ТОПТЫҚ ЖҰМЫС.

- **Бұршақтардан заңдылықты сақтай отырып, тізбек құрастыр**

ЖҰПТЫҚ ЖҰМЫС

90	3
70	5
*	*
*	*
*	*



ДЕСКРИПТОР

- ЗАҢДЫЛЫҚТЫ САҚТАЙ ОТЫРЫП, САНДАРДЫ
ЖАЗА БІЛЕМІН

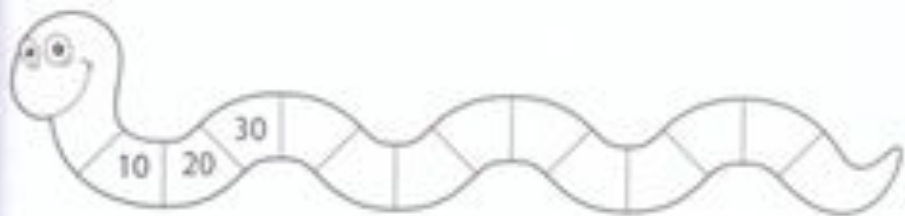
ТЕКСТЫ

90	3
70	5
50	7
30	9
10	11

ДӘПТЕРМЕН ЖҰМЫС

Суретке қара.

Сандық қатарлардағы заңдылықты тап. Берілген сандық қатарларды жалғастырып жаз.



Орындап көр

Алашаның суретін сал. Жолақтарын көрсетілген ретпен боя. Алашаның шетінде қандай жолақ болады?

