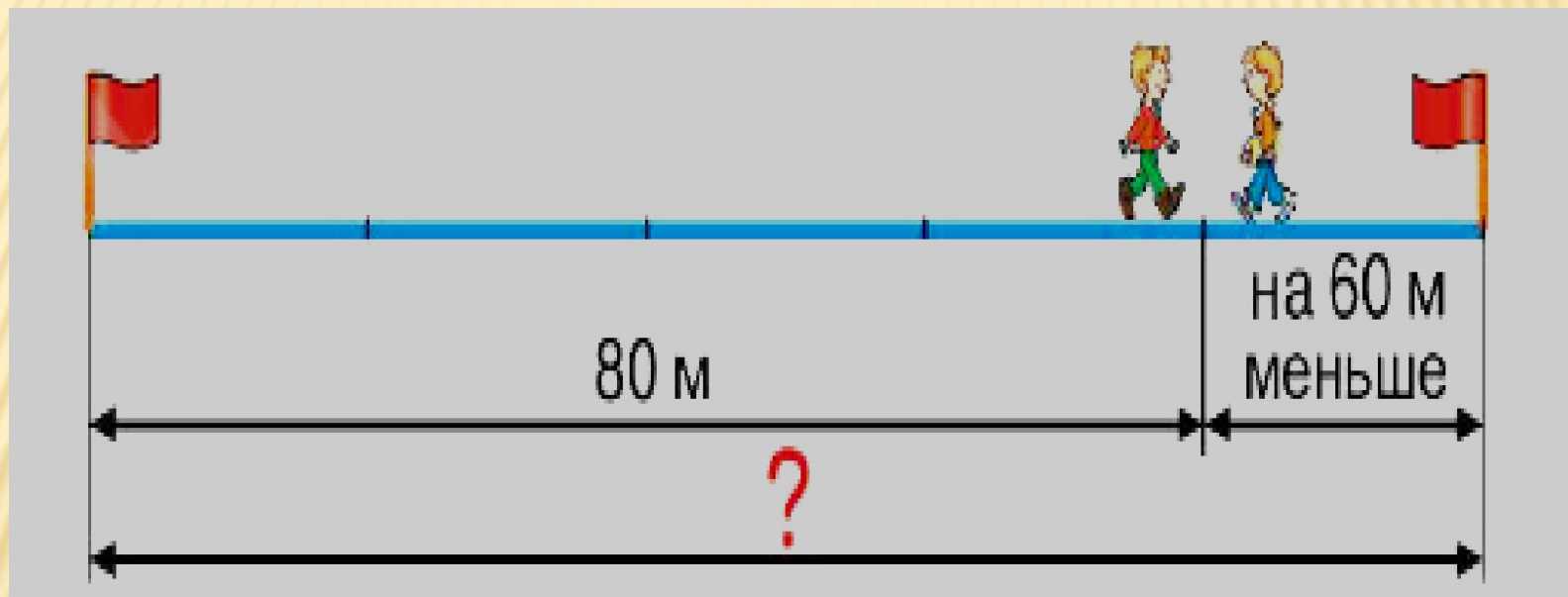


**2 КЛАСС**


---

# СОСТАВЬ И РЕШИ ЗАДАЧУ




# НАЙДИ ПЕРИМЕТР

---



# НАЙДИ ПЕРИМЕТР



$$P = 7 + 7 + 4 + 4 = 22(\text{см})$$



$$P = 6 + 6 + 4 = 16(\text{см})$$



• Реши примеры.

$$40 + 5 + 20 + 7 = \square \square$$

$$30 + 8 + 50 + 6 = \square \square$$

$$20 + 6 + 9 + 60 = \square \square$$

$$10 + 4 + 70 + 8 = \square \square$$

$$4 + 30 + 6 + 20 = \square \square$$

# ПРОВЕРЬ СЕБЯ

---

72

94

94

92

60

**МОЛОДЕЦ!!!**