




Я УЧУ МАТЕМАТИКУ



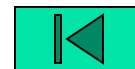


- ❖ **ВЕСЕЛЫЕ
ЗАДАЧИ**
- ❖ **ПОДУМАЙ**
- ❖ **ЧИСЛОВЫЕ
ЦЕПОЧКИ**
- ❖ **ОТГАТАЙ** 

ВЕСЁЛЫЕ ЗАДАЧИ

▣ По тропинке зайчик шёл,
Подосиновик нашёл.
Походил вокруг осин
И нашёл ещё один.

? Сколько всего подосиновиков нашёл зайчик?



ВЕСЁЛЫЕ ЗАДАЧИ

- *Шесть веселых медвежат
За малиной в лес спешат
Но один из них устал,
А теперь ответ найди:
Сколько мишек впереди?*



ВЕСЁЛЫЕ ЗАДАЧИ


- *Семь весёлых поросят
У корытца в ряд стоят.
Два ушли в кровать ложиться,
Сколько свинок у корытца?*





ПОДУМАЙ И ОТВЕТЬ

- **Запиши число 55, используя для этого арифметические знаки действий и пять четвёрок.**
- **Не отрывая карандаша от бумаги, раздели прямоугольник на две такие части, чтобы из них можно было сложить квадрат.**



ПОДУМАЙ И ОТВЕТЬ

▣ Вставьте в квадраты числа

$$12 - \square = 8$$

$$\square - 6 = 9$$


$$15 - 8 \square =$$

$$\square - 5 = 7$$

$$9 + \square = 12$$

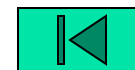
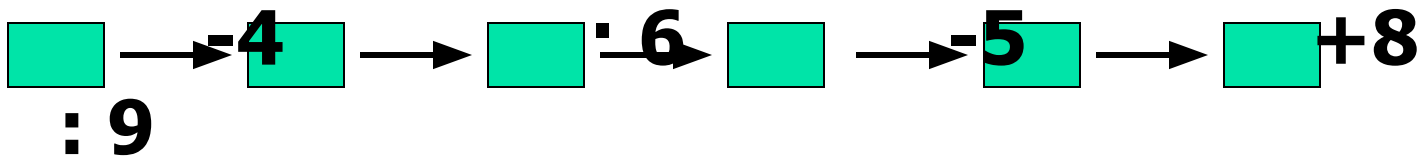
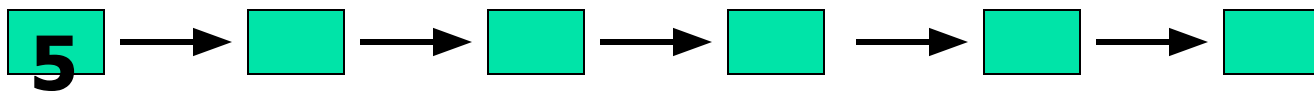
▣ Определите лишнее число

15, 18, 20, 3,
45, 37.

14, 19, 25, 38,
412, 52. 

ЧИСЛОВЫЕ ЦЕПОЧКИ

+2 **+7** **-6** **+9** **- 8**



ОТГАДЫВАЙ

- Какие цифры скрыты?

$$\begin{array}{r} \square \square \square \square \square \\ - \square \square \square \square \\ \hline \square \end{array}$$

- Восстановите пропущенные цифры

$$\begin{array}{r} \square \square 1 2 \square \\ - 1 9 \square \square 5 \\ \hline 2 4 2 4 8 \end{array}$$

$$\begin{array}{r} 7 2 3 6 \square \\ + \square 9 \square \square 6 \\ \hline \square 6 \square 4 3 \square \end{array}$$

