

Урок математики в 1 классе

Деление на группы по несколько предметов





11



13



15




14



5



12

Каждой внучке она дала  .

Сколько внучек у бабушки?

Подчеркни верное решение.


$6 + 2 = 8$

$2 \cdot 6 = 12$

$6 - 2 = 4$

$6 : 2 = 3$

2. На каждую блузку пришили две пуговицы.

На все блузки нужно  .

Сколько блузок?

Выбери верный ответ.

8

4

3

6

3. Сливы разложили на блюда по 3. Обведи линиями по 3 сливы.



Сколько блюдец?

4. Морковки связали в пучки по 5 штук.




Сколько пучков получилось?

$10 - 5 = \square$

$6 + 6 = \square$

$7 - 0 = \square$

6. Найди отрезок, длина которого равна 7 см.



7. На вопрос о длине отрезка дети ответили так.

Витя: «Длина отрезка меньше 5 см».

Таня: «Длина отрезка больше 5 см».

Коля: «Длина отрезка равна 5 см».

Кто прав?



8. Распредели слова в рамки.





10. Сколько разных букв в слове КАРАКАТИЦА?

10 5 6 8

УЗНАЁМ НОВОЕ

Сложение с числом 10

1.

Запиши, сколько предметов на каждом рисунке.

