A collage of school supplies on a dark green background. In the top left, a yellow pencil with a pink eraser and a white band lies diagonally across a stack of white lined notebooks. Below it, a grey calculator is partially visible, showing a display with the number 258.97 and various function buttons like MC, M+, M-, MR, C, ±, ÷, ×, and =. In the center, a stack of white graph paper with a red vertical margin line is the focal point. A yellow pencil with a red eraser and a red band lies diagonally across the bottom of the graph paper. The text 'Вычитание числа 0.' is written in large, bold, red Cyrillic letters across the middle of the graph paper.

# Вычитание числа 0.

# Цель: познакомить с правилом вычитания числа ноль.



## Задачи:

1

формировать умение решать задачи используя арифметическое действие вычитание;

2

развивать умения правильно высказывать мысли, опираясь на изученный материал; продолжать развивать речь с использованием математических терминов; развивать логическое мышление;

3

воспитывать культуру общения, приучать к доброжелательному общению, умению слушать других.

# УСТНЫЙ СЧЕТ



- В комнате 4 угла. В каждом углу сидела кошка, напротив каждой кошки — 3 кошки. Сколько кошек находилось в комнате?
- Сколько орехов в пустом стакане?
- По морю плыли 9 акул. Они увидели косяк рыб и нырнули в глубину. Сколько плавало акул?
- В вазе стояло 3 тюльпана и 7 нарциссов. Сколько тюльпанов стояло в вазе?
- Какая птица выводится из яйца, а сама яиц не несет?
- На столе лежало 4 яблока. Одно из них разрезали пополам и положили на стол. Сколько яблок на

# Загадка

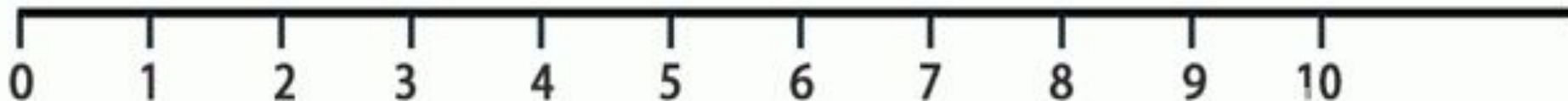


- Могу назвать его мячом,  
А хочешь дыркой назовем,  
А можно бубликом,  
Почти что кругленьким.  
Но как его не назовем,  
Он называется..





- какое число при счёте следует за числом 8?
- какое число, предшествует числу 6?
- какое число, следует за числом 10?
- назовите числа от 3 до 12; от 14 до 5.
- назовите числа меньше 8.
- назовите числа больше 16.





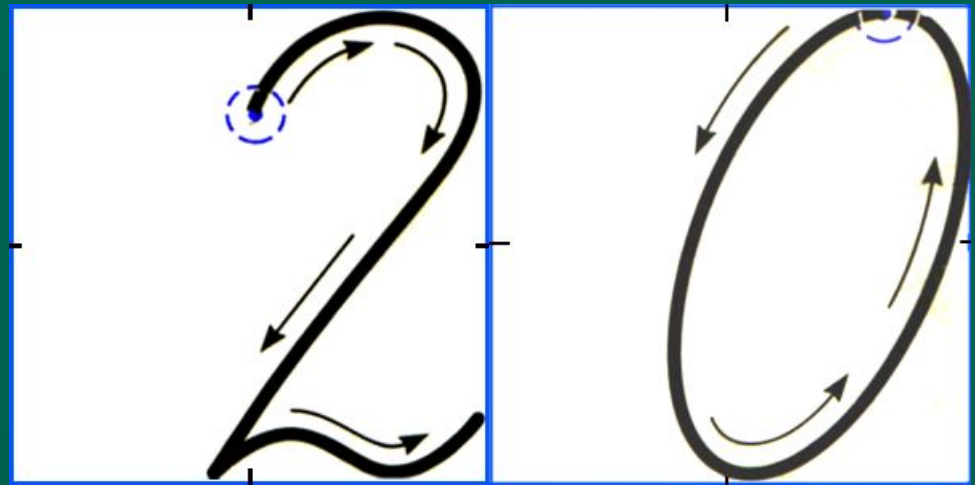
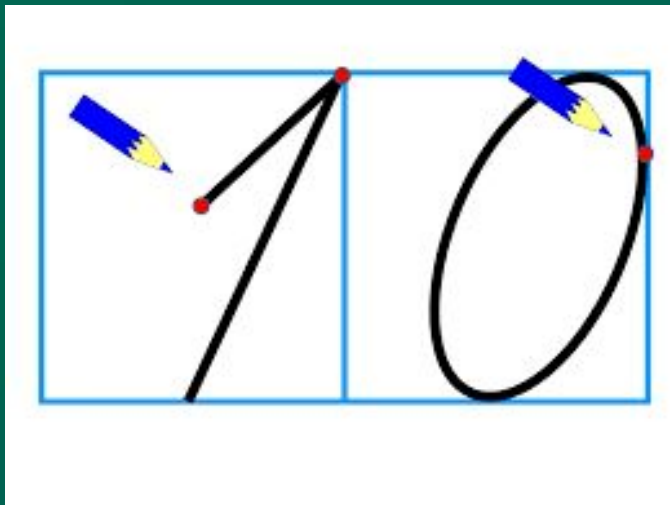
- *Три мартышки – три соседки*
- *– С ветки прыгали на ветку.*
- *Расшумелись, раскричались.*
- *Дождь пошел – все разбежались.*
- *– Сколько мартышек на ветке осталось?*



# Минутка чистописания



- В записи каких чисел в пределах 20 есть цифра ноль?



Выбери и прочитай только те записи, результаты которых мы можем назвать



•  $9 - 4 = 5$  

•  $6 - 9$  

•  $0 - 3$  

•  $7 - 0 = 7$  





• Отдохнем?






Он гулял по лесу  
смело,  
Но лиса героя  
съела.  
На прощанье спел  
бедняжка.  
Его звали ...




# Колобок





В Простоквашино он жил  
И с Матроскиным дружил.  
Простоват он был немножко,  
Звали песика...



# Шарик



Потерял он как-то  
хвостик,

Но его вернули гости.

Он ворчлив, как старичок

Этот грустный





# Ослик Иа





Как зеленое бревно,  
Я в воде лежу  
давно,  
Но не трогайте за  
брюшко,  
Могу съесть вас!  
Я ...



# Крокодил



Мимо улья  
проходил  
Косолапый ...



# Медведь

