


**5 класс**  
**Повторение**  
**пройденного в**  
**4 классе**




Найди и сосчитай, сколько бабочек спряталось от зайки?




# Засели домик:

11	
5	
	9
3	
	7
6	



# Засели домик:

12	
5	
	9
3	
	7
6	



# Разложи на разрядные слагаемые

$38 =$

$12 =$

$56 =$

$61 =$

$47 =$

$15 =$





**Реши задачу:**

У Малыша было 15 банок с вареньем. 6 банок Карлсон съел. Сколько банок с вареньем осталось?





Бабушка испекла 8 пирожков с  
яблоками и 14 с капустой.  
Сколько пирожков испекла  
бабушка?



# Физкультминутка

*Буратино потянулся.*

*Раз - нагнулся, два -  
нагнулся.*

*Руки в стороны развёл,  
Ключик видно не нашёл.*

*Чтобы ключик нам  
достать,*

*На носочки надо встать.*





# Реши примеры.



$27+5=$

$46-4=$

$24+10=$

$15+4=$

$20-5=$

$48-10=$

$28+2=$

$12-6=$

$27-7=$

20

40

38

30

34

19


6

32


15

# Решите задачу.

В одной банке 5кг меда, в другой банке – в 2 раза больше. Сколько килограммов меда в двух банках?



5кг



?

1 банка – 5 кг

2 банка - ? В 2 раза больше

Сколько меда в двух банках?

Решение.

# «Ёлочка настроения»



- *Я доволен своей работой на уроке.*
- *На уроке я работал неплохо.*
- *На уроке мне было трудно.*