


***Доли.
Обыкновенные дроби***

Путешествие на Марс



Марс — четвёртая по удалённости от Солнца и седьмая по размерам планета Солнечной системы.

Эта планета названа в честь Марса — древнеримского бога войны

Иногда Марс называют «**Красная планета**» из-за красноватого оттенка поверхности.

Как найти пятую часть часа?

$$60 : 5 = 12$$

Какую часть часа составляет 15 минут?

$$60 : 15 = 4$$


$$4000 : 80 = ?$$

В каком же году это было?

$$2011 - 50 = 1961$$

Сколько планет в нашей Солнечной системе?

9 планет



Секретные сообщения

Сообщение 1

Заполните пропуски.

Дробь – это _____

Числитель стоит _____ чертой и означает, сколько равных частей _____ от целого.

Знаменатель стоит _____ чертой и показывает, на сколько равных частей _____ целое.

Секретные сообщения

Сообщение 2

Заполните пропуски.

Дробь называется правильной, если числитель _____ знаменателя.

Дробь называется _____, если числитель больше или равен знаменателю.

Неправильная дробь _____
правильной дроби.

Заполните пропуски

... в поле не воин
У ... нянек дитя без глазу

Скупой платит ...
— Не имей ... рублей, а имей ...
друзей

... блин комом
... сапога – пара

Заполните пропуски

Заблудиться в ... соснах

— Конь на ... ногах, да и то —

спотыкается

Старый друг лучше новых

— ... —

Обещанного ... года ждут

Знаю как свои ...

— пальцев —

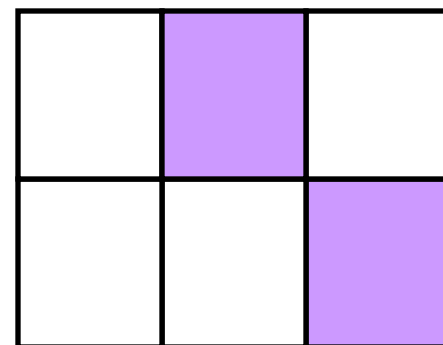

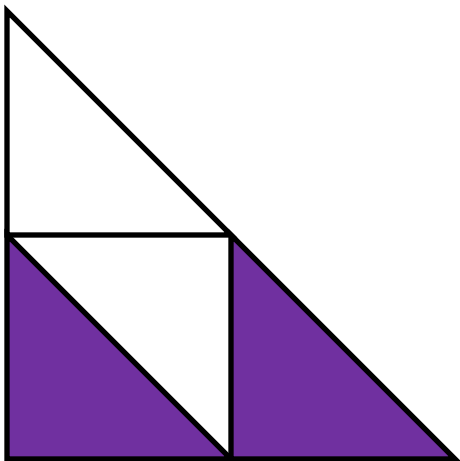
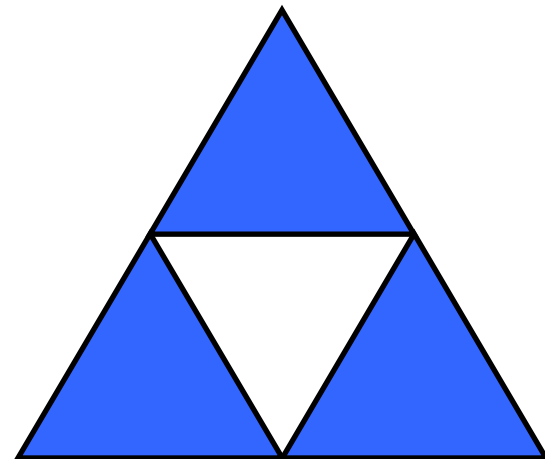
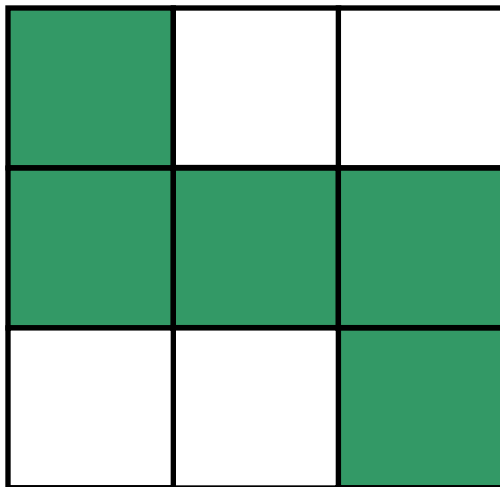

Лук от ... недуг

Хвостуну цена - ... копейки

— Лучше один раз увидеть, чем ... раз —

услышать

Какая часть фигуры закрашена?





$\frac{3}{5}$	$\frac{2}{4}$	$\frac{5}{9}$	$\frac{8}{9}$	1	$\frac{3}{4}$	$\frac{1}{8}$	$\frac{2}{6}$	$\frac{1}{4}$
<i>K</i>	<i>B</i>	<i>P</i>	<i>A</i>	<i>E</i>	<i>И</i>	<i>O</i>	<i>T</i>	<i>П</i>

$\frac{1}{4}$ $\frac{5}{9}$ $\frac{3}{4}$ $\frac{2}{4}$ 1 $\frac{2}{6}$
П *Р* *И* *В* *Е* *Т*





Изобразите фигуру по ее части

$\frac{1}{3}$	$\frac{2}{5}$	$\frac{3}{4}$



*Выпишите в первую строчку правильные,
а во вторую - неправильные дроби*

$$\frac{2}{5}; \frac{4}{5}; \frac{7}{6}; \frac{1}{4}; \frac{17}{15}; \frac{1}{2}; \frac{12}{5}; \frac{5}{6}; \frac{6}{5}$$

Проверь себя!

- Правильные дроби:

$$\frac{2}{5}; \frac{4}{5}; \frac{1}{4}; \frac{1}{2}; \frac{5}{6}$$

- Неправильные дроби:

$$\frac{7}{6}; \frac{17}{15}; \frac{12}{5}; \frac{6}{5}$$



Подведем итоги

- Я вспомнил(а)...
- Я научился(ась)...
- Особенно мне понравилось...
- Меня заинтересовало...



Благодарю за внимание!

