

**Математика  
по учебнику Л.Г.Петерсон  
1 класс**

*Тема урока:*

**« Волшебные  
цифры »**

1,2,3,4,5,6,7,8,9,10,11,12,13,  
14,15,16,17,18,19,19,20.



3, 9, 7, 2, 4, 5, 6, 1.

- $5+1=6$
- $4+2=6$
- $3+3=6$
- $2+4=6$
- $1+5=6$

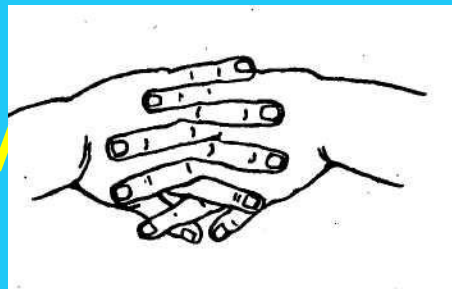
**Справились!**





# Пальчиковая гимнастика

Мы наши пальчики сплели  
И вытянули ручку  
Ну, а теперь мы от Земли  
Отталкиваем тучки.




Какие цифры  
спрятались?



- ЭТО величина, при  
помощи которой  
производится счёт.

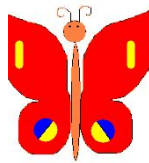





# Подумай!




# Волшебные цифры

0 1 2 3 4 5 6 7 8 9





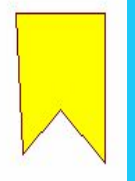
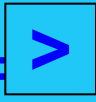
0 1 2 3 4 5 6 7 8 9




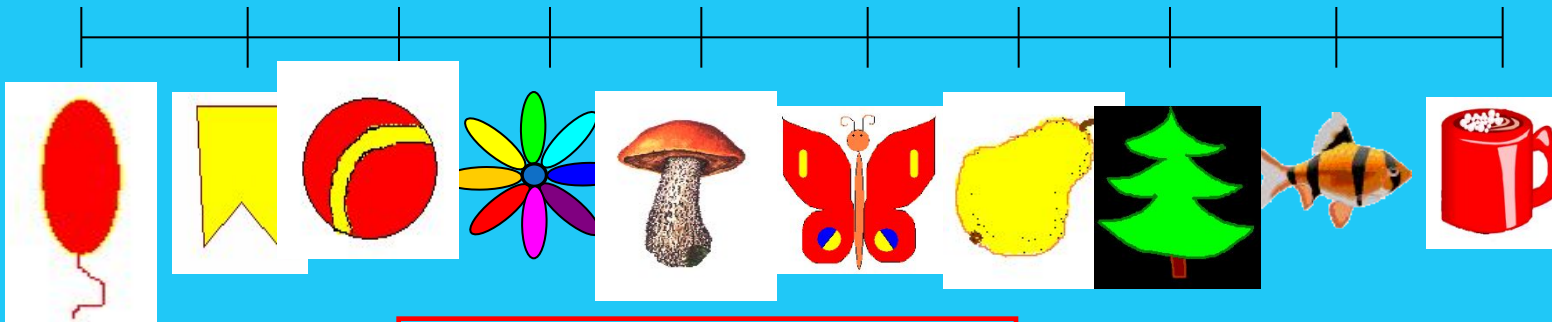
ывод  
знак - цифра левее

на числовом отрезке,

то число меньше, правее — больше



0 1 2 3 4 5 6 7 8 9



+



**Вывод:**

>




если к одинаковому числу прибавить другое  
число, то получится большее число,  
если вычесть, то получится меньшее число.




<



-



=



0

1

2

3

4






5

6


7

8

9



+



+



+

1



+

2



-

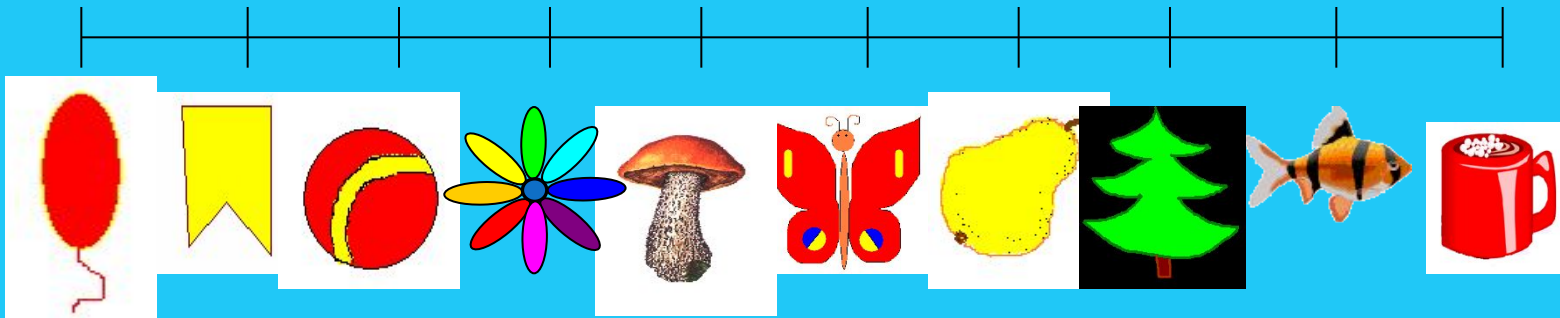
1



-

2

0 1 2 3 4 5 6 7 8 9




А теперь сможем решить?

$$\text{bookmark} + \text{mushroom} = \text{butterfly}$$

< > =

$$\text{balloon} \text{ ? } \text{tree}$$



**А вот и я!**

***Берегите зрение!***

**Римские цифры– I II III IV V VI**

**Арабские цифры – 1 2 3 4 5 6**

# Проверь себя!

$$I + II = III$$

$$V + II = VII$$

$$III - II = I$$

$$VIII - I = VII$$

*Молодцы!*