

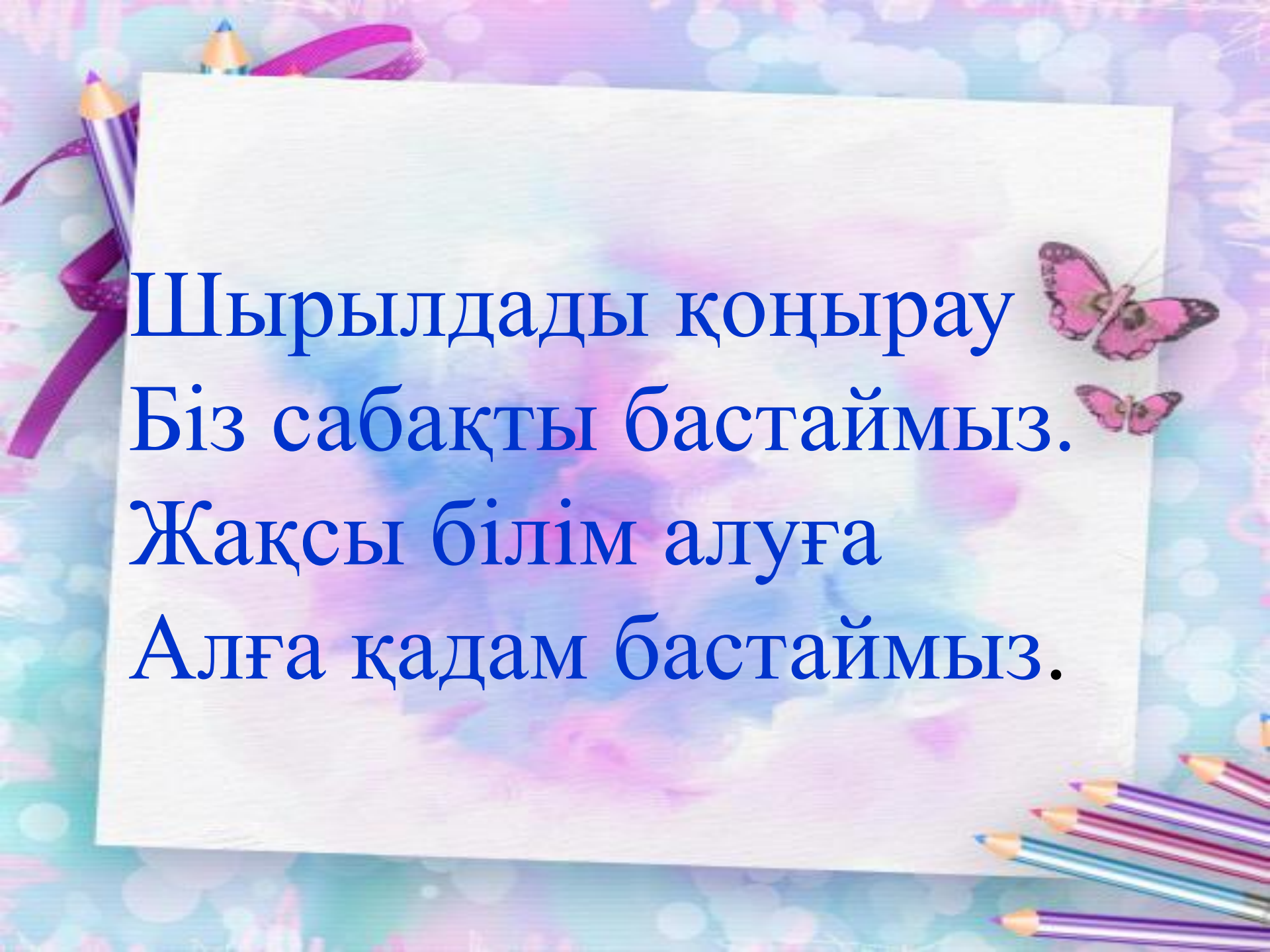
9 санының құрамы




Білімділік: Оқушыларды 9 санының құрамын ажыратуға үйрету, теңдіктер жазуға машықтандыру

Дамытушылық: Ойлау, есте сақтау қабілеттерін, ауызша есептеу дағдыларын, логикалық ойлау қабілеттерін дамыту;

Тәрбиелілік: Еңбекқорлыққа, достыққа, мейірімділікке тәрбиелеу.



Шырылдады қоңырау
Біз сабақты бастаймыз.
Жақсы білім алуға
Алға қадам бастаймыз.



Психологиялық дайындық

Қыс келсе құлпырады әлем,
Нұрын төккен көкке күнге
Сәлем беру ата- салты бәрімізге ,
Қасымдағы досыма да мен айтамын.





Орындықтардың нөмірін анықта








***Келіңдер, бірге
ойланайық!***



7

2



?

3



?





7

2

5

3

?



7

2



5

3




4






1




?

2



?







3



?



8

1			7
2			?
3			?



8

1

2

3

7


?

?

A house-shaped grid with a white triangular roof and a brown textured body. The grid is divided into three rows and two columns. The number '8' is written in red above the roof. The number '1' is written in red to the left of the first row, '2' to the left of the second row, and '3' to the left of the third row. The number '7' is written in red to the right of the first row, and two question marks '?' are written in red to the right of the second and third rows. The grid contains the following: Row 1: Left box has 1 bee; Right box has 7 bees. Row 2: Left box has 2 bees; Right box is empty. Row 3: Left box has 3 bees; Right box is empty.



1




7

2




6

3





1



2



3



8

7



6



5



Цифрлар қайда жасырынған?



Сергіту сәті.

Оңға, оңға түзу тұр,
Солға, солға түзу тұр.
Алға қарай бір адым.
Артқа қарай бір адым.
Жоғары – төмен қарайық,
Орнымызды табайық.



Жаңа сабақ


Ал, қанекей, балалар,
Бері таман қарандар,
Жаңа сабақ бастайық,
Есептерді қиналмай
Лезде шешіп тастайық.

9 санының құрамы

Балапанды санайық, жақсылап бағайық
Балапандардың айырмашылығын байқашы

Көк бантикті балапан нешеуі?

Қара баумен неше балапан, нешеуі қызыл?



9



5

4

9




3



6



Оқулықпен жұмыс



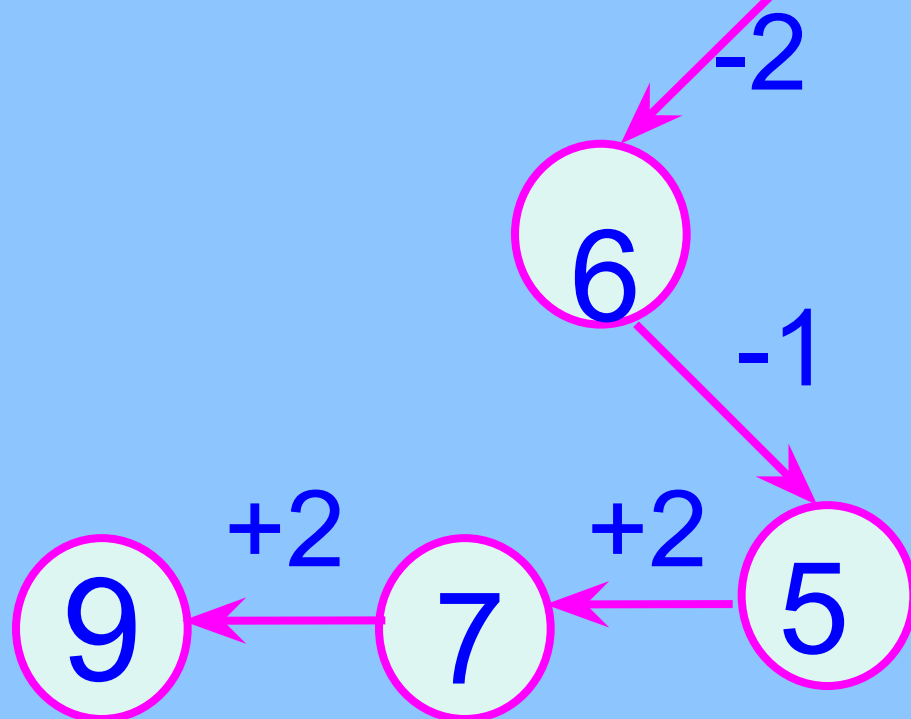
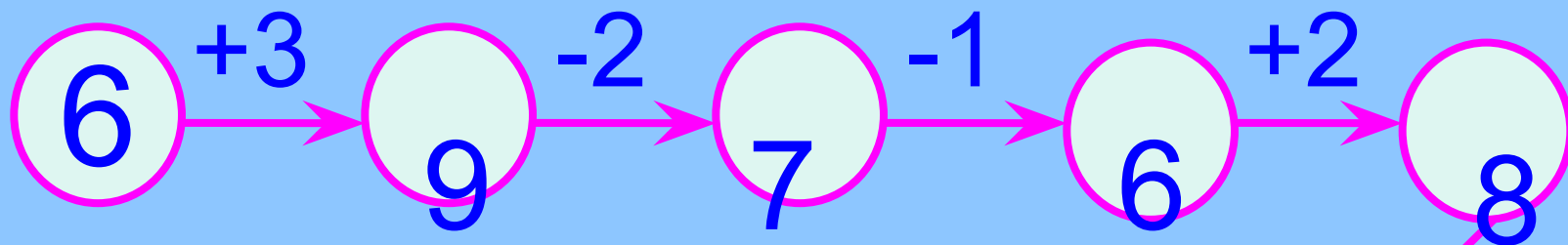




Үйшіктерге толтырып жазайық

9	
1	8
6	3
5	4
5	4
2	7

Оралған жіппен тізбек құрайық



**Дәптерімізді ашайық,
Салақтықтан қашайық.
Қолға қалам алайық,
Әдемі етіп жазайық**



Салыстыр

0*9

9см*7см

6*9

4см*9см

9*9

9см*9см

9*8

9см*6см

9-3



9-5



4+5



8-2



6+3



9

7

10



7-3



4+4



8

5

7



9-4

















A bright blue sky with several white, fluffy clouds. There are five colorful stars scattered across the sky: two yellow stars in the upper right, one purple star in the middle right, one purple star in the middle left, and one white star in the lower left. The text "Кім жылдам?" is written in a red, serif font across the center of the image.

Кім жылдам?

Жаңа ғана шалғында,
9 бұзау жүр еді,
Әлде шаршап қалды ма?
Жатып қапты біреуі.
Нешеуі енді жайылып,
Жүргенін айт айырып.



**Алма бағы жайнаған,
Қызыл алма айналып.
Алдым үзіп 5-еуін
Тағы да алдым 4-еуін
Алдым сонда нешеуін?**







	9	
1		8
5		4
3		6






Жауабы: 9 қарға.

Рефлексия

- Бүгінгі сабақ сіздерге ұнады ма?
- Біз не үйрендік?
- 9 саны қай сандардың қосындысы?



Рахмет!
Ұнадыңдар, балалар!
Күштарсыңдар білімге.
Аяқтап мен сабақты,
Рахмет айтам сендерге.

