

Сыныптан тыс жұмыс:
«Математикалық сандық»
ойыны

5 «ә» және 5 «в» сыныптары



Ойын шарттары:

- 1.Таныстыру (топтың аты, ұраны)**
- 2. «Кім жылдам?»**
- 3. «Тапқыр болсаң, талас жоқ»
(жұмбақ есептер)**
- 4. «Ғажайып алаңы»**
- 5. «Тіл-өнері» (топ басшылар сайысы)**
- 6.Ұшқыр ой (логикалық есептерді
шешу)**

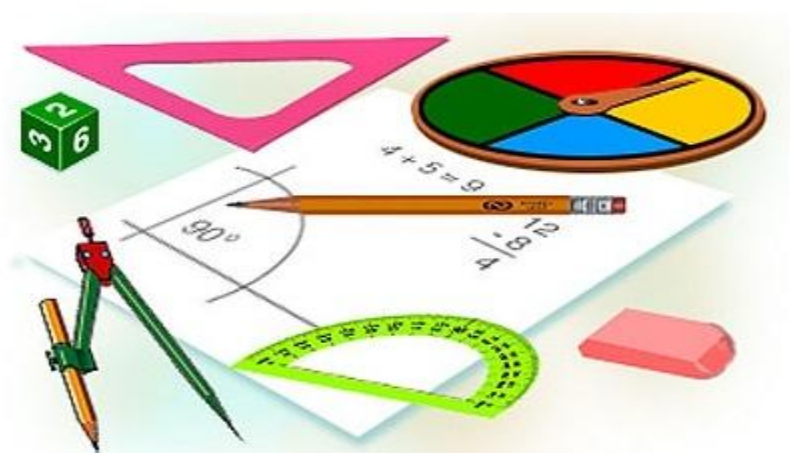


I.



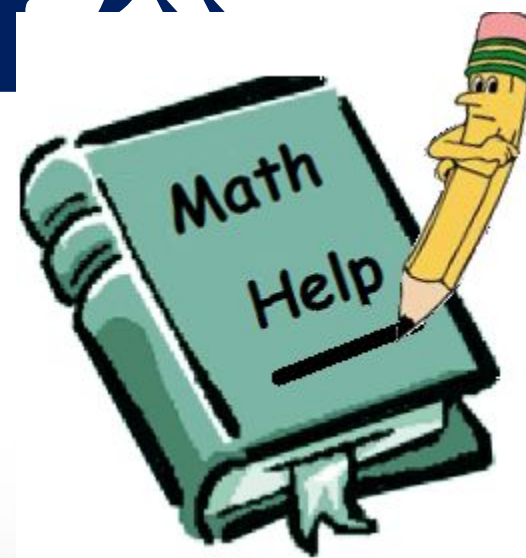
(ен жоғары ұпай)

Таныстыру





II. «Кім жылдам?»



- 1.Ортақ бөлгіші 1-ге тең сан. **(өзара жай сан)**
- 2.Шеңбер бойындағы кез келген нүктені центрмен қосатын кесінді **(радиус)**
- 3.Алымы бөлімінен үлкен бөлшек. **(бұрыс бөлшек)**
- 4.Бір тәулікте неше сағат бар? **(24 сағат)**
- 5.Нәрселерді санағанда қолданылатын сандар **(натурал)**
- 6.369 саны 3-ке бөліне ме? **(иә)**
- 7.Бөлгіштері екіден көп сан қалай аталады? **(күрама)**
- 8.Бір нүктеден бірдей қашықтықта жатқан нүктелер жиыны қалай аталады? **(шеңбер)**

1. Шеңбер бойындағы екі нүктені қосатын және центрі арқылы өтетін кесінді (**диаметр**)

2. 19 және 23 сандары қандай сандар? (**жай сандар**)

3. 640 саны 5-ке бөліне ме? (**иә**)

4. 1 километрде неше метр бар? (**1000**)

5. Алымы бөлімінен кіші бөлшек (**дұрыс бөлшек**)

6. Натурал сандар нешеден басталады? (**1-ден**)


7. 48 санының $\frac{1}{2}$ үлесі қанша? (**24**)


8. Жазыңқы бұрыш шамасы нешеге тең? (**180 градус**)



Ш. «Тапқыр болсаң, талас жоқ» (жұмбақ есептер)


(ең жоғары ұпай 3)






**1.Он бір түйе, бес жылқы
Екі сиыр, бес ешкі
Екі қоян, үш түлкі
Таба алмасаң бос күлкі**

(барлығы 28)




**2.Бес бұтақта ағашта
Бұтақ сайын бес алма
Біреуін бер алашқа
Қалады сонда неше алма?**

(барлығы 24)



**3.Кітапханада 3 бөлме,
Әр бөлмеде 10 шкаф.
Әр шкафта 5 сөре,
Санай алсаң егерде,
Айтып берші анықтап?**

$$(3 \times 10 \times 5 = 150)$$



**12 бұтағы бар алып емен,
52 шыбық тарап өскен.
Шыбық сайын жетіден жапырағы
Бар ма сондай ағашты көзің көрген?**

(жыл, 12 ай, 52 апта, 7 тәулік)




IV. «Ғажайып алаңы»



Ғажайып алаңы

<u>20</u>	<u>30</u>	<u>40</u>
<u>20</u>	<u>30</u>	<u>40</u>
<u>20</u>	<u>30</u>	<u>40</u>


Жеті атаны ата



қайту

**75 және 90 санының ең кіші ортақ
еселігі неге тең?**

қайту



«С» әріпімен басталатын 7
математикалық сөзді ата

Бес дұшпан, бес асыл

[қайту](#)



Қабырғасы 6 және 8 см
тік төртбұрыштың ауданы неге тең?

[қайту](#)

«К» әріпімен басталатын 7
математикалық сөзді ата

[қайту](#)



Жеті қазынананы ата

қайту

2
СМ

Квадраттың ауданы 49 , ал
периметрі неге тең?

қайту

Бейне ролик

кайту



V. «Тіл-өнері» (топ басшылар сайысы)





VI. Ұшқыр ой (логикалық есептерді шешу)

(Әрбір дұрыс жауапқа 3 ұпайдан
беріледі)





1. Бала тақтаға 86 санын жазып, жолдасына айтты
« ешқандай амал қолданбай 12-ге арттыр» деп . Ол қалай арттырды?
(98)

2. Үстел үстінде үш стакан шиіе тұр. Марат бір стакан шиені жеп
қойды. Неше стакан қалды?
(3 стакан)

3. Қараңғы бөлмеде майшам мен керосин лампасы бар. Бірінші не
жағасыз?
(шырпы)

4. Атасы немересіне сақтап қойған асығын бергісі келді. Оларға
жетеуден берсе, асықтың екеуі артық қалады. Ал, сегізден берсе
біреу жетпей қалады. Атаның неше немересі бар? Асығы нешеу?
(23 асық, 7 немере)

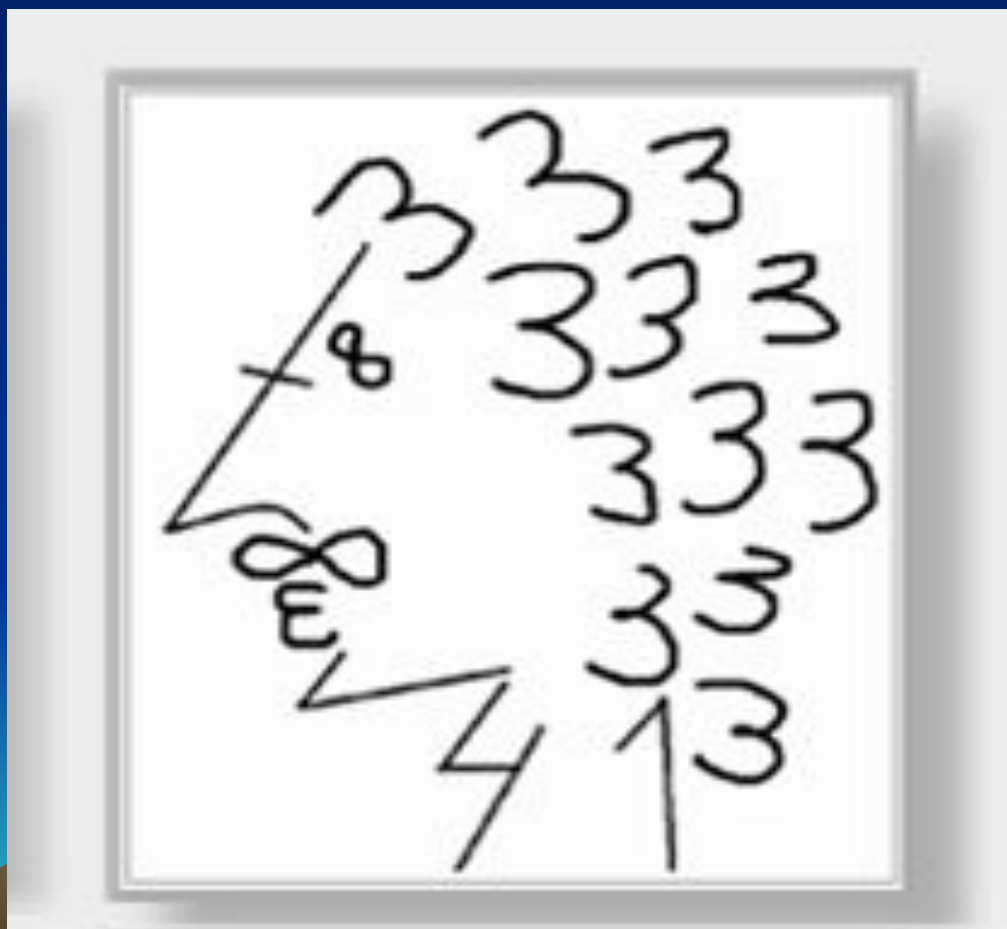
Суреттегі цифрлардың қосындысын тап



51




Суреттегі цифрлардың қосындысын тап



68



Суреттегі квадраттардың саны нешеу?



8



