



Тема: Сравнение числовых
выражений.
Санды өрнектерді салыстыру.



Хорошо, что солнце светит?
Хорошо!

Хорошо, что дует ветер?
Хорошо!

Хорошо идти с друзьями?
Хорошо!


Хорошо прижаться к маме?
Хорошо!

Хорошо в краю родном?
Хорошо!

Хорошо там где наш дом?
Хорошо!

Хорошо кружиться в танце?
Хорошо!

Хорошо жить в Казахстане?
Хорошо!



Девиз урока:

Думаю!

Знаю!

Могу!



Поставьте числа в порядке
возрастания и прочитайте слово

17



7



12




15



10



20



3



9



4



19



Зоомагазин

н

и

г

а

з

м

о

о

з



**Зоомагазин-магазин для
продажи/ покупки животных.
Кроме того, здесь продаётся
корм для животных, клетки,
аквариумы, различные
аксессуары.**



Правила поведения в зоомагазине



1. НЕ кормите,
2. НЕ дразните,
3. НЕ пугайте
животных.
4. Соблюдайте
ЧИСТОТУ и ТИШИНУ.



Поиграем с числами

Чётные числа:
4,10,12,20

Не чётные числа:
3,7,9,15,17,19

Однозначные
числа:
3,4,7,9

Двузначные числа:
10,12,15,17,19,20

Круглые десятки:
10,20



Работа в группах

Раздели на группы

Буквенные выражения:

$a-9$

$9-a$

$4+a$

$a+4$

Числовые выражения:

$9-2$

$10-9$

$1+9$

$7+2$





Составь и сравни числовые выражения. Работа в парах:


1.



2.



3.




Проверь себя:

1. $\underline{3+4} = \underline{5+2}$
7 7

2. $\underline{6+6} > \underline{8+3}$
12 11

3. $\underline{4+4} < \underline{2+8}$
8 10



Чтобы сравнить числовые выражения,
нужно найти и сравнить их **значения**.

Например,

$$\underline{2+5} \ ? \ \underline{6+4}$$

$$7 \quad 10$$

$$2+5 < 6+4$$



Запомни!

Значение-мәні

выражение - өрнек

Значение выражения- өрнектің мәні



Физкультминутка

Кто живет у нас в квартире?

Раз, два, три, четыре, (Хлопаем в ладоши.)

Кто живет у нас в квартире? (Шагаем на месте.)

Раз, два, три, четыре, пять (Прыжки на месте.)

Всех могу пересчитать: (Шагаем на месте.)

Папа, мама, брат, сестра, (Хлопаем в ладоши.)

Кошка Мурка, два котенка, (Наклоны туловища влево-вправо.)

Мой сверчок, щегол и я — (Повороты туловища влево-вправо.)

Вот и вся моя семья! (Хлопаем в ладоши.)



Реши

Сравни значения числовых выражений. Значения каких числовых выражений равны?

Прочитай их.

1 группа

$$18+1 ? 13+7$$

$$5+3 ? 4+4$$

$$2+0 ? 0+5$$

2 группа

$$7+10 ? 10+2$$

$$16+2 ? 14+5$$

$$18+1 ? 0+19$$

3 группа

$$50+40 ? 40+50$$

$$30+60 ? 70+10$$

$$20+80 ? 90+10$$

Проверь себя:

1 группа

$$18+1 < 13+7$$

$$5+3 = 4+4$$

$$2+0 < 0+5$$

2 группа

$$7+10 > 10+2$$

$$16+2 < 14+5$$

$$18+1 = 0+19$$

3 группа

$$50+40 = 40 + 50$$

$$30+60 > 70+10$$


$$20+80 = 90+10$$

Работа в тетради:

Выбери маршрут.

Сравни значения числовых выражений.

Выбери и закрась дорожку, ведущую к равенству.

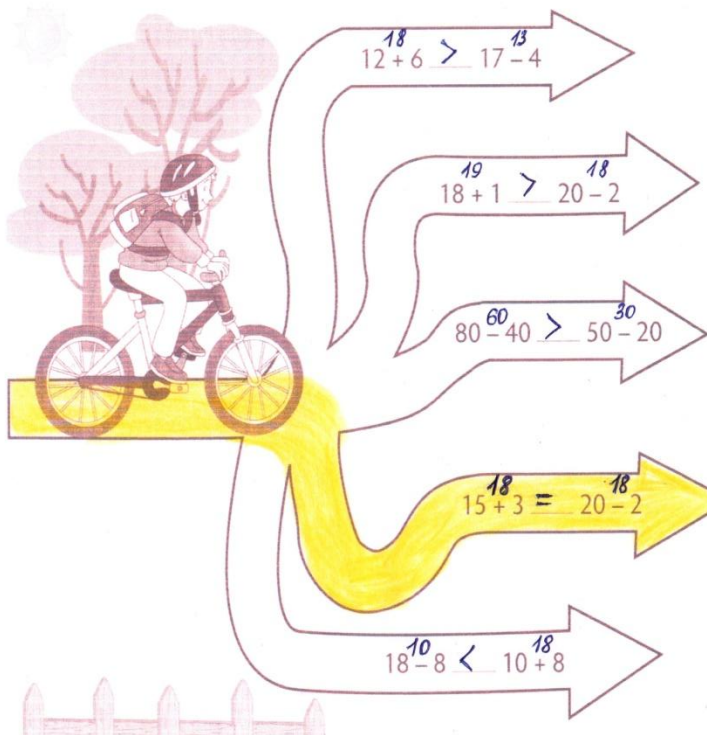


Five paths lead from the cyclist to the right, each containing a mathematical expression to be compared:

- Path 1: $12 + 6 \text{ ___ } 17 - 4$
- Path 2: $18 + 1 \text{ ___ } 20 - 2$
- Path 3: $80 - 40 \text{ ___ } 50 - 20$
- Path 4: $15 + 3 \text{ ___ } 20 - 2$
- Path 5: $18 - 8 \text{ ___ } 10 + 8$



Проверь себя:



Индивидуальная работа:

► Подумай

Робис и Бота совершили покупки.

Чьи покупки тяжелее?

Составь числовые выражения и сравни их.



Проверь себя

$$\underline{8+7} > \underline{6+5}$$

15 11



Игра «Найди пару»

$18-7$

$16+4$

$15+2$

$9-2$

$14+4$

$20-10$

17


20

10

18

7

11



Зелёный- Я всё понял, могу
помочь товарищу.



Жёлтый- Мне всё понятно.

Синий - Мне ещё нужна
помощь.



СПАСИБО ЗА ВНИМАНИЕ!

