



# УСТНЫЙ СЧЁТ

**2 класс**

*Прозвенел звонок,  
Начинается урок.  
Вы за парты дружно сели,  
На меня все посмотрели.  
Математика нас ждёт,  
Начинаем устный счет!*



# Страна Наоборотия.

Назовите числа «обратные» по отношению к заданным



56



19



80



95

37



99



24



56



82



17



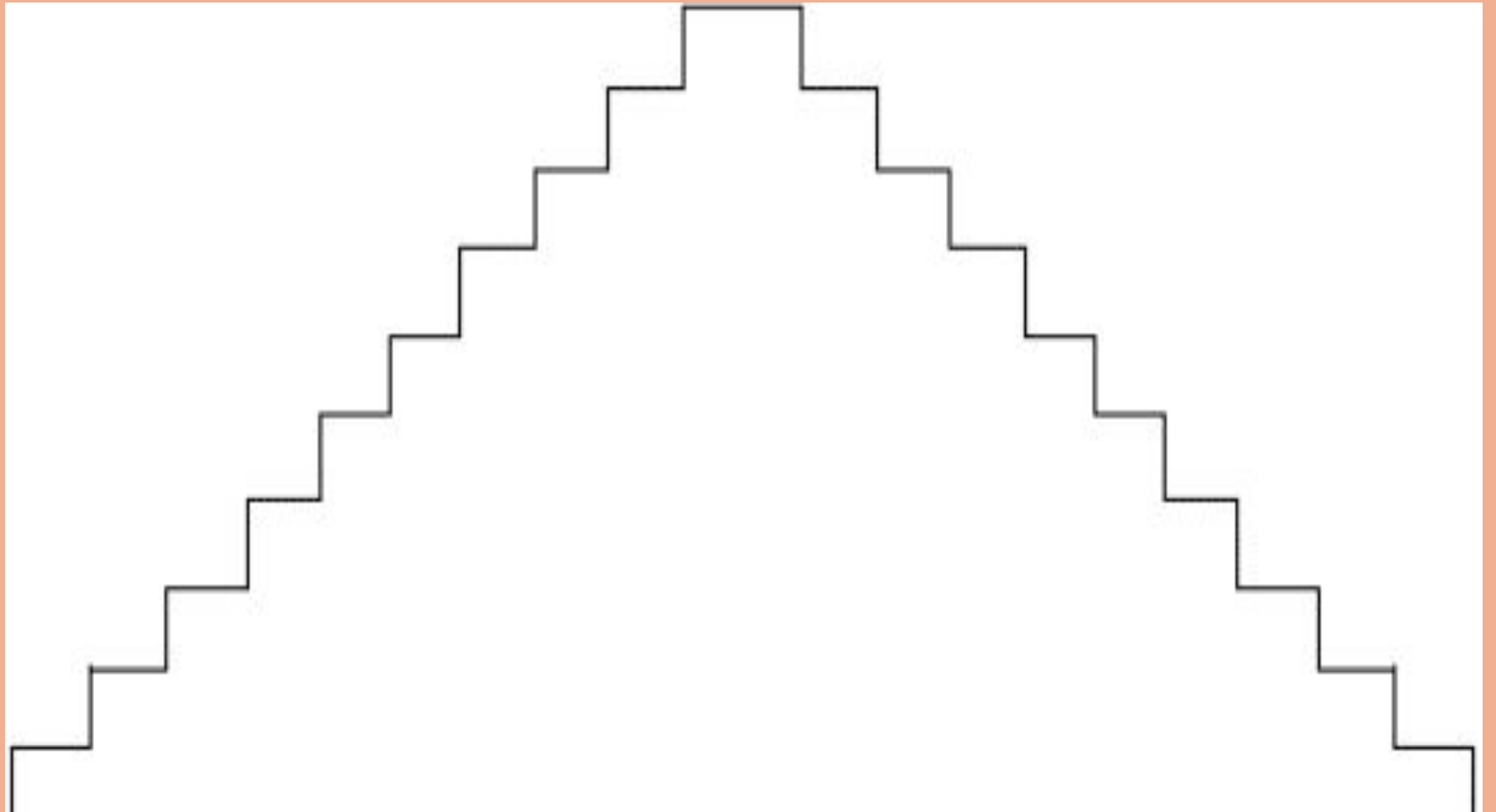
4



49

# Помогите Незнайке

Незнайка может подниматься по лестнице, только ступая сразу через несколько ступенек вверх, а потом — через несколько ступенек вниз, и надо быстро назвать номера ступенек, на которых он меняет направление



**1. От 5 считаем вперед прибавляя 2. ( 7, 9, 11, 13, 15, 17, 19...)**

**2. От 20 считаем назад отнимая 2. (18, 16, 14, 12, 10, 8, 6...)**

**3. От 8 считаем вперед, прибавляя поочередно 3 и 4. ( 8, 11, 15, 18, 22, 25, 29, 32, 36, 39, 43 ... )**

**4. От 10 считаем вперед, прибавляя 8 и вычитая 5. (10, 18, 13, 21, 16, 24, 19, 27, 22... )**

# Назовите «соседей»

65

91

82

89

73

69

# Складываем и вычитаем

$65 + 24 =$

$14 + 53 =$

$70 + 29 =$

$29 + 40 =$

$76 + 23 =$

$58 + 11 =$

$15 + 73 =$

$66 + 14 =$

29

Помоги  
гномику  
посчитать  
примеры

22

33

44

19

25

13



31

36

27

8

$50 - 21 =$

$50 - 37 =$

$50 - 25 =$

$50 - 42 =$

$50 - 28 =$

$50 - 14 =$

$50 - 31 =$

$50 - 19 =$



СПАСИБО!

Quality Shared







# Сравни числа

$4 * 8$

$11 * 10$

$13 * 13$

$7 * 6$

$20 * 15$

$0 * 9$

<

>

=

# Помогите сравнить!

50см .... 5дм 8см

31см .... 4дм9см

13дм....31см

3дм...13см



Поставь вместо знака «\*» знаки «+» или «-», чтобы получились правильные неравенства:

$$36 * 4 * 8 = 32$$

$$50 + (20 * 10) = 80$$

- $23 * 40 * 7 = 70$

- $23 * 7 * 5 = 25$

- $30 * (15 - 5) = 20$

- $18 * 50 * 8 = 60$

- $50 + (28 * 20) = 58$

- $20 * (30 - 10) = 0$

# Задачи на смекалку

1. На Кусте малины было 9 зеленых ягод. 3 ягоды поспели, и их сорвал Паша. Сколько ягод малины осталось на кусте малины? (6)

2. Маша старше брата на 3 года. На сколько Лет Маша Будет старше брата через 5 лет? (на 3 года)

3. Костя задумал число, прибавил к нему 1, отнял 2, умножил результат на 3 и разделил на 4.

Получилось 6. Какое число задумал Костя?

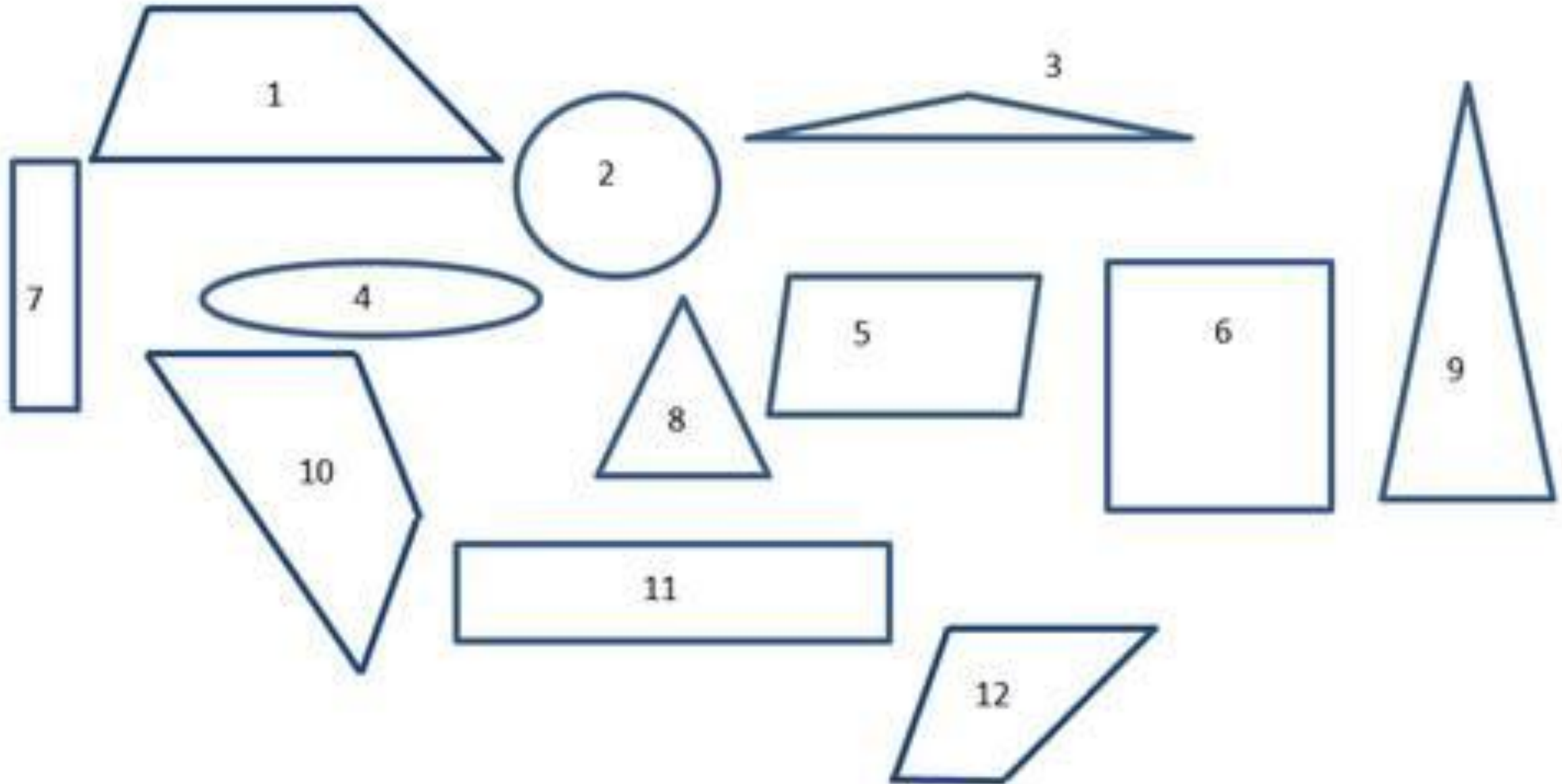
4. Ване и его отцу вместе 40 лет. Сколько будет им вместе через три года?

5. На груше росло 50 груш, а на иве — на 12 меньше. Сколько груш росло на иве?

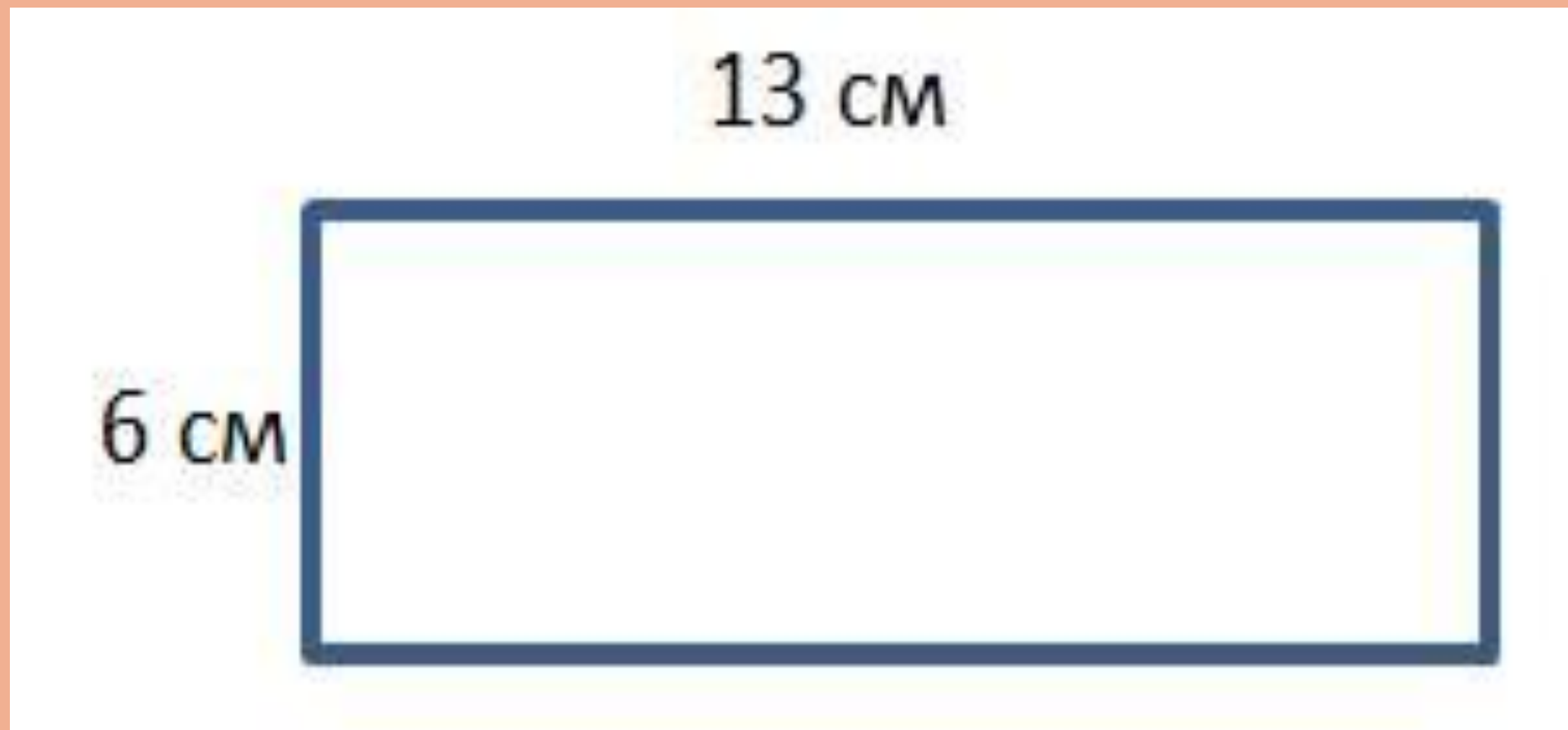
6. На дереве сидело 2 сороки, 3 воробья и 2 белки. Вдруг два воробья вспорхнули и улетели. Сколько птиц осталось на дереве?

7. Бабушка купила на базаре две пары туфель, три яблока и пять груш. Одну пару туфель бабушка подарила своей внучке. Сколько всего фруктов купила бабушка?

Сколько четырёхугольников изображено на рисунке? Какие № они имеют?



Найди периметр фигуры, изображённой на рисунке.



МОЛОДЦЫ!

