

Математика в гостях у сказки



**1 тур – конкурс
капитанов
«Весёлые вопросы»**



2 тур – «Занимательные задачи»





**Про Незнайку
и его друзей**

10

20

30

40

50

**Винни – Пух и
все – все ..**

10

20

30

40

50

**Крокодил Гена
и Чебурашка**

10

20

30

40

50

**Сказочные
задачи**

10

20

30

40


50



У Пончика на комбинезоне

17 карманов:

**10 карманов спереди
остальные – сзади.**



**В передних карманах лежат
по 2 пончика,
а сзади – по 3.**

**Сколько всего пончиков
у Пончика?**



10 очков


Правильный ответ: 41



Когда Винтик и Шпунтик собрали гоночный автомобиль, Торопыжка сел в него покататься и через 5 минут разбил. Сколько автомобилей надо собрать Винтику и Шпунтику, чтобы Торопыжка поездил на них хотя бы 1 час, если ездить он так и не научился?



20 очков Правильный ответ: 12



**Незнайка написал Гусле
письмо из 14 слов
и в каждом допустил по 3 ошибки.
Сколько ошибок
в Незнайкином письме?**



30 очков

Правильный ответ: 42



Когда у Растеряйки кончились носки, друзья подарили ему 15 пар новых. Сколько носков осталось у него, если потерял он в 5 раз больше, чем хранил?



40 очков

Правильный ответ: 5



Трое коротышек вместе выпивают за праздничным столом 6 бутылок сладкой воды, а Сахарин Сахаринович Сиропчик выпивает в 5 раз больше чем другой любой коротышка. Сколько бутылок воды нужно Сиропчику на праздник?

Правильный
ответ: 10



50 очков



Когда у ослика Иа – Иа был хвост, то длина его вместе с хвостом равнялась 2 метра. Когда Винни нашёл хвост у Совы, длина его была 5 дециметров. Какова длина ослика без хвоста?



10 очков

Правильный ответ: 2



Когда Винни – Пух и Пятачок
пришли в гости к Кролику, Винни
– Пух съел 4 банки сгущенного
молока и 8 банок меда. Кролик и
Пятачок съели каждый по
четверть того, что съел Винни.
Сколько банок сгущенного
молока было у Кролика,
если после ухода гостей ничего
не осталось? Правильный ответ: 18

20 очков



Винни – Пух до прихода к Кролику весил 2 килограмма. У кролика он съел 4 банки сгущенного молока по четверть килограмма каждая и 8 банок меда по полкило. Сколько стал весить Винни – Пух после обеда и к чему это привело?

Правильный ответ: 7



30 очков



Винни – Пух нес ослику Иа – Иа горшок с 12 л меда. После того, как Винни открыл горшок и посмотрел на мед, его стало на 2 л меньше. Когда медвежонок понюхал мед, его стало меньше еще на 3 л. Когда же он попробовал, не испортился ли мед, то его совсем не осталось. Сколько меда нужно было Пуху, чтобы попробовать не испортился ли он?

Правильный ответ: 7



40 очков



Ослик Иа – Иа съедает за
обедом 40 кустиков
чертополоха по 50 грамм
каждый. Винни – Пух – 4 банки
меда по полкило каждая. Кто
потяжелел за обед больше?

50 очков

Правильный ответ:
Одинаково. Оба на
2кг.



Чебурашка пока путешествовал в ящике с апельсинами, съедал по одному апельсину на завтрак и обед и два – на ужин. Сколько апельсинов он съел за неделю путешествия?

10 очков

Правильный ответ: 28



Крокодил Гена устроился на работу. Сидит перед зоопарком с гармошкой и всем именинникам поет песню. За день он спел 28 девочкам, 19 мальчикам, 8 тетям и 3 дядям. Сколько именинников порадовал Гена?

20 очков

Правильный ответ: 58



Чебурашка устроился на работу в магазин: проверять хорошие ли апельсины привозят из Африки. Он открывает ящик и съедает каждый сотый апельсин. Если они хорошие, то их продают, а если плохие – выбрасывают. Чебурашка открыл 5 ящиков по 60 апельсинов. Сколько апельсинов он съел? Правильный ответ: 3



30 очков



Чтобы разозлить Чебурашку и крокодила Гену, старуха Шапокляк сделала 12 пакостей Гене, 19 – Чебурашке и 39 – обоим вместе. Сколько пакостей старуха сделала зря, если они так ни разу и не рассердились?

40 очков

Правильный ответ: 70



Гена и чебурашка пошли в лес по грибы. Крокодил нашел 8 грибов, а Чебурашка в 3 раза больше. Сколько всего хороших грибов они набрали если половина найденных оказалась червивыми?

50 очков

Правильный ответ: 16



Маша упростила медведя отнести бабушке с дедушкой пироги. Девочка весит 20 килограмм, каждый пирог – полкилограмма. Сколько пирогов надо вынуть Маше из короба, чтобы медведь не заметил разницы в весе, когда он понесет короб с девочкой бабушке и дедушке?

10 очков

Правильный ответ: 40



Змей Горыныч вызвал на бой
трех богатырей Сколько голов
должен отсечь каждый
богатырь, если у змея их 12, а
богатыри поделили его головы
поровну? 20 очков



Правильный ответ: 4



**Чудо – Юдо рыба – кит
проглотило новгородского
купца Садко вместе с лодкой.
Купец весил 100 кг, лодка –
вдвое больше. На сколько
килограмм потяжелело Чудо –
Юдо, если самого Садко оно
выплюнуло обратно?**

30 очков

Правильный ответ: 200



В школе для бесенят было 10 учеников. На дом каждому задали совершить по три мелких пакости. Один бесенок не выполнил задание. Сколько мелких пакостей было выполнено бесенятами?



40 очков

Правильный
ответ: 27



Жадный продавец шаров схватил одновременно 20 шаров и полетел в небо. Он весил 50 кг. Каждый шар поднимает 3 кг. Сколько шаров должен выпустить продавец, чтобы начать спускаться?

50 очков

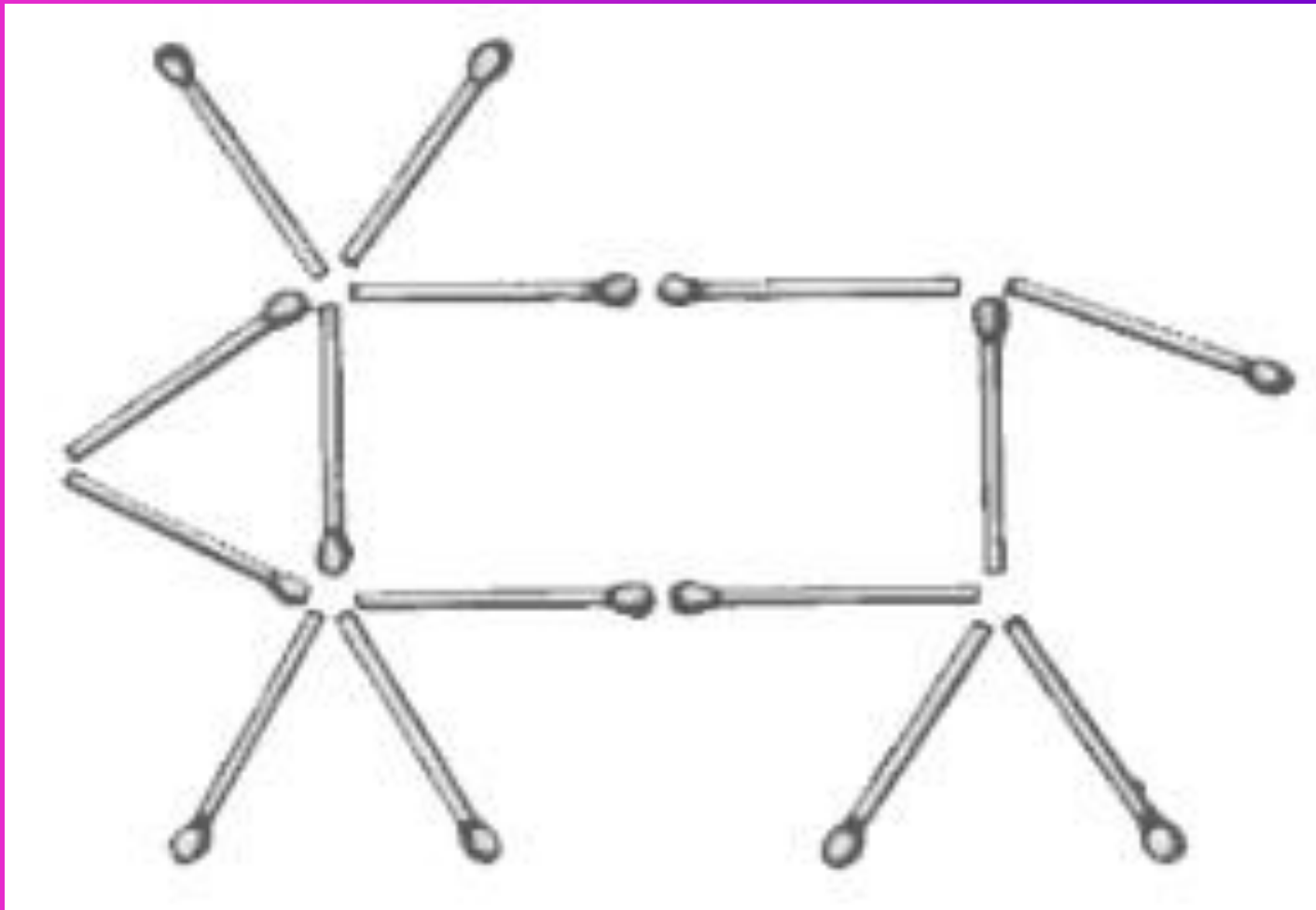
Правильный ответ: 4



3 тур – «Головоломка»




На рисунке вы видите корову, у которой есть всё, что полагается: голова, туловище, ноги, рога и хвост. Корова на рисунке смотрит влево. Переложите ровно две спички так, чтобы она смотрела вправо.




34+89=400?

Переставьте всего одну спичку так, чтобы равенство стало верным.




gadaika.ru

Нужно переложить одну
спичку так, чтобы
получилось равенство.




gadaika.ru

А вот и правильный ответ:




А вот и правильный ответ:



gadaika.ru

А вот и правильный ответ:



gadaika.ru

Подведём итоги

