

Сарыағаш ауданы № 136 негізгі орта мектеп

АШЫҚ сабақ



Бастауыш сынып мұғалімі: Назарова Г.Т



Сабақтың мақсаты:

Білімділік:

Өтілген тақырыптарды қайталау және жүйелену.

Дамытушылық:

Ойлау қабілеттерін, өз беттерімен жұмыс жасауын дамыту, математикаға деген қызығушылығын арттыру.

Тәрбиелік:

Алған білімдеріне жауапкершілікпен қарауға, өз мүмкіндігіне сенуге, үлкен жетістікке ұмтылуға үйрену.

Әдісі: сұрақ-жауап, көрнекілік,
есептерді шығару

Көрнекілік: кеспе қағаз, слайд,
кесте,
логикалық тапсырма.



Сабақтың барысы

I. Ұйымдастыру кезеңі

1. Оқушылардың сабаққа даярлығын тексеру.
2. Психологиялық дайындық.
Ойға толсын санамыз,
Бестік болсын бағамыз.
Баласындай бір үйдің,
Тату болсын арамыз
3. Топқа бөлу

II. Қызығушылықты ояту.


8 санының құрамын тап? “ досын тап ”





II – топ

Маймыл бұтақта банан жеп отыр. Оның әр қолында 1 – ден банан бар. Әр аяғында қолындағыдан 1 банан артық. Маймылда қанша банан бар?



Әр бұтақта 1, 2, 3, 4, 5, 6 банан бар. Осы банандарды 3 маймылға бұтақтан үзбестен теңдей бөліп бер. Әр маймылға қанша бананнан, барлығы қанша банан бар?



Мағынаны тану

1. Есепті шығар.

Екі ыдыста 5 л құлпынай тосабы бар. Екінші ыдыста 3л.
Бірінші ыдыстағы тосап, екіншісіндегіден неше литр кем?

Шарты: Барлығы – 5 л

Екіншісінде – 3 л

Біріншісі екіншісіндегіден қанша кем?

Шешуі: $5 - 3 = 2$

$3 - 2 = 1$

Жауабы: 1 л кем.



ТОПТЫҚ ЖҰМЫС

I – топ

Бір стакан айран 45 теңге, бір стакан сүт одан 15 теңге арзан. Екеуі қанша тұрады?

II – топ

Бір стакан айран 45 теңге, айран мен сүт 75 теңге тұрады. Бір стакан сүт қанша теңге тұрады?

III – топ

Бір стакан сүт 30 теңге, сүт пен айран 75 теңге тұрады. Бір стакан айран қанша тұрады?





3 – тапсырма теңдеуді шешу

I – топ: $38 + x = 80$

II – топ: $x - 38 = 42$

III – топ: $80 - x = 38$







“Кім шапшаң?” ойыны.

Теңдік тура болатындай етіп, жақшалар қой.

I – топ: $42 - 1 + 2 = 39$

$$25 - 6 + 4 = 15$$

II – топ: $40 - 9 + 6 = 25$

$$35 - 5 - 2 = 32$$


III – топ: $8 - 13 - 5 = 0$

$$14 - 7 + 2 = 5$$





Ой қозғау



Кестемен жұмыс.

I – топ: Ондықтары да бірліктері де бірдей саннан тұратын екі таңбалы сандарды жаз.

II – топ: Бірлігі тоғыз, ондығы әр түрлі екі таңбалы сандарды жаз.


III – топ: Бірліктері әр түрлі, ондығы алтыға тең болатын екі таңбалы сандарды жаз.

Үйге тапсырма:

7. жазуды жалғастыр

Бағалау.

Рефлексция



Кері байланыс





Назарларыңызға рахмет

