

Презентация к уроку математики 1 класс

Тема: Решение задач.



классов
ООШ»
са Николаевна

Вместо снежинок вставь
числа, чтобы равенства
были верными.

$$*+3=7 \quad 6-*=3 \quad 4+*=6$$

$$5+*=9 \quad *+1=10 \quad 9-3=*$$

$$10-*=8 \quad 7+2=* \quad *-8=2$$

Реши «Весёлые задачи»,
ответ покажи с помощью
числового веера.

Пять зелёных лягушат
На песочке в ряд лежат.
Одному из пяти братцев
Захотелось искупаться.
Остальным же неохота
Возвращаться вновь в болото.
Сколько лягушат лежат на песке?



На прогулку из яслей
Вышло десять малышей.
Пять из них на травку сели,
Остальные – на качели.
Сколько ребят село на качели?



Я на пне, как на тарелке,
Так опёнки разделил:
Три гриба ежу оставил,
Три в корзинку положил.
Сколько я собрал грибов?
Сосчитай! Ответ готов?



Блиц-вопросы

- ◆ У какой фигуры три угла?
- ◆ Сколько цветов у радуги?
- ◆ У какой фигуры нет углов?
- ◆ Чем луч отличается от отрезка?
- ◆ Увеличьте число пять на один.
- ◆ Как называются числа при сложении?
- ◆ Назовите число, следующее за числом пять.
- ◆ Назовите число, следующее за числом десять.
- ◆ Сколько лапок у двух цыплят?
- ◆ Сколько хвостиков у четырёх поросят?
- ◆ Сколько солнышек на небе?
- ◆ А сколько звёзд на небе?
- ◆ Из каких частей состоит задача?



Установи соответствие

У Ани 5 конфет.
Она отдала брату две.

Вопрос.

$$5 - 2 = 3$$

Ответ

Сколько конфет
осталось у Ани?

Решение

3 конфеты осталось у
Ани.

Условие

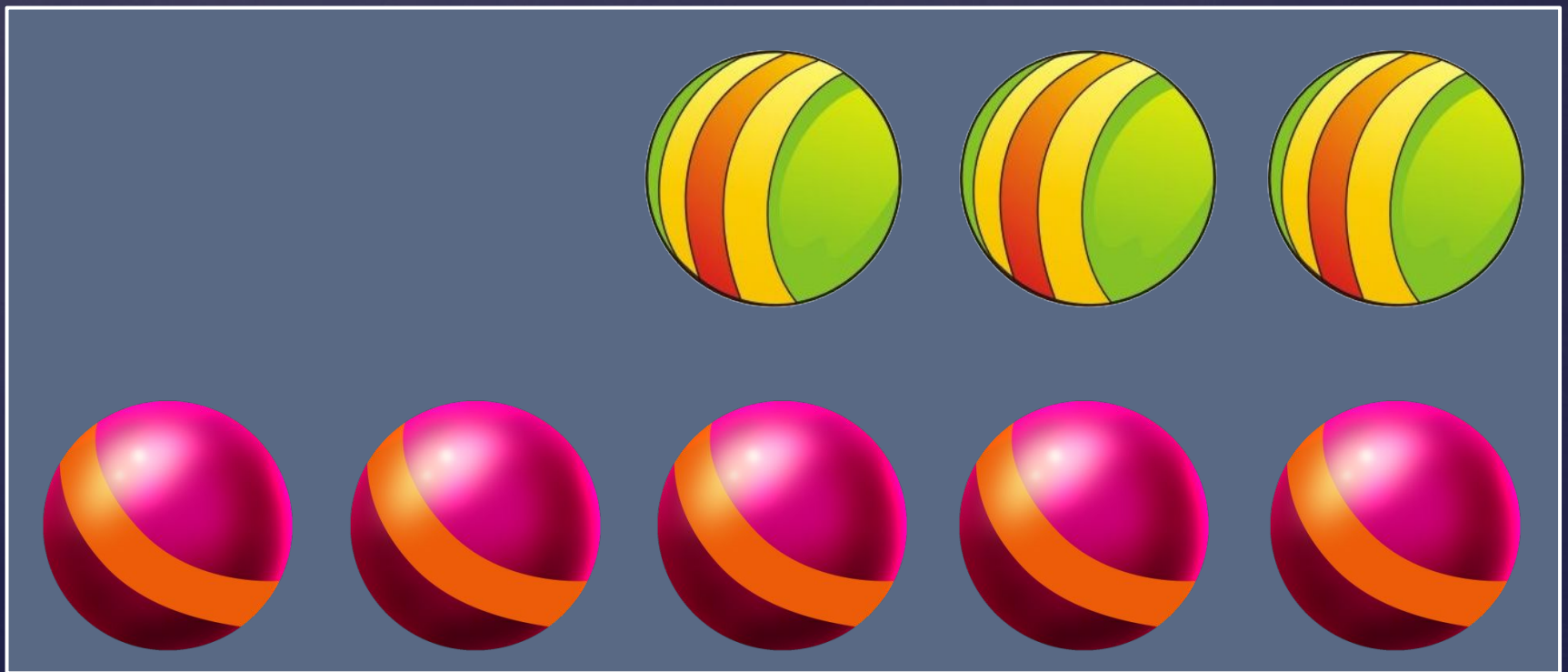
Из четырёх текстов выбери текст, который можно назвать задачей. Сделай схематический рисунок и реши задачу.

1. Уронили мишку на пол,
Оторвали мишке лапу.
Всё равно его не брошу,
Потому что он хороший.
2. У Кати есть три медвежонка
и две куклы. Катя очень любит свои
игрушки.



3. Вернулись медведи домой.
Медвежонок закричал:
«Кто сломал мой стульчик?»
4. Мама-медведица поймала 7 рыбок.
5 рыбок отдала медвежатам.
Сколько рыбок съела мама сама?



Составь по рисунку задачу на сложение. Сделай схематический рисунок, реши её.



Сравни схему и решение
с эталоном.



$$5 + 3 = 8 \text{ (м.)}$$

Ответ: 8 мячей.

Составь задачу на
вычитание.

