

Сәлемдесу



*Қайырлы күн, достым!
Қайырлы күн болсын!
Сейсенбінің сәті
Сәттілікке толсын!
Біздің алар бағамыз
Кілең «бестіктер» болсын!*






Саннын пайызын таб



Пән мұғалімі: Елеусізова Ж.Ж



L/O/G/O

Сабақтың мақсаты:



- 1. Пайыз және берілген санның пайызын табуға есептер шығару;*
- 2. Логикалық ойлау қабілеті мен есептеу дағдыларын жетілдіру, өз бетінше еңбектену, белсенділіктерін арттыру, пәнге қызығушылығын ояту;*
- 3. Оқушылардың өз ойын толық, дұрыс жеткізе білуге, тапқырлыққа, жылдамдыққа тәрбиелеу.*



Үй тапсырмасын сұрау



Дұрыс теңдікті таңда!

1


$$1\% = 0,01$$

2

$$1\% = 0,001$$

3

$$1\% = 0,1$$



ДҰРЫС!

ОЙЛАН!

4

$$1\% = 1$$




1

2

3

4



8% ондық бөлшек түрінде жазыңдар



1

0,008

ДҰРЫС!

2

0,08

ОЙЛАН!

3

8

4


0,8

1

2

3

4



300-ң 1% неге тең?

1

300

2

3

3

3 000

4

30

ДҰРЫС!

ОЙЛАН!



1

2

3

4



80-нің 2% неге тең?



1
160

2
16

3
1,6

4
0,16

ДҰРЫС!

ОЙЛАН!


Two yellow cartoon smiley faces with large eyes and black arms. The top smiley face is winking and pointing its right index finger upwards. The bottom smiley face is looking thoughtful and pointing its right index finger to the right. Two yellow speech bubbles with blue outlines are connected to the faces. The top bubble contains the word 'ДҰРЫС!' (Correct!) and the bottom bubble contains 'ОЙЛАН!' (Think!).

1






2

3

4



180-нің 25% неге тең ?



Бидайдан 60 % ұн алынады. 3,5 тонна бидайдан қанша тонна ұн алынады?



ДҰРЫС!

ОЙЛАН!

1
4,2

2
21

3
0,21


4
2,1

1

2

3

4



Күртеше бағасы 4000. Көкітемді жеңілдетілген

сатылымда
оның бағасы 20% арзандады. Күзде оның бағасын 20%
жоғарылады. Бұл екі өзгерістен кейін күртеше
бағасы қандай

болды? **1**

4100

ДҰРЫС!

4

3940

2

4000

3

3840

ОЙЛАН...




1


2

3

4



Есептер шығару





Қарапайым пайызға арналған есептер

Санның пайызын табу.

Пайызы бойынша санды табу.

1.Турист 800км жүріп өтті, барлық жолдың 20% не құрайды және туристтің белгіленген жолы қандай?

2.Студенттер 2800 ағаштар отырғызды, оның 40% қайың. Студенттер қанша қайың отырғызды?

СЕРТИТИ СӘТИ

L/O/G/O



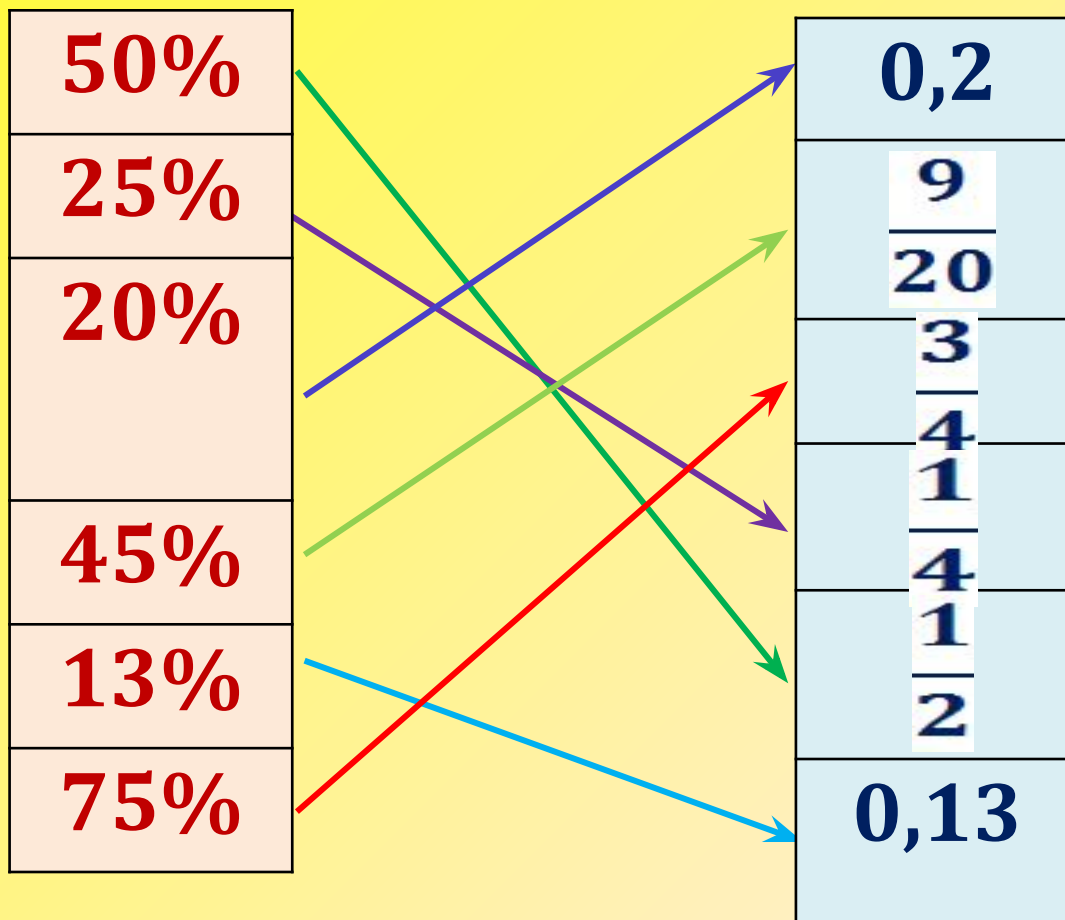
Бекіт





Математикалық ФУТБОЛ!

Мына байланыстарды тап!



Үйге тапсырма





Рефлексия

- Сендер бүгінгі сабақта нені білдіңдер?
 - Сабақта нені үйрендіңдер?
 - Мен сендермен мынадай көңіл – күймен
қоштасамын
- Дәптерлеріңе бүгінгі сабақтағы көңіл –
күйлеріңді салыңдар.

