

***урок математики
в 1 « Б » классе***

Учитель : Овсянникова Галина Николаевна

Наш урок будет похож на сказку,
Нам без знаний никуда.
Взяв с собой, тетрадь, учебник,
ручку и указку отправляемся туда.

Итак, готовы вы отправиться в сказку?

Когда колокольчик прозвенит 3
раза надо:

2 раза топнуть левой ногой,
3 раза хлопнуть над головой

Произнести 1, 2, 3- сказка в гости
приходи!

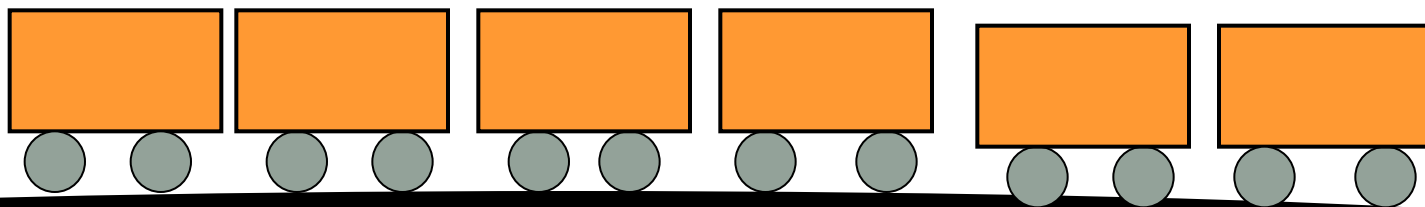




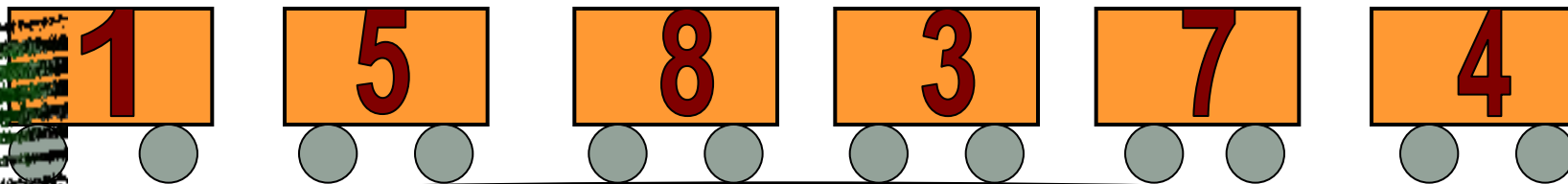
Я живу в лесной избушке,
Очень милая старушка.
Костяной стучу ногой.
Все зовут меня Ягой.



**Расставьте числа
в порядке возрастания**



Молодцы!

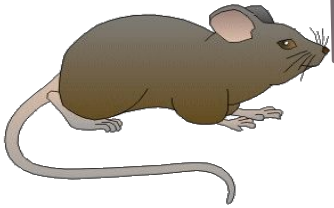


Кто в каком домике живёт ?

6



$7 - 4$



3



$10 - 2$



8



$5 + 4$



$3 + 2$



9



4



$3 + 1$



$8 - 2$



$$4 + 5 =$$



$$10 - 8 =$$



2

1



$$6 + 4 =$$



9



10



$$9 - 5 =$$



$$2 + 5 =$$



8

7

$$9 - 6 =$$



3



2



$$2 + 4 =$$




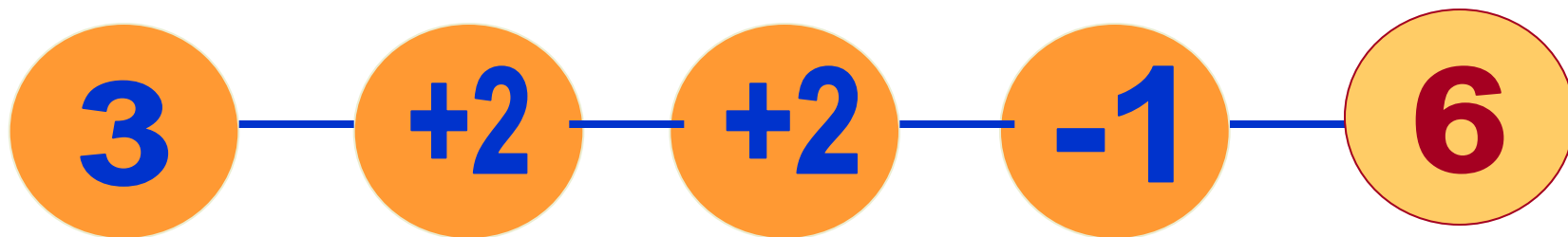
7




6



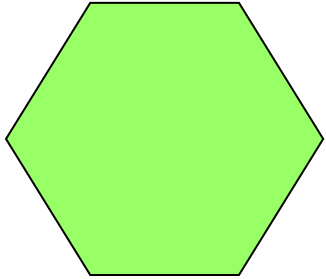

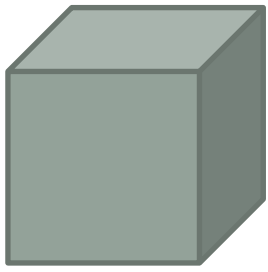


Вычисли



Молодцы!



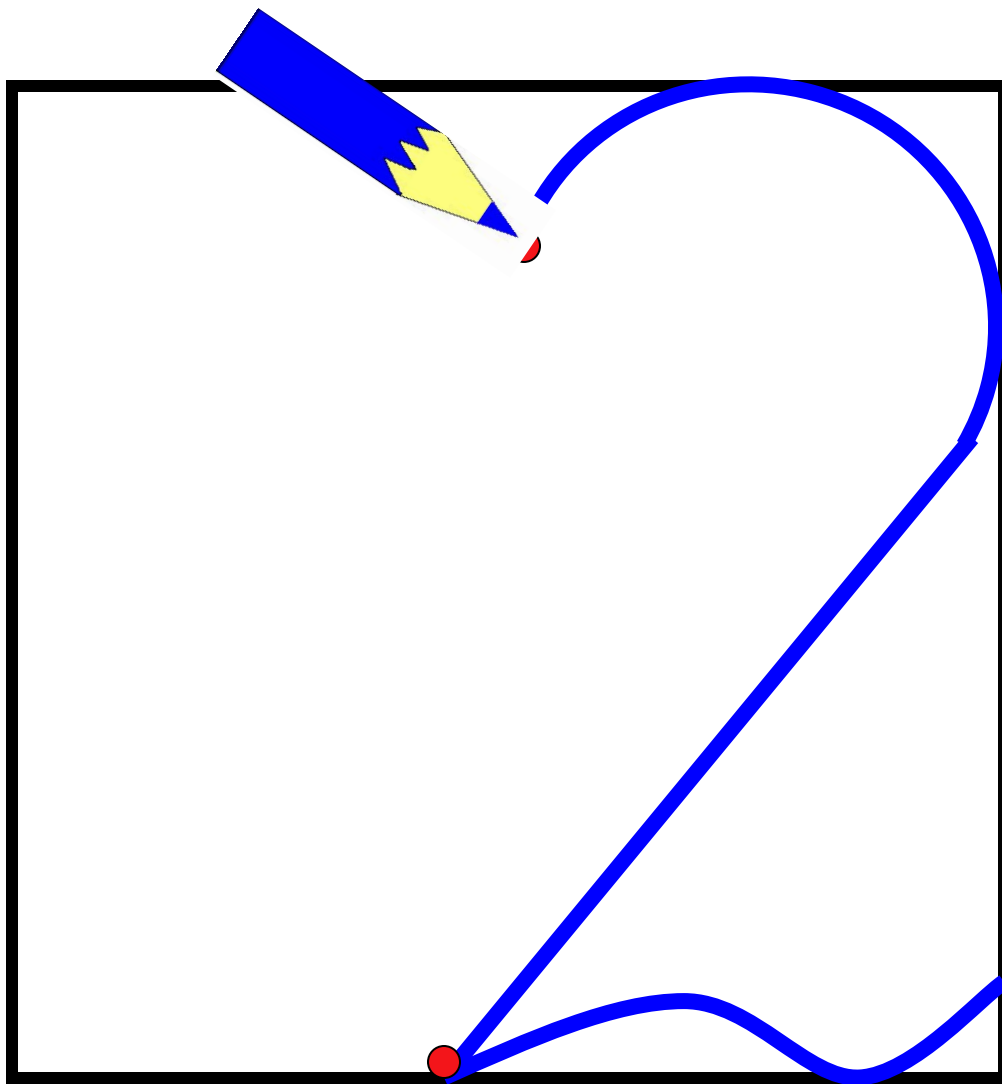




**Дед бил, бил – не разбил.
Баба била, била – не разбила.**

15
февраля.





А вот это – цифра два:
Есть и хвост, и голова
С длинной шеей
лебединой.
Переходит шея в спину.



Заполни пропус

$3 + 2 = 5$



$8 + \square = 10$



$7 + 2 = 9$

$4 + \square = 6$

$6 + 2 = 8$

$\square + 2 = 7$

$2 + 5 = 7$

$2 + \square = 9$

Молодцы!

«Стоит в поле теремок,
теремок,
Он не низок не высок, не высок.
Уж как по полю, лягушка бежит,



Физминутка.



Физминутка.



Физминутка.



Физминутка.





9

2



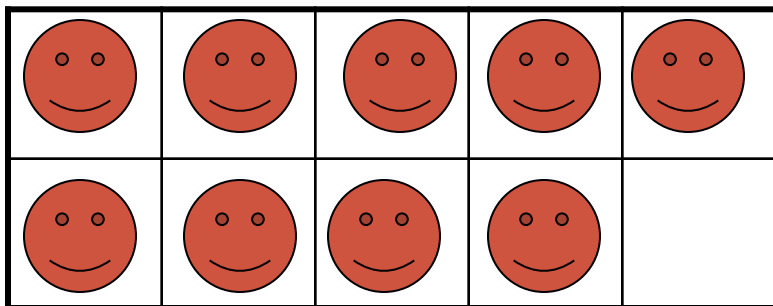
Сколько грибов съедобных и несъедобных всего я нашёл на полянке?



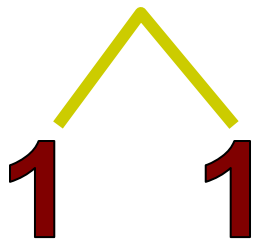

$$9 + 1 + 1 = 11$$



Модель числа.



$$9 + 2 =$$



$9+2=$

11



$2+9=$

11



Задача.

9 см



11 см



**– Сестрица Алёнушка, хлебну я из
копытца!**

– Не пей, братец, телёночком станешь!





$$2 - 2 = 0 \text{ (M.)}$$





$$2 + 2 = 4 \text{ (б.)}$$

$$2 \circ 2 = 4 \text{ (б.)}$$



Исправьте ошибки

$2+2=4$

$8+2=10$

$2+0=2$

$9+2=11$

$4+2=6$

$2+7=9$





3

4

6

По трапу шли 12 лап. Сколько я видел собак?



12





$$12 : 4 = 3$$



3

4

6

По трапу шли 12 лап. Сколько я видел собак?

- До чего хитрая! Высоко сидит, далеко глядит!

Поднял корзину и пошел дальше.

Прошел еще немного и говорит:

- Сяду на пенек,
Съем пирожок!



МОЛОДЦЫ !



Маша и Медведь

Спасибо!



Домашнее задание

Рабочая тетрадь: с. 25, № 2, 3.

