

$4+15=19$



# МАТЕМАТИКА

## 1 класс

### САНТИМЕТР И ДЕЦИМЕТР

Лукина Фаина Алексеевна  
МБОУ «СОШ №20 им. В. Митты с УИОП»  
Г. Новочебоксарск

$2 \times 4 = 8$




$5+9=16$

# Учебные задачи:

- \* ПОЗНАКОМИТЬСЯ С ЕДИНИЦЕЙ ИЗМЕРЕНИЯ ДЛИНЫ – ДЕЦИМЕТРОМ;
- \* УЗНАТЬ, КАК НОВАЯ ЕДИНИЦА ДЛИНЫ СВЯЗАНА С САНТИМЕТРОМ;
- \* НАУЧИТЬСЯ ЗАПИСЫВАТЬ ДМ И ПОТРЕНИРОВАТЬСЯ В ИЗМЕРЕНИИ.



# Объяснение нового:



10 единиц – это 1 десяток


10 см – это 1 десяток сантиметров =

1 дециметр

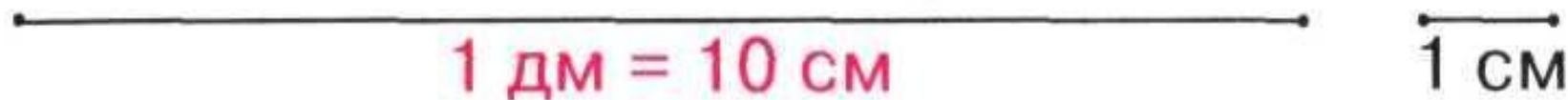
10 см = 1 дм

1 дм = 10 см

1 см < 1 дм



1. 10 см — це один дециметр.



2.



1 дм 2 см

# СДЕЛАЙ САМ:

18 см = ... дм ... см


11 см = ... дм ... см

14 см = ... дм ... см

1 дм 5 см = ... см

1 дм 7 см = ... см

2 дм = ... см



# ПРОВЕРЬ СЕБЯ:

$$18 \text{ см} = 1 \text{ дм } 8 \text{ см}$$


$$11 \text{ см} = 1 \text{ дм } 1 \text{ см}$$

$$14 \text{ см} = 1 \text{ дм } 4 \text{ см}$$

$$1 \text{ дм } 5 \text{ см} = 15 \text{ см}$$

$$1 \text{ дм } 7 \text{ см} = 17 \text{ см}$$

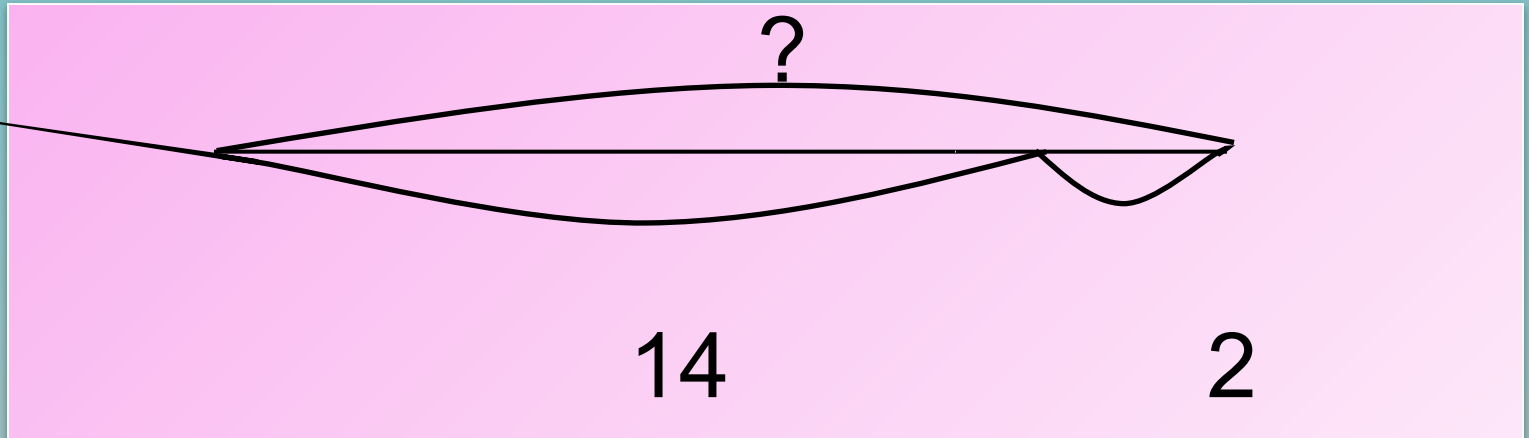
$$2 \text{ дм} = 20 \text{ см}$$



# РЕШИ ЗАДАЧУ

Рост Толи 14 дм. А Миша на 2 дм выше, чем Толи. Какой рост у Миши?

# ПРОВЕРЬ СЕБЯ:



$$14 + 2 = 16 \text{ (дм)}$$

**Ответ: 16 дм**





**МОЛОДЦЫ!!!**



# Использованные ресурсы:

- <http://olesya-emelyanova.ru/index-zagadki-cifry.html> - загадки о цифрах, автор – Олеся Емельянова.
- <http://www.dobrieskazki.ru> – раскраски, сказки, стихи о цифрах
- <http://viki.rdf.ru/item/581/> - слайды с написанием цифр из презентации Светланы Шевцовой «Учимся писать цифры»
- <http://how.sergi.ru/faq/schet.html> - С. Маршак «Весёлый счёт»
- [http://www.brainmusic.ru/cartoon\\_film/2/17.MP3](http://www.brainmusic.ru/cartoon_film/2/17.MP3) - Чунга-Чанга
- <http://wrinkles.ru/wp-content/uploads/2009/02/banani.jpg> - картинки
- <http://s48.radikal.ru/i121/0807/79/184ad40ba05a.png> -картинки