

**Фрагмент урока математики во 2 классе
УМК «Школа России»
авторы: Моро М. И., Бантова М. А. и др.**

Задачи на умножение


Автор презентации:

учитель начальных классов МОУ СОШ №42

г. Братска Иркутской области

Красикова Светлана Эдуардовна

В букете 5 гвоздик. Сколько
гвоздик в 3 таких букетах?




$$5 + 3$$


$$5 \times 3$$

$$3 \times 5$$

Щелкни мышкой по правильному решению



Глухарь весит 6 кг. Какой вес нужно выдержать сосновой ветке, если на нее сядут 2 одинаковых по весу глухаря?




6 кг


10 кг

12 кг

Щелкни мышкой по правильному ответу



На клумбу высадили 4 ряда тюльпанов по 9 штук в каждом ряду. 3 цветка вымерзли. Сколько тюльпанов осталось на клумбе?




$$9 - 3 * 4$$


$$9 * 4 - 3$$

$$4 * 9 - 3$$

Щелкни мышкой по правильному решению




В параде участвовало 3 одинаковых отряда самолетов. Сколько было самолетов в одном отряде, если всего было 18 самолетов?



$$18 * 3$$

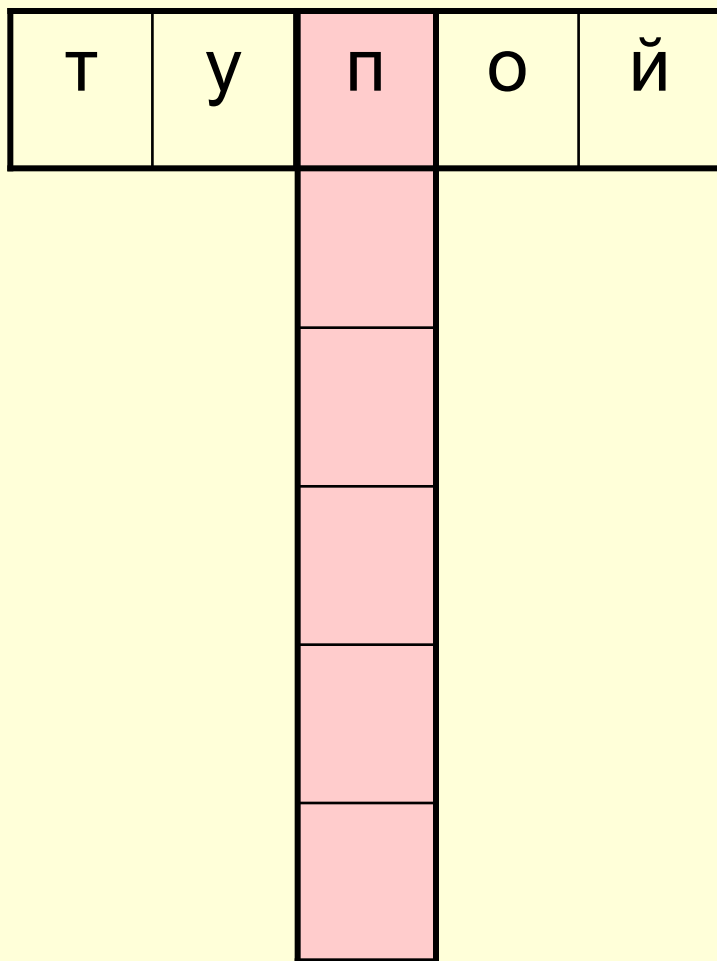
$$18 - 3$$

$$18 : 3$$



Щелкни мышкой по правильному решению

Скрытое слово (шаг 1)



умножение

квадрат

ромб

периметр

уравнение

тупой

НЕПРАВИЛЬНО!

Скрытое слово (шаг 2)

	Т	У	П	О	Й						умножение
У	М	Н	О	Ж	Е	Н	И	Е			ромб
											квадрат
											периметр
											уравнение
НЕПРАВИЛЬНО!											

Скрытое слово (шаг 6)

	Т	У	П	О	Й				
У	М	Н	О	Ж	Е	Н	И	Е	
Р	О	М	Б						
		П	Е	Р	И	М	Е	Т	Р
К	В	А	Д	Р	А	Т			
	У	Р	А	В	Н	Е	Н	И	Е



уравнение

