

Увеличить

на...





Уменьшить

на...



Приглашаются

«седи» числа



Назови числа в порядке возрастания

5

4

8

7

2

3

0

2

3

4

5

6

7

8

9

Назови числа в порядке убывания

6

7

3

4

9

8

2

9

8

7

6


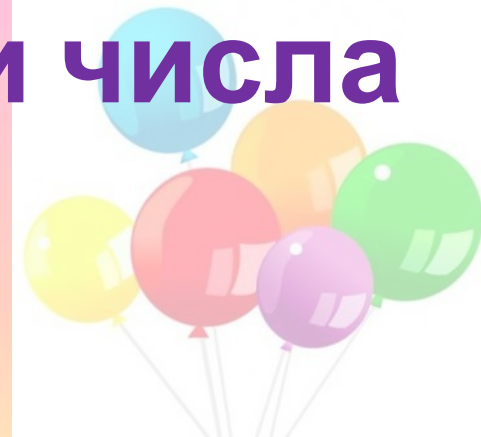

5

4

2

3

Сравни числа





+



=



-



=



+



=



-



=



+



=



-



=



+



=



-



=



Увеличь числа на 1



Уменьши числа на 1



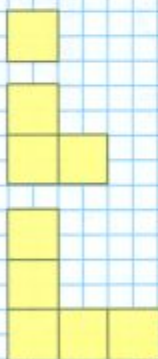


Увеличить на ...
Уменьшить на ...

Будем учиться увеличивать и уменьшать числа на несколько единиц; сравнивать длины отрезков.



КАКАЯ
ФИГУРА
СЛЕДУЮЩАЯ?



Увеличить.

$$7 + 1 = 8$$

$$8 > 7$$

$$8 + 1 = 9$$

$$9 > 8$$

$$9 + 1 = 10$$

$$10 > 9$$

Уменьшить.

$$10 - 1 = 9$$

$$9 < 10$$

$$9 - 1 = 8$$

$$8 < 9$$

$$8 - 1 = 7$$

$$7 < 8$$



$$1 + 3$$

$$4 - 3$$

$$1 + 4$$

$$5 - 4$$

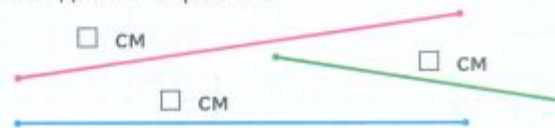
$$2 + 3$$

$$5 - 3$$

Составь и запиши равенства и неравенства.


$$\square \text{ см} > \square \text{ см} \quad | \quad \square \text{ см} = \square \text{ см} \quad | \quad \square \text{ см} < \square \text{ см}$$

Сравни длины отрезков.



Увеличить на ... Уменьшить на ...

Будем учиться увеличивать и уменьшать числа на несколько единиц; сравнивать длины отрезков.



Увеличить.

$7 + 1 = 8$

$8 + 1 = 9$

$9 + 1 = 10$

$8 > 7$

$9 > 8$

$10 > 9$

Уменьшить.

$10 - 1 = 9$

$9 - 1 = 8$

$8 - 1 = 7$

$9 < 10$

$8 < 9$

$7 < 8$



$1 + 3$

$1 + 4$

$2 + 3$

$4 - 3$

$5 - 4$

$5 - 3$





Составь и запиши равенства и неравенства.

\square см $>$ \square см | \square см $=$ \square см | \square см $<$ \square см

Сравни длины отрезков.



Аня вымыла 3 большие тарелки и 3 маленькие. Сколько всего тарелок вымыла Аня?



3

3

$$\Delta + \Delta =$$

?


$$3 + 3 = 6$$

Ответ: 6

Витя принёс 4 пакета кефира. За день выпили 3 пакета кефира. Сколько пакетов кефира осталось?




4



$$4 - 3 = 1 \text{ (п.)}$$


Ответ: 1 пакет.

Саша начертил отрезок длиной 6 см. Аня продолжила этот отрезок на 1 см. Какой длины отрезок получился? Начерти его.



Увеличить на ... Уменьшить на ...

- Рассмотри рисунки. Рамку с равенством для перехода от рисунка слева к рисунку справа закрась жёлтым цветом, а от рисунка справа к рисунку слева зелёным.



$$7 - 2 = 5$$



$$5 + 2 = 7$$

- $8 + 1 = \square$

Сделай рисунок к записи.

$9 + 1 = \square \quad \underline{\hspace{2cm}}$

- Увеличь на 1:

3	6	8	5	7
<input type="checkbox"/>	<input type="checkbox"/>	<input type="checkbox"/>	<input type="checkbox"/>	<input type="checkbox"/>


 Уменьши на 1:

4	9	10	7	8
<input type="checkbox"/>	<input type="checkbox"/>	<input type="checkbox"/>	<input type="checkbox"/>	<input type="checkbox"/>

3	6	8	5	7
<input type="checkbox"/>	<input type="checkbox"/>	<input type="checkbox"/>	<input type="checkbox"/>	<input type="checkbox"/>

4	9	10	7	8
<input type="checkbox"/>	<input type="checkbox"/>	<input type="checkbox"/>	<input type="checkbox"/>	<input type="checkbox"/>

- Раскрась бусинки: одна — красная, две — синие, одна — красная, две — синие ...



Сколько красных бусинок?

Сколько синих бусинок?

Сколько всего бусинок?



