




Математический

?





Толя выше Пети, Петя выше Саши,
Дима ниже Саши.
Кто из мальчиков самый высокий?



Толя

В двух коробках лежат шарики: в одной – только белые, в другой – только чёрные. Известно, что одна из надписей верна, другая – ложна.

Какого цвета шарики в каждой коробке?

*Здесь лежат или
белые, или
чёрные шарики*

*Здесь лежат
чёрные шарики*



Чёрные шарики

Белые шарики





Что легче: яблоко или груша?





==




Сколько весит кирпич?





2 КГ



Трое рыбаков поймали 75 окуней и стали варить уху. Когда один рыбак дал 8 окуней, другой 12, а третий 7, то окуней у них осталось поровну. Сколько окуней поймал каждый рыбак?



24 окуня

28 окуней

23 окуня



Пришёл Иван-царевич в подземелье к
Кощею Бессмертному Василису
Прекрасную освободить. В подземелье
три темницы. В одной из них томится
Василиса, в другой расположился Змей
Горыныч, а третья темница – пустая. На
дверях есть надписи, но все они ложные.

«Здесь Василиса
Прекрасная»


«Темница 3 не пустая»

«Здесь Змей
Горыныч»

В какой же темнице Василиса?




«Здесь Василиса Прекрасная»



Попрыгунья-Стрекоза
половину времени
каждых суток красного
лета спала, третью часть
времени каждого суток
танцевала, шестую часть
– пела. Остальное время
она готовилась к зиме.

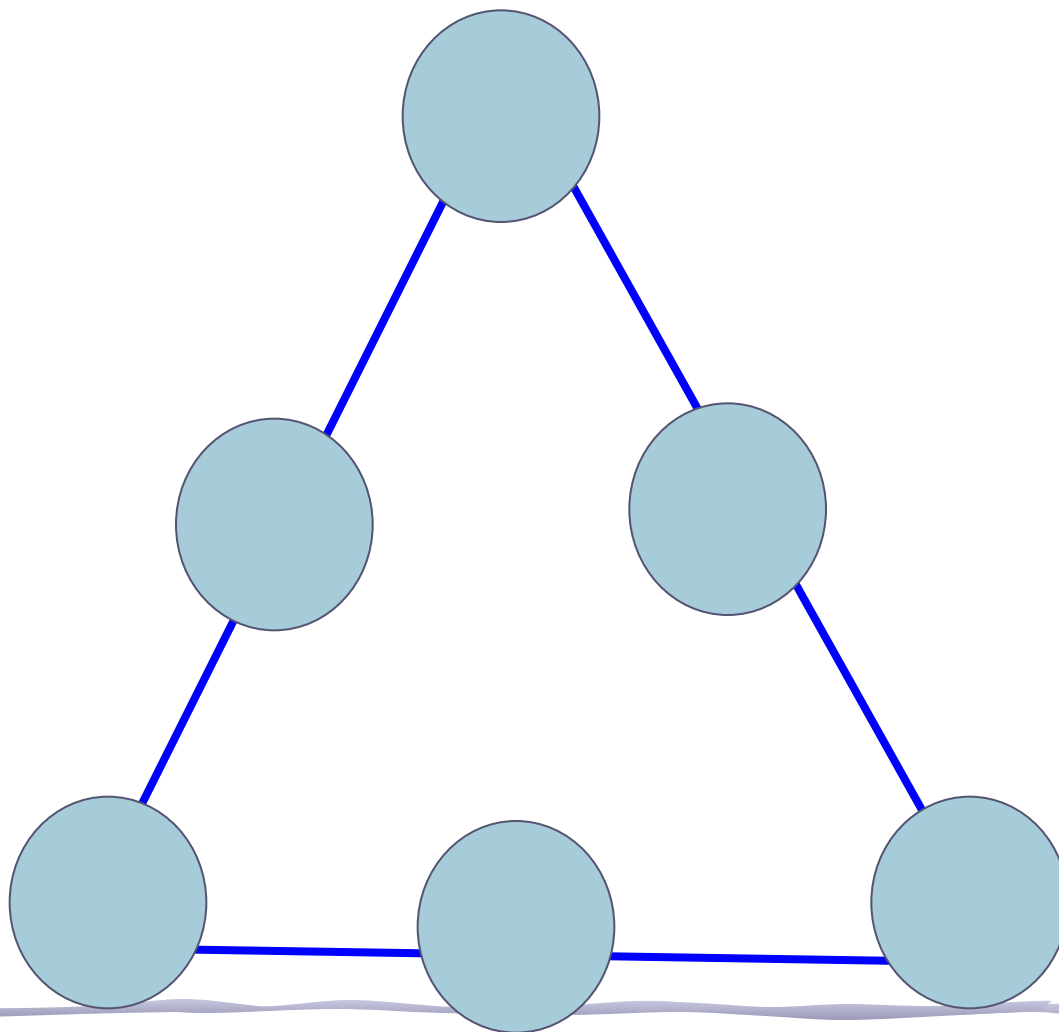
Сколько часов в сутки
Стрекоза готовилась к
зиме?

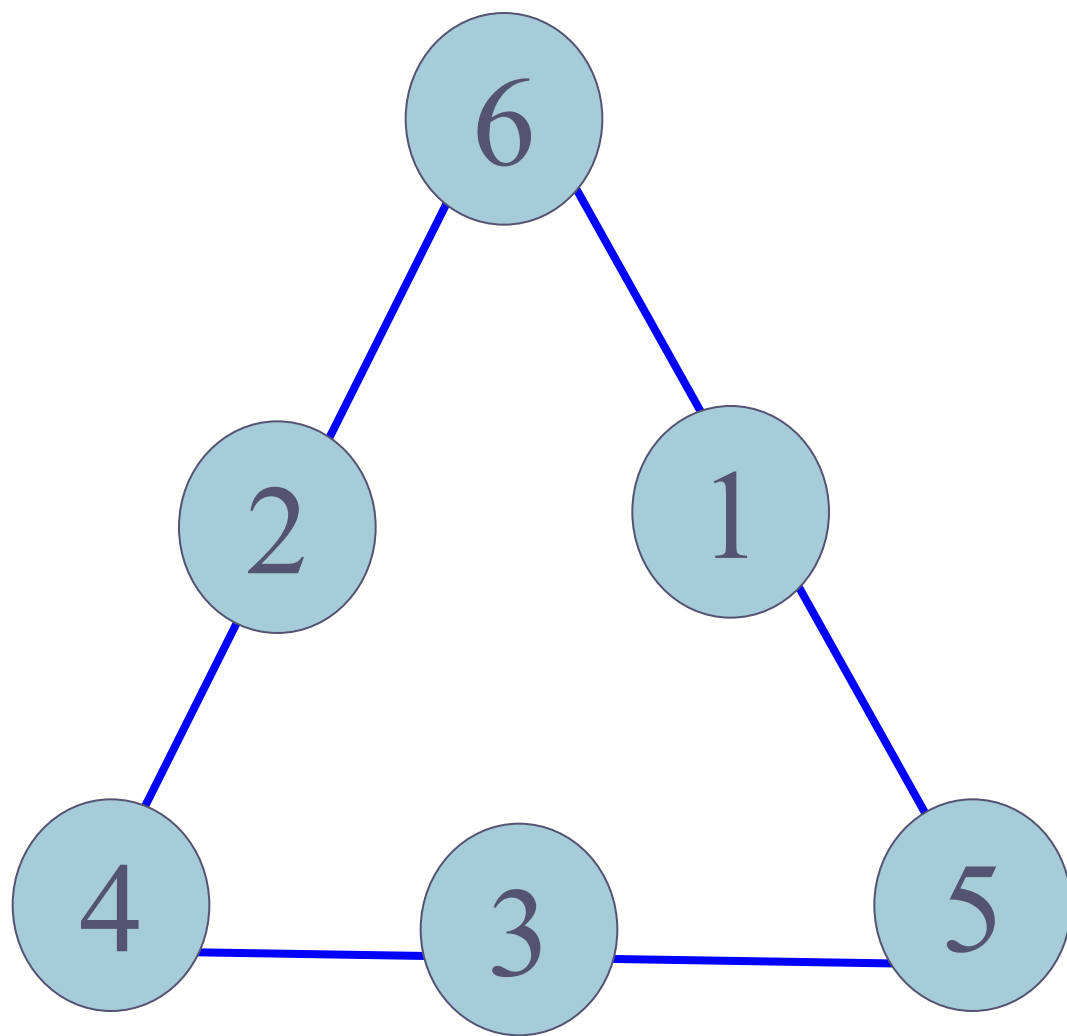




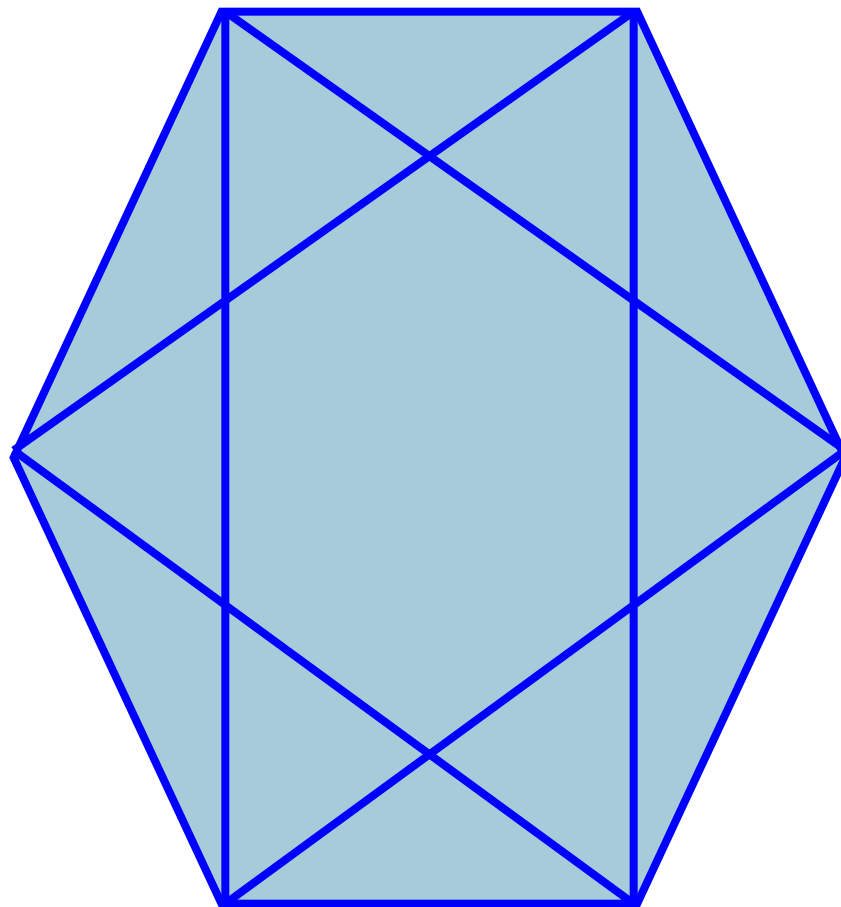
0 часов

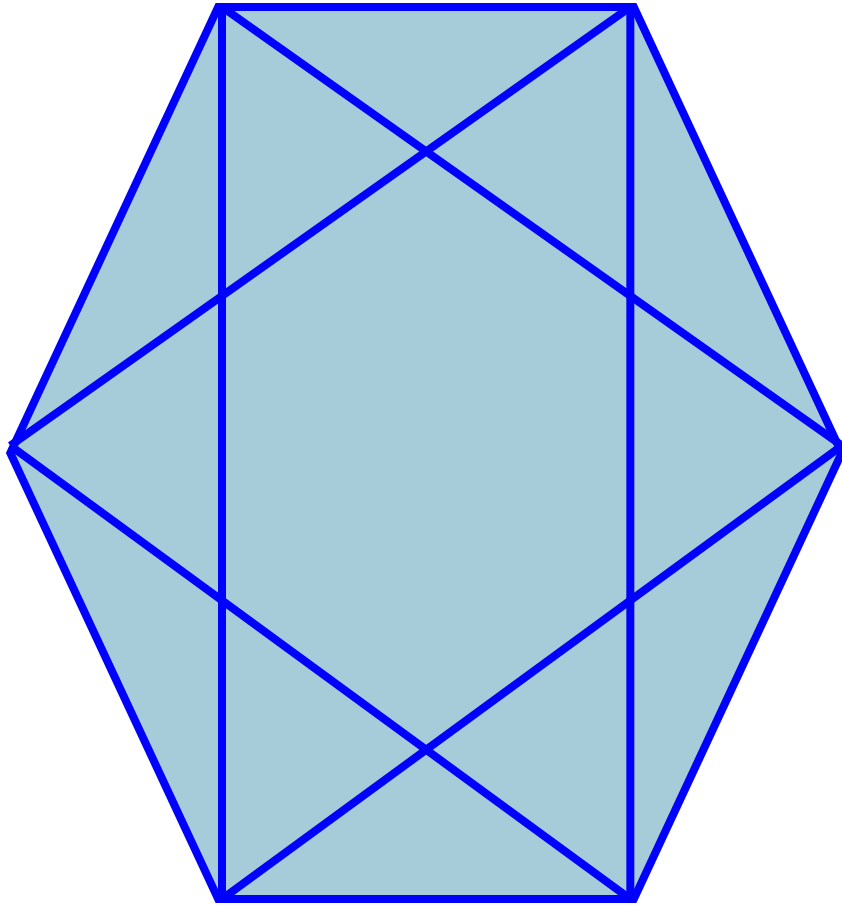
Расставь числа 1,2,3,4,5,6 в кружках так, чтобы сумма чисел
вдоль каждой прямой равнялась 12.






Сколько треугольников содержит фигура?






32



Однажды осенью в
11 часов вечера
шёл сильный
дождь. Как вы
думаете.


Возможна ли
солнечная погода
через 72 часа?







Нет.

Осенью в
11 часов
вечера
солнце
НЕ СВЕТИТ






Двое играли в
шашки 4 часа.
Сколько часов
играл каждый
из них?





4 часа



**Улитка за день
проползает по столбу
3 м вверх, а за ночь
опускается на 2 м. За
сколько дней она
доберётся до
вершины столба
высотой**

15 м?





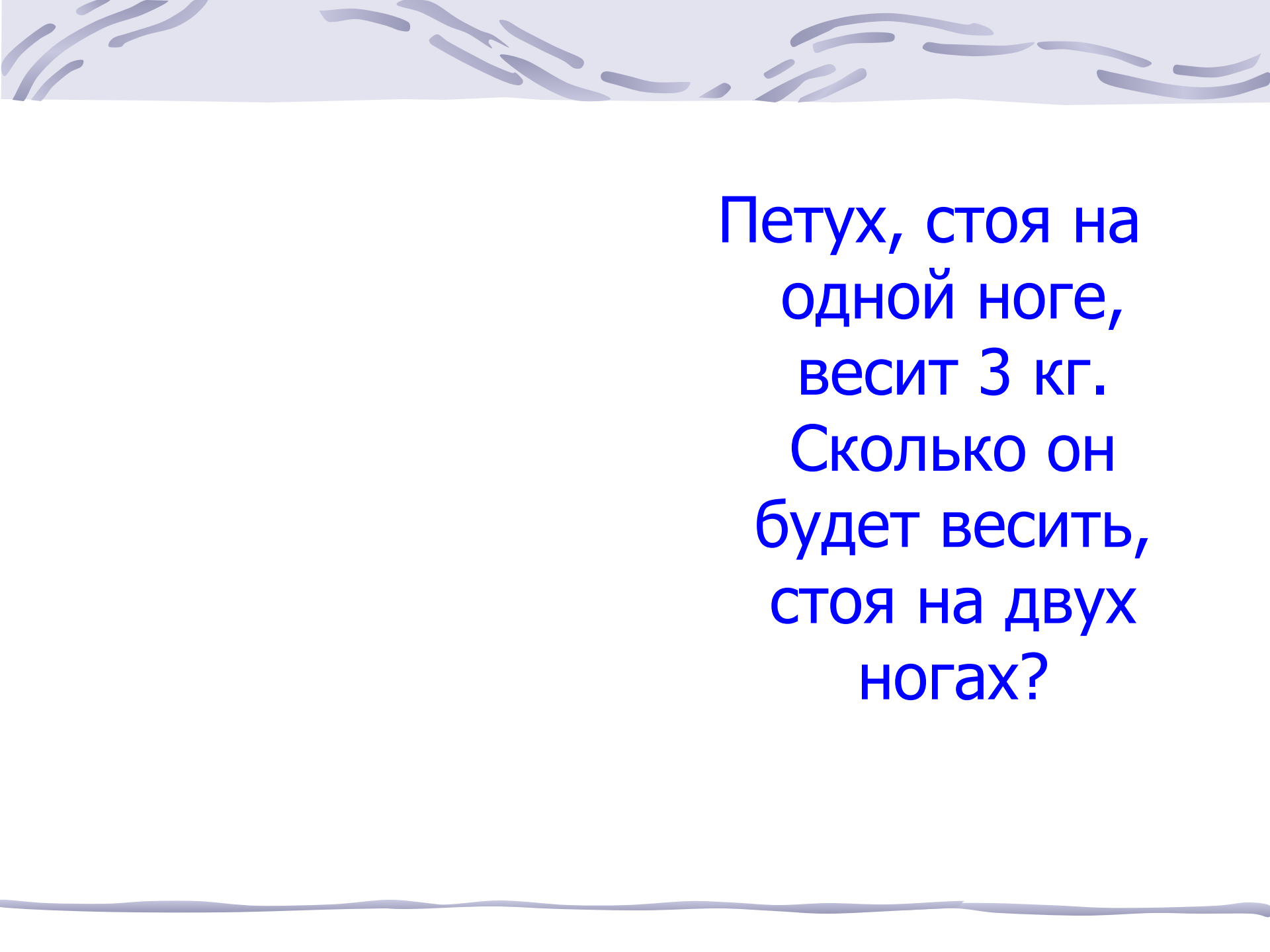
14 дней

Поезд отходит из Санкт – Петербурга в Москву, а через час другой поезд отправляется из Москвы в Санкт – Петербург. Скорости поездов одинаковы. Какой из них в момент встречи будет находиться на меньшем расстоянии от Москвы?



из Москвы в Санкт – Петербург







Петух, стоя на
одной ноге,
весит 3 кг.
Сколько он
будет весить,
стоя на двух
ногах?



3 кг



Имеются два сосуда вместимостью 3 л
и 5 л. Как с помощью таких сосудов
налить из водопроводного крана 4 л
в третий сосуд?





Как с помощью 7-литрового ведра
и 3-литровой банки налить в
кастрюлю ровно 5 л воды?



Отцу 38 лет, а
сыну 14. Во
сколько раз
отец был
старше сына 6
лет назад?




В 4 раза



Ваня живёт выше Пети, но ниже Сени,
а Вася живёт ниже Пети.

Кто из них на каком этаже
четырёхэтажного дома живёт?






Сеня

Ваня


Петя

Вася





Во дворе гуляли кролики и куры. Всего
12 голов и 38 ног. Сколько было
кроликов и сколько кур?





7 кроликов

5 кур




Продолжите ряд:

- 2, 3, 4, 5, 6, ...
- 10, 9, 8, 7, 6, 5, ...
- 5, 10, 15, 20, ...
- 24, 21, 18, 15, ...
- 1, 2, 4, 8, 16, ...
- 9, 1, 7, 1, 5, 1, ...
- 1, 4, 9, 16, 25, ...
- 1, 8, 27, 64, ...



- 2, 3, 4, 5, 6, ...
- 10, 9, 8, 7, 6, 5, ...
- 5, 10, 15, 20, ...
- 24, 21, 18, 15, ...
- 1, 2, 4, 8, 16, ...
- 9, 1, 7, 1, 5, 1, ...
- 1, 4, 9, 16, 25, ...
- 1, 8, 27, 64, ...

- 7, 8, 9, 10...
- 4, 3, 2, 1...
- 25, 30, 35...
- 12, 9, 6, 3...
- 32, 64, 128...
- 3, 1, 1, 1...
- 36, 49, 64...
- 125, 216...



Как расставить 16
стульев, чтобы у
каждой из четырёх
стен комнаты стояло:


- а) по 4 стула;
 - б) по 5 стульев.
- 



Расставьте скобки

$$6 \cdot 8 + 20 : 4 - 2 = 58$$


$$6 \cdot 8 + 20 : (4 - 2) = 58$$

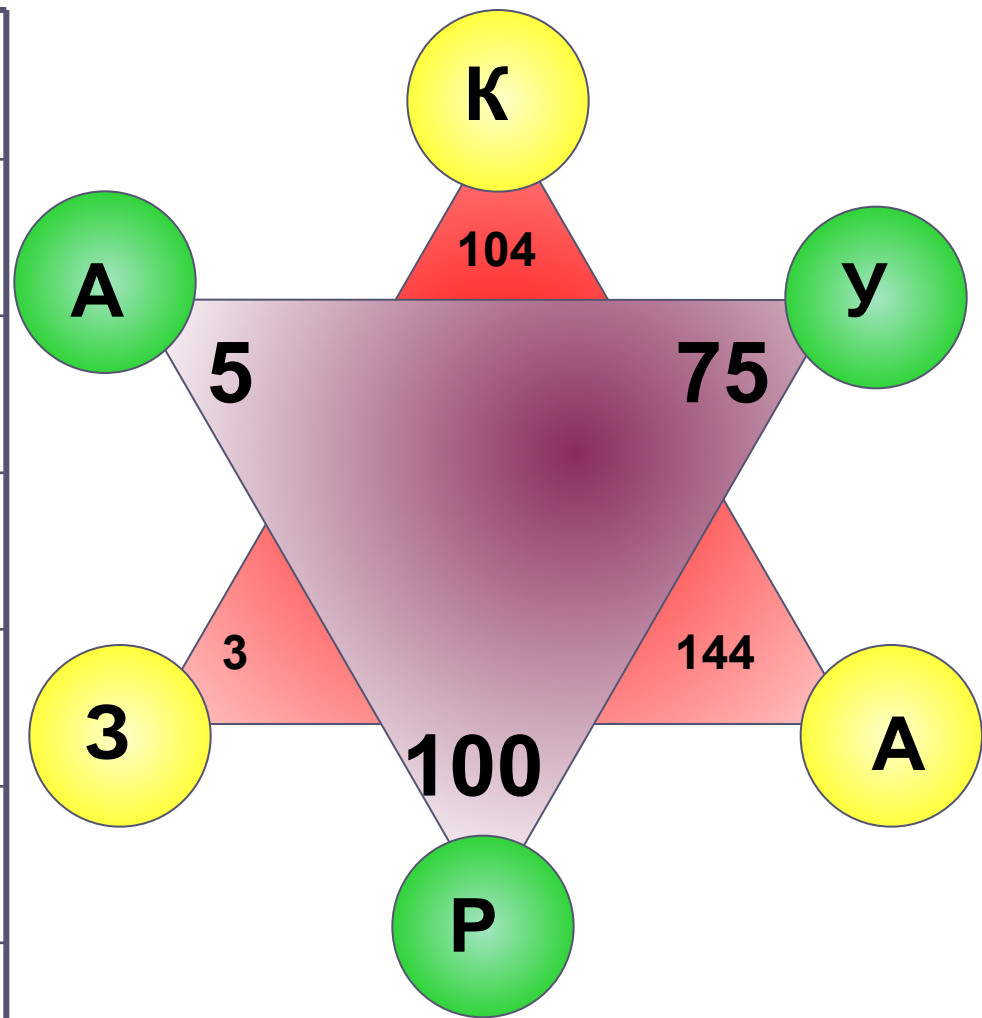



Живет эта шлемоносная птица в густых лесах Новой Гвинеи, в одиночку. Особенная у них внешность: перо черное, высокий роговой гребень на голове, словно шлем, а голая сверху шея ярко раскрашена: красная, желтая, синяя. Шлемом эта птица раздвигает густые сплетения ветвей, когда головой вперед ныряет в чащу.

Что за название у этой шлемоносной птицы?



<i>Пример</i>	Ответ: буква
123 – 19	
24 · 6	
81 : 27	
90 - 15	
125 : 25	
10 · 10	




<i>Пример</i>	Ответ: буква
123 – 19 = 104	к
24 · 6 = 144	а
81 : 27 = 3	з
90 – 15 = 75	у
125 : 25 = 5	а
10 · 10 = 100	р



Лестница успеха

Подумай!!!

**А на какой
лесенке
находишься
сейчас ты?**





Venerov

o n l l l l