

Какие числа пропущены?

Замечательно!

1
0

8

6

4


2


А что здесь получится?



Спасибо, ребята!

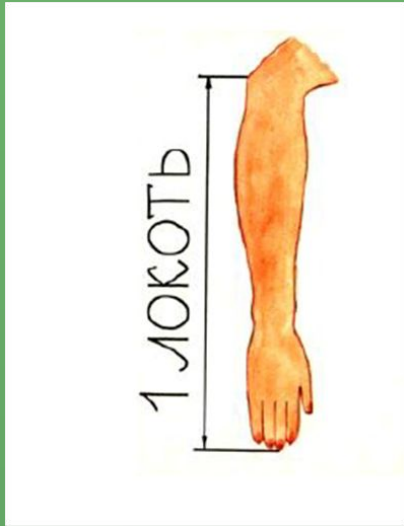
Найдите
спрятавшиеся на
картинке цифры и
запишите их в
порядке
возрастания



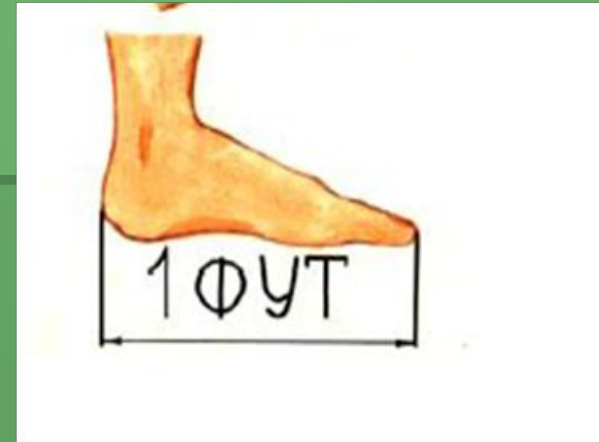
A blue cartoon elephant with large ears and glasses is standing in a savanna. The background shows a tree on the left and a yellowish landscape with some plants. A teal speech bubble is on the right.

***Спасибо,
ребята!***

Первые единицы измерения



Локоть – расстояние от локтя до конца среднего пальца



Фут - длина стопы.



Пядь - расстояние между концами вытянутого большого пальца и указательного пальцев рук.



Сажень -расстояние между концами пальцев распротёртых рук.



В швейной мастерской



Сантиметр





сантиметр

СМ

Почему разная длина полоски?

4 сантиметра

5 сантиметров






Оцени свою работу!



-было интересно.



-были трудности.



-было не интересно.