

О	Б	Р	А	З
---	---	---	---	---

				А
--	--	--	--	---


УЗНАЕМ НОВОЕ

Сложение с числом 0

1.

Сколько рыбок в двух аквариумах? Какие числа нужно сложить?

Ответ: и



2.

Сколько книг на левой полке?

Сколько книг на правой полке?



Сколько книг на обеих полках?

--	--	--	--	--	--

А	О	У	И	Я
		Ы	Э	Ю

Э	А	Я	Б	О
---	---	---	---	---

4. Запиши ответы.

$7 + 0 = \square$

$0 + 0 = \square$

$0 + 2 = \square$

$16 + 0 = \square$

5. Сколько всего белых грибов нашли мальчики?



Выбери верное решение.

$2 + 10 = 12$

$0 + 10 = 10$

$10 - 2 = 8$

ВСПОМИНАЕМ ПРОЙДЕННОЕ

6. Придумай и реши задачу.



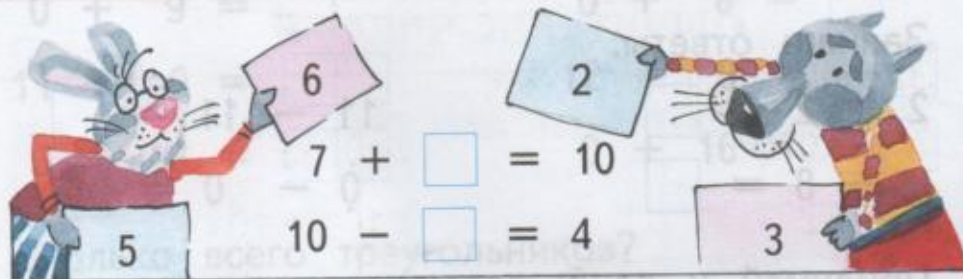
Решение:

--	--	--	--	--	--	--	--

Ответ:

Ответ:

8. Впиши в «окошки» подходящие числа.




9. Надо разложить 8 тетрадей на две полки поровну. Сколько тетрадей будет на каждой полке?

Решение:

--	--	--	--	--	--	--	--

Ответ:

10. Сколько книг: на нижней полке? на двух полках?



Решение:

1)					
2)					

Ответ: ,