

Урок математики



Девиз урока



Лучший способ
изучить что-либо
— открыть самому.

Реши задачу:

В зоопарке было 3 белых медведя и 12 бурых. На сколько больше бурых медведей, чем белых?



Реши задачу:

В зоопарке было 3 белых медведя и 12 бурых. Во сколько раз больше бурых медведей, чем белых?



Если правильно, ставим «+»,
неправильно – «-»

1) $24: 8 = 3$ (раза)

2) $28: 7 = 4$ (раза)

3) $62-27=35$ (каш.)

тест



1. Чтобы узнать на сколько единиц одно число больше или меньше другого, надо **ВЫПОЛНИТЬ:**

А) сложение

Б) вычитание

В) умножение

Г) деление



тест



2. Чтобы узнать во сколько раз одно число больше или меньше другого, надо **ВЫПОЛНИТЬ:**

- А) сложение
- Б) вычитание
- В) умножение
- Г) деление



тест



3. На сколько единиц число 36 больше, чем число 9?

А) 45

Б) 27

В) 4



тест



4. Во сколько раз число 36
больше, чем число 9?

А) 45

Б) 27

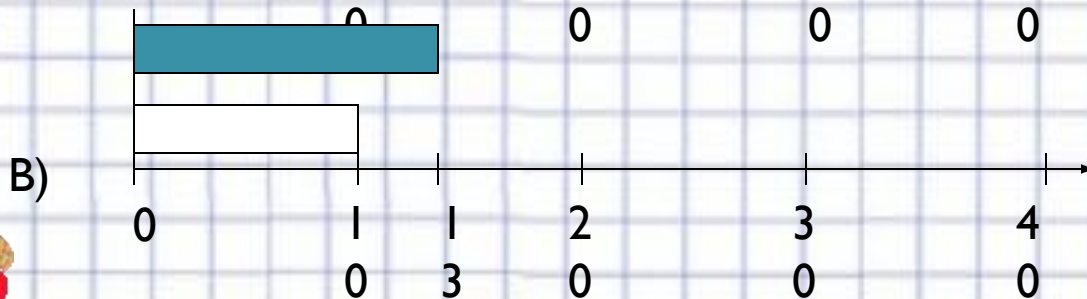
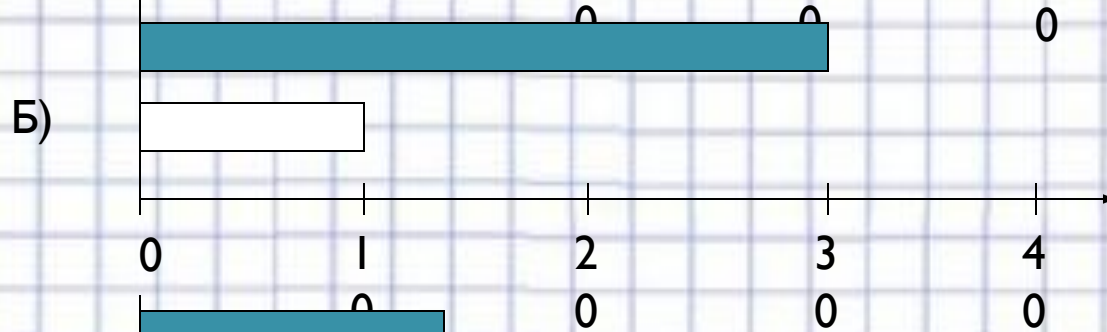

В) 4



тест

5. Какая диаграмма соответствует условию задачи?

На одной машине привезли 10 мешков свёклы, а на другой в 3 раза больше.






Проверь

1. Б
2. Г
3. Б
4. В
5. Б




УЗНАЙ ВИД ЗАДАЧИ ПО ЕГО РЕШЕНИЮ






Мне было
безразлично
на уроке



Мне было
интересно
на уроке



Мне не
понравился урок.
Я ничего не
понял



**Спасибо
за урок!**